



Medir el ancho y alto de cada bloque en pulgadas y en centímetros

Ej)



**Respuestas**

Ej. 3 0 1/2 7.6 1.3


1. \_\_\_\_\_

2. \_\_\_\_\_

3. \_\_\_\_\_

4. \_\_\_\_\_

1)




2)



3)


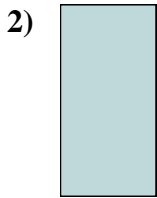



4)





Medir el ancho y alto de cada bloque en pulgadas y en centímetros



**Respuestas**

Ej. 3 0 1/2 7.6 1.3

1. 1 1/2 1 3.8 2.5

2. 0 1/2 1 1.3 2.5

3. 5 1/2 1 14 2.5

4. 1 1 1/2 2.5 3.8