



Medir el ancho y alto de cada bloque en pulgadas y en centímetros

Ej)



Respuestas

Ej. 5 1/2 0 1/2 **14** **1.3**


1. _____

2. _____


3. _____

4. _____

1)




2)



3)





4)





Medir el ancho y alto de cada bloque en pulgadas y en centímetros



Respuestas

Ej. 5 1/2 0 1/2 **14** 1.3

1. 3 1/2 1 1/2 **8.9** 3.8

2. **4** 0 1/2 10.2 **1.3**

3. **5** **1** 12.7 2.5

4. **1** **1** 2.5 2.5