





Medir el ancho y alto de cada bloque en pulgadas y en centímetros



Respuestas

Ej. 4 0 1/2 10.2 1.3

1. _____



2. _____

3. _____

4. _____



Medir el ancho y alto de cada bloque en pulgadas y en centímetros



Respuestas

Ej. 4 0 1/2 10.2 1.3

1. 0 1/2 1 1/2 1.3 3.8

2. 1 1/2 0 1/2 3.8 1.3

3. 5 1/2 0 1/2 14 1.3

4. 3 1 1/2 7.6 3.8