




Medir el ancho y alto de cada bloque en pulgadas y en centímetros

Ej)



1)



2)



3)



4)



**Respuestas**

Ej. 4 1 1/2 10.2 3.8

1. \_\_\_\_\_

2. \_\_\_\_\_


3. \_\_\_\_\_

4. \_\_\_\_\_




Medir el ancho y alto de cada bloque en pulgadas y en centímetros

Ej)



1)



2)



3)



4)



**Respuestas**

Ej. 4 1 1/2 10.2 3.8

1. 2 1 1/2 5.1 3.8

2. 3 0 1/2 7.6 1.3

3. 3 1/2 1 1/2 8.9 3.8

4. 0 1/2 0 1/2 1.3 1.3