





Medir el ancho y alto de cada bloque en pulgadas y en centímetros


Ej)




1)



2)



3)



4)



Respuestas

Ej. 2 1/2 1 6.4 2.5

1. _____

2. _____


3. _____

4. _____




Medir el ancho y alto de cada bloque en pulgadas y en centímetros


Ej)




1)



2)



3)



4)



Respuestas

Ej. 2 1/2 **1** 6.4 2.5

1. 4 1/2 1 1/2 11.4 **3.8**

2. **3** 1 7.6 2.5


3. **5** 1 1/2 12.7 **3.8**

4. **2** 0 1/2 **5.1** 1.3




Medir el ancho y alto de cada bloque en pulgadas y en centímetros

Ej)



1)




2)



3)



4)



Respuestas

Ej. 1 1 1/2 2.5 3.8

1. _____

2. _____


3. _____

4. _____




Medir el ancho y alto de cada bloque en pulgadas y en centímetros

Ej)



1)




2)



3)



4)



Respuestas

Ej. 1 1 1/2 2.5 3.8

1. 1 1/2 1 1/2 3.8 3.8

2. 5 1 12.7 2.5

3. 5 1/2 0 1/2 14 1.3

4. 0 1/2 1 1/2 1.3 3.8




Medir el ancho y alto de cada bloque en pulgadas y en centímetros

Ej)



1)



2)



3)



4)



Respuestas

Ej. 4 1/2 1 11.4 2.5

1. _____


2. _____

3. _____

4. _____



Medir el ancho y alto de cada bloque en pulgadas y en centímetros



Respuestas

Ej. 4 1/2 **1** 11.4 2.5

1. 5 1/2 1 1/2 **14** **3.8**

2. **1** 0 1/2 **2.5** **1.3**

3. 1 1/2 0 1/2 **3.8** **1.3**

4. **4** 1 1/2 10.2 **3.8**



Medir el ancho y alto de cada bloque en pulgadas y en centímetros

Ej)



1)



2)



3)



4)



Respuestas

Ej. 3 1 7.6 2.5

1. _____

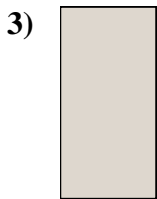

2. _____

3. _____

4. _____



Medir el ancho y alto de cada bloque en pulgadas y en centímetros



Respuestas

Ej. 3 1 7.6 2.5

1. 5 0 1/2 12.7 1.3

2. 1 1/2 0 1/2 3.8 1.3

3. 0 1/2 1 1.3 2.5

4. 4 1/2 0 1/2 11.4 1.3



Medir el ancho y alto de cada bloque en pulgadas y en centímetros

Ej)



Respuestas

Ej. 3 0 1/2 7.6 1.3


1. _____

2. _____

3. _____

4. _____

1)




2)



3)



4)






Medir el ancho y alto de cada bloque en pulgadas y en centímetros

Ej)



1)




2)



3)



4)



Respuestas

Ej. 3 0 1/2 7.6 1.3

1. 1 1/2 1 3.8 2.5




2. 0 1/2 1 1.3 2.5

3. 5 1/2 1 14 2.5

4. 1 1 1/2 2.5 3.8



Medir el ancho y alto de cada bloque en pulgadas y en centímetros



Respuestas

Ej. 5 1/2 0 1/2 **14** **1.3**

1. _____



2. _____

3. _____

4. _____



Medir el ancho y alto de cada bloque en pulgadas y en centímetros



Respuestas

Ej. 5 1/2 0 1/2 **14** 1.3

1. 3 1/2 1 1/2 **8.9** 3.8



2. **4** 0 1/2 10.2 **1.3**

3. **5** **1** 12.7 2.5

4. **1** **1** 2.5 2.5



Medir el ancho y alto de cada bloque en pulgadas y en centímetros



Respuestas

Ej. 4 0 1/2 10.2 1.3

1. _____


2. _____

3. _____

4. _____



Medir el ancho y alto de cada bloque en pulgadas y en centímetros



Respuestas

Ej. 4 0 1/2 10.2 1.3

1. 0 1/2 1 1/2 1.3 3.8




2. 1 1/2 0 1/2 3.8 1.3

3. 5 1/2 0 1/2 14 1.3

4. 3 1 1/2 7.6 3.8



Medir el ancho y alto de cada bloque en pulgadas y en centímetros



Respuestas

Ej. 3 1/2 0 1/2 8.9 1.3

1. _____

2. _____

3. _____

4. _____




Medir el ancho y alto de cada bloque en pulgadas y en centímetros

Ej)




1)




2)



3)



4)



Respuestas

Ej. 3 1/2 0 1/2 8.9 1.3

1. 1 1 1/2 2.5 3.8

2. 1 1/2 1 3.8 2.5

3. 5 1/2 1 1/2 14 3.8

4. 5 1 12.7 2.5




Medir el ancho y alto de cada bloque en pulgadas y en centímetros

Ej)



1)




2)



3)



4)



Respuestas

Ej. 4 1 1/2 10.2 3.8

1. _____

2. _____


3. _____

4. _____




Medir el ancho y alto de cada bloque en pulgadas y en centímetros

Ej)



1)



2)



3)



4)



Respuestas

Ej. 4 1 1/2 10.2 3.8

1. 2 1 1/2 5.1 3.8


2. 3 0 1/2 7.6 1.3

3. 3 1/2 1 1/2 8.9 3.8

4. 0 1/2 0 1/2 1.3 1.3



Medir el ancho y alto de cada bloque en pulgadas y en centímetros



Respuestas

Ej. 1 0 1/2 2.5 1.3

1. _____


2. _____

3. _____

4. _____



Medir el ancho y alto de cada bloque en pulgadas y en centímetros



Respuestas

Ej. 1 0 1/2 2.5 1.3

1. 3 1/2 0 1/2 8.9 1.3

2. 5 1/2 1 14 2.5

3. 5 1 12.7 2.5

4. 4 1/2 1 11.4 2.5