





Medir el ancho y alto de cada bloque en pulgadas y en centímetros



Respuestas

Ej. 5 0 1/2 12.7 1.3

1. _____




2. _____

3. _____

4. _____



Medir el ancho y alto de cada bloque en pulgadas y en centímetros



Respuestas

Ej. 5 0 1/2 12.7 1.3

1. 5 1/2 1 14 2.5

2. 3 1/2 0 1/2 8.9 1.3

3. 4 1/2 1 1/2 11.4 3.8

4. 2 1 1/2 5.1 3.8