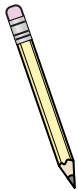




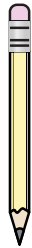
Mida cada ITEM punta a punta y luego coloque sus resultados en la gráfica de línea.

Respuestas

Ej)



1)



2)



3)



Ej. 1

1. _____

2. _____

3. _____

4. _____

5. _____

6. _____

7. _____

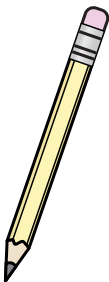
8. _____

9. _____

10. _____

11. _____

4)



5)




6)



7)



8)



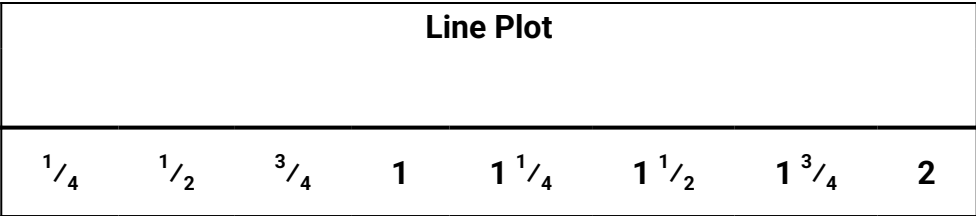
9)



10)



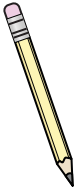
11)








Mida cada ITEM punta a punta y luego coloque sus resultados en la gráfica de línea.

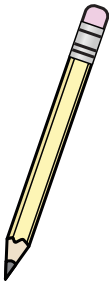
Respuestas


Ej)


1)


2)


3)


4)


5)


6)

7)

8)

9)

10)

11)

- Ej. 1
1. 1 1/4
2. 1/4
3. 3/4
4. 1 1/2
5. 2
6. 1/2
7. 1 3/4
8. 1 3/4
9. 1 1/4
10. 1/2
11. 3/4

