



Determina cuál letra mejor representa la longitud/altura.

Respuestas

Milímetro (mm)

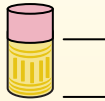
Un milímetro equivale al grosor de una tarjeta de crédito.



Centímetro (cm)

10 mm = 1 cm.

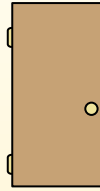
La parte metálica de un lápiz mide aproximadamente 1 cm. Una regla mide unos 30 centímetros.



Metro (m)

100 cm = 1 m

Desde el suelo hasta la perilla de una puerta hay aproximadamente 1 metro.



Kilómetro (km)


1,000 m = 1 km

La mayoría de las carreteras principales tienen al menos un kilómetro de largo.



1. _____
2. _____
3. _____
4. _____
5. _____
6. _____
7. _____
8. _____
9. _____

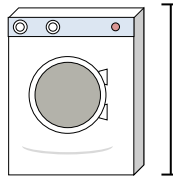
1)



Lata de frijoles

- A. 2 Metros
- B. 2 Kilómetros
- C. 10 Centímetros
- D. 120 Centímetros

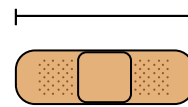
2)



Lavadora

- A. 30 Centímetros
- B. 10 Centímetros
- C. 2 Metros
- D. 1 Metro


3)



Vendaje

- A. 60 Centímetros
- B. 3 Kilómetros
- C. 9 Centímetros
- D. 1 Metro


4)



montaña

- A. 700 Milímetros
- B. 9 Metros
- C. 3 Kilómetros
- D. 60 Centímetros


5)



Rebanada de pan

- A. 10 Centímetros
- B. 120 Centímetros
- C. 2 Metros
- D. 25 Centímetros


6)



Elefante

- A. 150 Milímetros
- B. 4 Metros
- C. 2 Kilómetros
- D. 45 Centímetros


7)



Perro

- A. 4 Metros
- B. 60 Centímetros
- C. 2 Metros
- D. 10 Centímetros


8)



Hoja de cuaderno

- A. 25 Centímetros
- B. 1 Metro
- C. 15 Centímetros
- D. 60 Centímetros

9)



Plancha de ropa

- A. 240 Centímetros
- B. 60 Centímetros
- C. 40 Centímetros
- D. 15 Centímetros



Determina cuál letra mejor representa la longitud/altura.

Respuestas

Milímetro (mm)

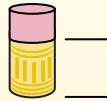
Un milímetro equivale al grosor de una tarjeta de crédito.



Centímetro (cm)

10 mm = 1 cm.

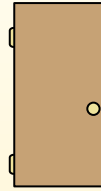
La parte metálica de un lápiz mide aproximadamente 1 cm. Una regla mide unos 30 centímetros.



Metro (m)

100 cm = 1 m

Desde el suelo hasta la perilla de una puerta hay aproximadamente 1 metro.



Kilómetro (km)

1,000 m = 1 km

La mayoría de las carreteras principales tienen al menos un kilómetro de largo.



1. **C**

2. **D**

3. **C**

4. **C**

5. **A**

6. **B**

7. **B**

8. **A**

9. **D**

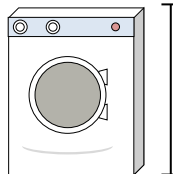
1)



Lata de frijoles

- A. 2 Metros
- B. 2 Kilómetros
- C. 10 Centímetros
- D. 120 Centímetros

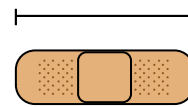
2)



Lavadora

- A. 30 Centímetros
- B. 10 Centímetros
- C. 2 Metros
- D. 1 Metro


3)



Vendaje

- A. 60 Centímetros
- B. 3 Kilómetros
- C. 9 Centímetros
- D. 1 Metro


4)



montaña

- A. 700 Milímetros
- B. 9 Metros
- C. 3 Kilómetros
- D. 60 Centímetros


5)



Rebanada de pan

- A. 10 Centímetros
- B. 120 Centímetros
- C. 2 Metros
- D. 25 Centímetros


6)



Elefante

- A. 150 Milímetros
- B. 4 Metros
- C. 2 Kilómetros
- D. 45 Centímetros


7)



Perro

- A. 4 Metros
- B. 60 Centímetros
- C. 2 Metros
- D. 10 Centímetros


8)



Hoja de cuaderno

- A. 25 Centímetros
- B. 1 Metro
- C. 15 Centímetros
- D. 60 Centímetros

9)



Plancha de ropa

- A. 240 Centímetros
- B. 60 Centímetros
- C. 40 Centímetros
- D. 15 Centímetros