



Determina cuál letra mejor representa la longitud/altura.

Respuestas

Milímetro (mm)

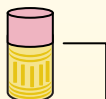
Un milímetro equivale al grosor de una tarjeta de crédito.



Centímetro (cm)

10 mm = 1 cm.

La parte metálica de un lápiz mide aproximadamente 1 cm. Una regla mide unos 30 centímetros.



Metro (m)

100 cm = 1 m

Desde el suelo hasta la perilla de una puerta hay aproximadamente 1 metro.



Kilómetro (km)

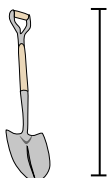
1,000 m = 1 km

La mayoría de las carreteras principales tienen al menos un kilómetro de largo.



1. _____
2. _____
3. _____
4. _____
5. _____
6. _____
7. _____
8. _____
9. _____

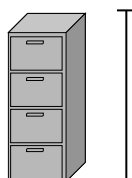
1)



Pala

- A. 1 Metro
- B. 60 Centímetros
- C. 3 Metros
- D. 30 Centímetros


2)



Archivador

- A. 30 Centímetros
- B. 60 Centímetros
- C. 1.5 Milímetros
- D. 30 Milímetros


3)



montaña

- A. 700 Milímetros
- B. 3 Kilómetros
- C. 9 Metros
- D. 60 Centímetros

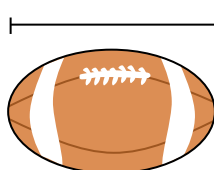
4)



Hoja de cuaderno

- A. 1 Metro
- B. 25 Centímetros
- C. 15 Centímetros
- D. 60 Centímetros

5)



Fútbol americano

- A. 25 Centímetros
- B. 3 Centímetros
- C. 60 Centímetros
- D. 1 Metro


6)



Lápiz

- A. 12 Centímetros
- B. 30 Centímetros
- C. 30 Milímetros
- D. 5 Metros

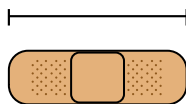
7)



Martillo

- A. 40 Centímetros
- B. 1 Metro
- C. 10 Centímetros
- D. 3 Centímetros

8)



Vendaje

- A. 9 Centímetros
- B. 1 Metro
- C. 60 Centímetros
- D. 3 Kilómetros

9)



Palomitas de maíz

- A. 3 Centímetros
- B. 2 Kilómetros
- C. 3 Milímetros
- D. 90 Centímetros



Determina cuál letra mejor representa la longitud/altura.

Respuestas

Milímetro (mm)

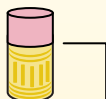
Un milímetro equivale al grosor de una tarjeta de crédito.



Centímetro (cm)

10 mm = 1 cm.

La parte metálica de un lápiz mide aproximadamente 1 cm. Una regla mide unos 30 centímetros.



Metro (m)

100 cm = 1 m

Desde el suelo hasta la perilla de una puerta hay aproximadamente 1 metro.



Kilómetro (km)

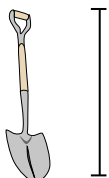
1,000 m = 1 km

La mayoría de las carreteras principales tienen al menos un kilómetro de largo.



1. **A**
2. **C**
3. **B**
4. **B**
5. **A**
6. **A**
7. **A**
8. **A**
9. **A**

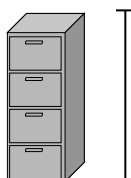
1)



Pala

- A. 1 Metro
- B. 60 Centímetros
- C. 3 Metros
- D. 30 Centímetros


2)



Archivador

- A. 30 Centímetros
- B. 60 Centímetros
- C. 1.5 Milímetros
- D. 30 Milímetros


3)



montaña

- A. 700 Milímetros
- B. 3 Kilómetros
- C. 9 Metros
- D. 60 Centímetros

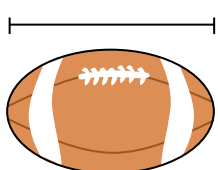
4)



Hoja de cuaderno

- A. 1 Metro
- B. 25 Centímetros
- C. 15 Centímetros
- D. 60 Centímetros


5)



Fútbol americano

- A. 25 Centímetros
- B. 3 Centímetros
- C. 60 Centímetros
- D. 1 Metro


6)



Lápiz

- A. 12 Centímetros
- B. 30 Centímetros
- C. 30 Milímetros
- D. 5 Metros

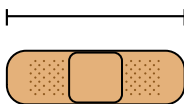
7)



Martillo

- A. 40 Centímetros
- B. 1 Metro
- C. 10 Centímetros
- D. 3 Centímetros

8)



Vendaje

- A. 9 Centímetros
- B. 1 Metro
- C. 60 Centímetros
- D. 3 Kilómetros

9)



Palomitas de maíz

- A. 3 Centímetros
- B. 2 Kilómetros
- C. 3 Milímetros
- D. 90 Centímetros