



Determina cuál letra mejor representa la longitud/altura.

Respuestas

Milímetro (mm)

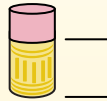
Un milímetro equivale al grosor de una tarjeta de crédito.



Centímetro (cm)

10 mm = 1 cm.

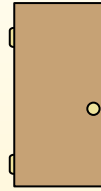
La parte metálica de un lápiz mide aproximadamente 1 cm. Una regla mide unos 30 centímetros.



Metro (m)

100 cm = 1 m

Desde el suelo hasta la perilla de una puerta hay aproximadamente 1 metro.



Kilómetro (km)

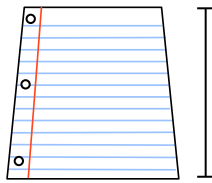
1,000 m = 1 km

La mayoría de las carreteras principales tienen al menos un kilómetro de largo.




1. _____
2. _____
3. _____
4. _____
5. _____
6. _____
7. _____
8. _____
9. _____

1)



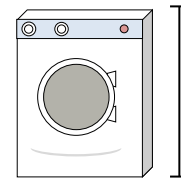
Hoja de cuaderno
 A. 60 Centímetros
 B. 15 Centímetros
 C. 1 Metro
 D. 25 Centímetros

2)



Galón de Leche
 A. 3 Metros
 B. 20 Centímetros
 C. 10 Milímetros
 D. 8 Centímetros

3)




Lavadora
 A. 10 Centímetros
 B. 30 Centímetros
 C. 1 Metro
 D. 2 Metros

4)



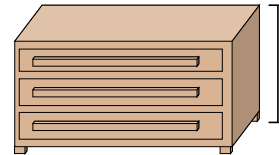
Barra de pegamento
 A. 30 Centímetros
 B. 10 Centímetros
 C. 6 Kilómetros
 D. 25 Centímetros

5)



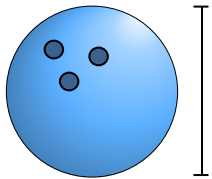
Elefante
 A. 45 Centímetros
 B. 4 Metros
 C. 150 Milímetros
 D. 2 Kilómetros

6)



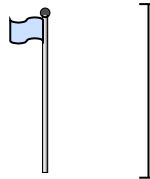
Vestidor
 A. 45 Centímetros
 B. 30 Centímetros
 C. 90 Centímetros
 D. 3 Metros

7)



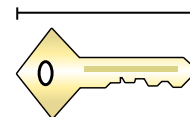
Altura de la bola de boliche
 A. 10 Centímetros
 B. 1 Metro
 C. 25 Centímetros
 D. 305 Centímetros

8)



Asta de bandera
 A. 300 Centímetros
 B. 9 Metros
 C. 2 Metros
 D. 2 Kilómetros

9)



Llave
 A. 2 Metros
 B. 5 Centímetros
 C. 15 Centímetros
 D. 150 Centímetros



Determina cuál letra mejor representa la longitud/altura.

Respuestas

Milímetro (mm)

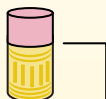
Un milímetro equivale al grosor de una tarjeta de crédito.



Centímetro (cm)

10 mm = 1 cm.

La parte metálica de un lápiz mide aproximadamente 1 cm. Una regla mide unos 30 centímetros.



Metro (m)

100 cm = 1 m


Desde el suelo hasta la perilla de una puerta hay aproximadamente 1 metro.




Kilómetro (km)

1,000 m = 1 km

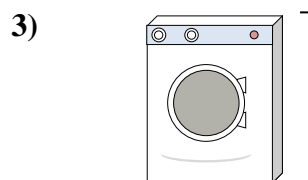
La mayoría de las carreteras principales tienen al menos un kilómetro de largo.



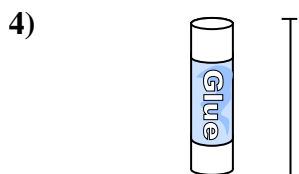
Hoja de cuaderno
A. 60 Centímetros
B. 15 Centímetros
C. 1 Metro
D. 25 Centímetros




Galón de Leche
A. 3 Metros
B. 20 Centímetros
C. 10 Milímetros
D. 8 Centímetros



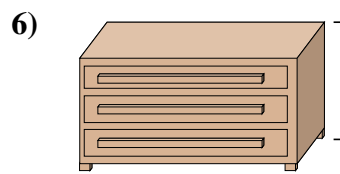
Lavadora
A. 10 Centímetros
B. 30 Centímetros
C. 1 Metro
D. 2 Metros




Barra de pegamento
A. 30 Centímetros
B. 10 Centímetros
C. 6 Kilómetros
D. 25 Centímetros



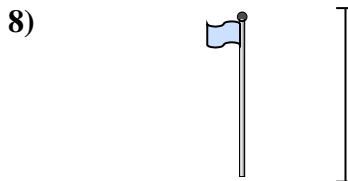
Elefante
A. 45 Centímetros
B. 4 Metros
C. 150 Milímetros
D. 2 Kilómetros



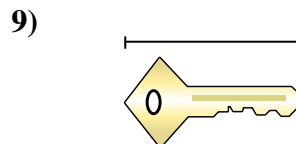
Vestidor
A. 45 Centímetros
B. 30 Centímetros
C. 90 Centímetros
D. 3 Metros



Altura de la bola de boliche
A. 10 Centímetros
B. 1 Metro
C. 25 Centímetros
D. 305 Centímetros



Asta de bandera
A. 300 Centímetros
B. 9 Metros
C. 2 Metros
D. 2 Kilómetros



Llave
A. 2 Metros
B. 5 Centímetros
C. 15 Centímetros
D. 150 Centímetros

- 1. **D**
- 2. **B**
- 3. **C**
- 4. **B**
- 5. **B**
- 6. **C**
- 7. **C**
- 8. **B**
- 9. **B**