



Determina cuál letra mejor representa la longitud/altura.

Respuestas

**Milímetro (mm)**

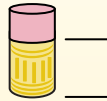
Un milímetro equivale al grosor de una tarjeta de crédito.



**Centímetro (cm)**

10 mm = 1 cm.

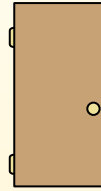
La parte metálica de un lápiz mide aproximadamente 1 cm. Una regla mide unos 30 centímetros.



**Metro (m)**

100 cm = 1 m

Desde el suelo hasta la perilla de una puerta hay aproximadamente 1 metro.



**Kilómetro (km)**


1,000 m = 1 km

La mayoría de las carreteras principales tienen al menos un kilómetro de largo.




1. \_\_\_\_\_
2. \_\_\_\_\_
3. \_\_\_\_\_
4. \_\_\_\_\_
5. \_\_\_\_\_
6. \_\_\_\_\_
7. \_\_\_\_\_
8. \_\_\_\_\_
9. \_\_\_\_\_

1)




Hoja de cuaderno  
 A. 15 Centímetros  
 B. 25 Centímetros  
 C. 60 Centímetros  
 D. 1 Metro

2)



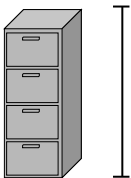
montaña  
 A. 9 Metros  
 B. 3 Kilómetros  
 C. 60 Centímetros  
 D. 700 Milímetros

3)



Lápiz  
 A. 5 Metros  
 B. 30 Milímetros  
 C. 12 Centímetros  
 D. 30 Centímetros

4)



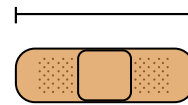
Archivador  
 A. 30 Milímetros  
 B. 60 Centímetros  
 C. 1.5 Milímetros  
 D. 30 Centímetros

5)



Rana  
 A. 4 Milímetros  
 B. 60 Centímetros  
 C. 8 Centímetros  
 D. 20 Centímetros

6)



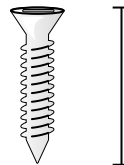
Vendaje  
 A. 9 Centímetros  
 B. 3 Kilómetros  
 C. 60 Centímetros  
 D. 1 Metro

7)



Insecto  
 A. 30 Centímetros  
 B. 7 Milímetros  
 C. 5 Centímetros  
 D. 10 Centímetros

8)



Tornillo  
 A. 3 Centímetros  
 B. 25 Centímetros  
 C. 20 Centímetros  
 D. 1 Metro

9)



Plancha de ropa  
 A. 40 Centímetros  
 B. 15 Centímetros  
 C. 60 Centímetros  
 D. 240 Centímetros



Determina cuál letra mejor representa la longitud/altura.

Respuestas

**Milímetro (mm)**

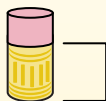
Un milímetro equivale al grosor de una tarjeta de crédito.



**Centímetro (cm)**

10 mm = 1 cm.

La parte metálica de un lápiz mide aproximadamente 1 cm. Una regla mide unos 30 centímetros.



**Metro (m)**

100 cm = 1 m

Desde el suelo hasta la perilla de una puerta hay aproximadamente 1 metro.




**Kilómetro (km)**

1,000 m = 1 km


La mayoría de las carreteras principales tienen al menos un kilómetro de largo.



1.     **B**
2.     **B**
3.     **C**
4.     **C**
5.     **C**
6.     **A**
7.     **B**
8.     **A**
9.     **B**



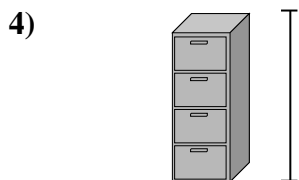
Hoja de cuaderno  
A. 15 Centímetros  
B. 25 Centímetros  
C. 60 Centímetros  
D. 1 Metro




montaña  
A. 9 Metros  
B. 3 Kilómetros  
C. 60 Centímetros  
D. 700 Milímetros



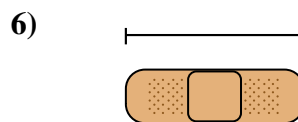
Lápiz  
A. 5 Metros  
B. 30 Milímetros  
C. 12 Centímetros  
D. 30 Centímetros



Archivador  
A. 30 Milímetros  
B. 60 Centímetros  
C. 1.5 Milímetros  
D. 30 Centímetros



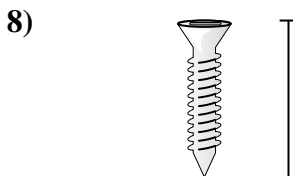
Rana  
A. 4 Milímetros  
B. 60 Centímetros  
C. 8 Centímetros  
D. 20 Centímetros



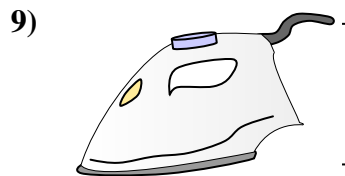
Vendaje  
A. 9 Centímetros  
B. 3 Kilómetros  
C. 60 Centímetros  
D. 1 Metro



Insecto  
A. 30 Centímetros  
B. 7 Milímetros  
C. 5 Centímetros  
D. 10 Centímetros



Tornillo  
A. 3 Centímetros  
B. 25 Centímetros  
C. 20 Centímetros  
D. 1 Metro



Plancha de ropa  
A. 40 Centímetros  
B. 15 Centímetros  
C. 60 Centímetros  
D. 240 Centímetros