



Determina cuál letra mejor representa la longitud/altura.

Respuestas

Milímetro (mm)

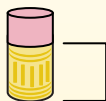
Un milímetro equivale al grosor de una tarjeta de crédito.



Centímetro (cm)

10 mm = 1 cm.

La parte metálica de un lápiz mide aproximadamente 1 cm. Una regla mide unos 30 centímetros.



Metro (m)

100 cm = 1 m

Desde el suelo hasta la perilla de una puerta hay aproximadamente 1 metro.



Kilómetro (km)

1,000 m = 1 km

La mayoría de las carreteras principales tienen al menos un kilómetro de largo.



1. _____
2. _____
3. _____
4. _____
5. _____
6. _____
7. _____
8. _____
9. _____

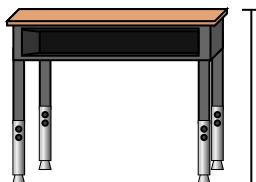
1)



Lápiz

- A. 12 Centímetros
- B. 30 Milímetros
- C. 30 Centímetros
- D. 5 Metros

2)



Escritorio

- A. 15 Centímetros
- B. 2 Metros
- C. 70 Centímetros
- D. 30 Centímetros

3)



Rana

- A. 20 Centímetros
- B. 8 Centímetros
- C. 4 Milímetros
- D. 60 Centímetros

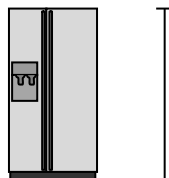
4)



Bicicleta

- A. 10 Centímetros
- B. 1 Metro
- C. 3 Metros
- D. 25 Centímetros

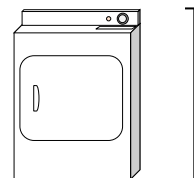
5)



Refrigerador

- A. 180 Centímetros
- B. 30 Centímetros
- C. 5 Kilómetros
- D. 4 Metros

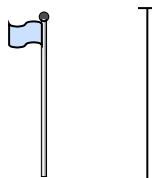
6)



Secadora de ropa

- A. 60 Centímetros
- B. 1 Metro
- C. 25 Centímetros
- D. 15 Centímetros

7)



Asta de bandera

- A. 2 Kilómetros
- B. 9 Metros
- C. 300 Centímetros
- D. 2 Metros

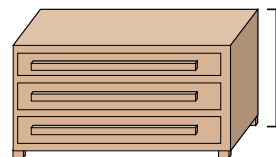
8)



Pelota de tenis

- A. 3 Milímetros
- B. 25 Centímetros
- C. 8 Centímetros
- D. 60 Centímetros

9)



Vestidor

- A. 45 Centímetros
- B. 90 Centímetros
- C. 3 Metros
- D. 30 Centímetros



Determina cuál letra mejor representa la longitud/altura.

Respuestas

Milímetro (mm)

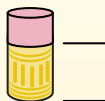
Un milímetro equivale al grosor de una tarjeta de crédito.



Centímetro (cm)

10 mm = 1 cm.

La parte metálica de un lápiz mide aproximadamente 1 cm. Una regla mide unos 30 centímetros.



Metro (m)

100 cm = 1 m

Desde el suelo hasta la perilla de una puerta hay aproximadamente 1 metro.



Kilómetro (km)

1,000 m = 1 km

La mayoría de las carreteras principales tienen al menos un kilómetro de largo.



- 1. **A**
- 2. **C**
- 3. **B**
- 4. **B**
- 5. **A**
- 6. **B**
- 7. **B**
- 8. **C**
- 9. **B**

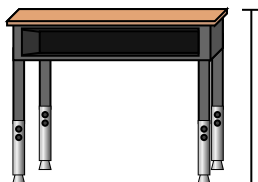
1)



Lápiz

- A. 12 Centímetros
- B. 30 Milímetros
- C. 30 Centímetros
- D. 5 Metros

2)



Escritorio

- A. 15 Centímetros
- B. 2 Metros
- C. 70 Centímetros
- D. 30 Centímetros

3)



Rana

- A. 20 Centímetros
- B. 8 Centímetros
- C. 4 Milímetros
- D. 60 Centímetros

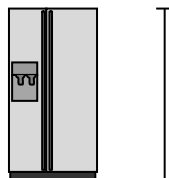
4)



Bicicleta

- A. 10 Centímetros
- B. 1 Metro
- C. 3 Metros
- D. 25 Centímetros

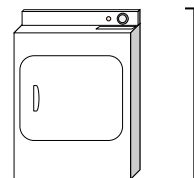
5)



Refrigerador

- A. 180 Centímetros
- B. 30 Centímetros
- C. 5 Kilómetros
- D. 4 Metros

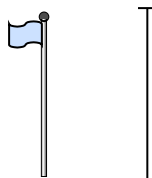
6)



Secadora de ropa

- A. 60 Centímetros
- B. 1 Metro
- C. 25 Centímetros
- D. 15 Centímetros


7)



Asta de bandera

- A. 2 Kilómetros
- B. 9 Metros
- C. 300 Centímetros
- D. 2 Metros

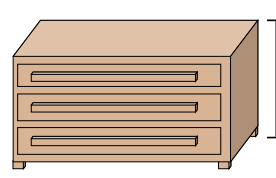
8)



Pelota de tenis

- A. 3 Milímetros
- B. 25 Centímetros
- C. 8 Centímetros
- D. 60 Centímetros

9)



Vestidor

- A. 45 Centímetros
- B. 90 Centímetros
- C. 3 Metros
- D. 30 Centímetros