



Determina cuál letra mejor representa la longitud/altura.

Respuestas

Milímetro (mm)

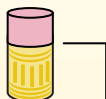
Un milímetro equivale al grosor de una tarjeta de crédito.



Centímetro (cm)

10 mm = 1 cm.

La parte metálica de un lápiz mide aproximadamente 1 cm. Una regla mide unos 30 centímetros.



Metro (m)

100 cm = 1 m

Desde el suelo hasta la perilla de una puerta hay aproximadamente 1 metro.



Kilómetro (km)

1,000 m = 1 km

La mayoría de las carreteras principales tienen al menos un kilómetro de largo.



1. _____
2. _____
3. _____
4. _____
5. _____
6. _____
7. _____
8. _____
9. _____

1)



Bicicleta

- A. 10 Centímetros
- B. 25 Centímetros
- C. 1 Metro
- D. 3 Metros


2)



Aspiradora

- A. 30 Centímetros
- B. 120 Centímetros
- C. 3 Metros
- D. 35 Centímetros


3)



Cepillo de dientes

- A. 3 Metros
- B. 10 Centímetros
- C. 17 Centímetros
- D. 1 Metro


4)



Altura de la caja de cereales

- A. 10 Centímetros
- B. 60 Centímetros
- C. 3 Centímetros
- D. 30 Centímetros

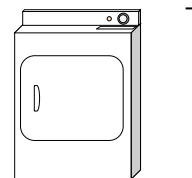
5)



Elefante

- A. 2 Kilómetros
- B. 150 Milímetros
- C. 45 Centímetros
- D. 4 Metros

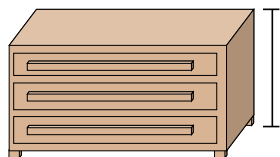
6)



Secadora de ropa

- A. 15 Centímetros
- B. 60 Centímetros
- C. 25 Centímetros
- D. 1 Metro

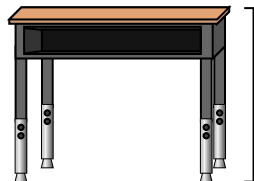
7)



Vestidor

- A. 30 Centímetros
- B. 3 Metros
- C. 90 Centímetros
- D. 45 Centímetros

8)



Escritorio

- A. 15 Centímetros
- B. 30 Centímetros
- C. 70 Centímetros
- D. 2 Metros

9)



Insecto

- A. 30 Centímetros
- B. 10 Centímetros
- C. 5 Centímetros
- D. 7 Milímetros



Determina cuál letra mejor representa la longitud/altura.

Respuestas

Milímetro (mm)

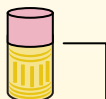
Un milímetro equivale al grosor de una tarjeta de crédito.



Centímetro (cm)

10 mm = 1 cm.

La parte metálica de un lápiz mide aproximadamente 1 cm. Una regla mide unos 30 centímetros.



Metro (m)

100 cm = 1 m

Desde el suelo hasta la perilla de una puerta hay aproximadamente 1 metro.



Kilómetro (km)

1,000 m = 1 km

La mayoría de las carreteras principales tienen al menos un kilómetro de largo.



- 1. **C**
- 2. **B**
- 3. **C**
- 4. **D**
- 5. **D**
- 6. **D**
- 7. **C**
- 8. **C**
- 9. **D**

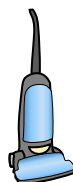
1)



Bicicleta

- A. 10 Centímetros
- B. 25 Centímetros
- C. 1 Metro
- D. 3 Metros


2)



Aspiradora

- A. 30 Centímetros
- B. 120 Centímetros
- C. 3 Metros
- D. 35 Centímetros


3)



Cepillo de dientes

- A. 3 Metros
- B. 10 Centímetros
- C. 17 Centímetros
- D. 1 Metro


4)



Altura de la caja de cereales

- A. 10 Centímetros
- B. 60 Centímetros
- C. 3 Centímetros
- D. 30 Centímetros

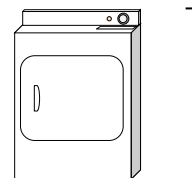
5)



Elefante

- A. 2 Kilómetros
- B. 150 Milímetros
- C. 45 Centímetros
- D. 4 Metros

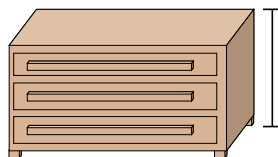
6)



Secadora de ropa

- A. 15 Centímetros
- B. 60 Centímetros
- C. 25 Centímetros
- D. 1 Metro

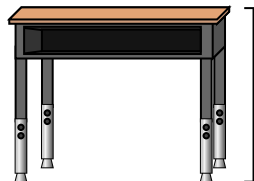
7)



Vestidor

- A. 30 Centímetros
- B. 3 Metros
- C. 90 Centímetros
- D. 45 Centímetros

8)



Escritorio

- A. 15 Centímetros
- B. 30 Centímetros
- C. 70 Centímetros
- D. 2 Metros

9)



Insecto

- A. 30 Centímetros
- B. 10 Centímetros
- C. 5 Centímetros
- D. 7 Milímetros