



Determina cuál letra mejor representa la longitud/altura.

Respuestas

**Milímetro (mm)**

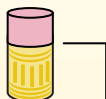
Un milímetro equivale al grosor de una tarjeta de crédito.



**Centímetro (cm)**

10 mm = 1 cm.

La parte metálica de un lápiz mide aproximadamente 1 cm. Una regla mide unos 30 centímetros.



**Metro (m)**

100 cm = 1 m

Desde el suelo hasta la perilla de una puerta hay aproximadamente 1 metro.



**Kilómetro (km)**


1,000 m = 1 km

La mayoría de las carreteras principales tienen al menos un kilómetro de largo.



1. \_\_\_\_\_
2. \_\_\_\_\_
3. \_\_\_\_\_
4. \_\_\_\_\_
5. \_\_\_\_\_
6. \_\_\_\_\_
7. \_\_\_\_\_
8. \_\_\_\_\_
9. \_\_\_\_\_


1)



Lata de soda

- A. 30 Centímetros
- B. 3 Centímetros
- C. 1 Metro
- D. 10 Centímetros


2)



Lavadora

- A. 1 Metro
- B. 30 Centímetros
- C. 2 Metros
- D. 10 Centímetros

3)



Chupete

- A. 30 Milímetros
- B. 30 Centímetros
- C. 2 Kilómetros
- D. 10 Centímetros

4)



Bicicleta

- A. 25 Centímetros
- B. 10 Centímetros
- C. 1 Metro
- D. 3 Metros


5)



Pala

- A. 30 Centímetros
- B. 60 Centímetros
- C. 1 Metro
- D. 3 Metros

6)



Altura de la bola de boliche

- A. 25 Centímetros
- B. 305 Centímetros
- C. 1 Metro
- D. 10 Centímetros

7)



Archivador

- A. 30 Centímetros
- B. 1.5 Milímetros
- C. 30 Milímetros
- D. 60 Centímetros

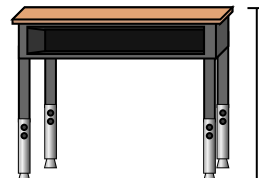
8)



Lápiz

- A. 30 Milímetros
- B. 20 Centímetros
- C. 150 Centímetros
- D. 1 Metro

9)



Escritorio

- A. 2 Metros
- B. 15 Centímetros
- C. 30 Centímetros
- D. 70 Centímetros



Determina cuál letra mejor representa la longitud/altura.

Respuestas

**Milímetro (mm)**

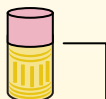
Un milímetro equivale al grosor de una tarjeta de crédito.



**Centímetro (cm)**

10 mm = 1 cm.

La parte metálica de un lápiz mide aproximadamente 1 cm. Una regla mide unos 30 centímetros.



**Metro (m)**

100 cm = 1 m

Desde el suelo hasta la perilla de una puerta hay aproximadamente 1 metro.



**Kilómetro (km)**

1,000 m = 1 km

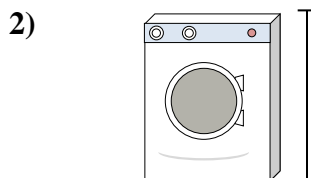
La mayoría de las carreteras principales tienen al menos un kilómetro de largo.




- 1.     **D**
- 2.     **A**
- 3.     **D**
- 4.     **C**
- 5.     **C**
- 6.     **A**
- 7.     **B**
- 8.     **B**
- 9.     **D**



- Lata de soda
- A. 30 Centímetros
  - B. 3 Centímetros
  - C. 1 Metro
  - D. 10 Centímetros




- Lavadora
- A. 1 Metro
  - B. 30 Centímetros
  - C. 2 Metros
  - D. 10 Centímetros




- Chupete
- A. 30 Milímetros
  - B. 30 Centímetros
  - C. 2 Kilómetros
  - D. 10 Centímetros



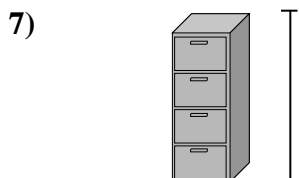
- Bicicleta
- A. 25 Centímetros
  - B. 10 Centímetros
  - C. 1 Metro
  - D. 3 Metros



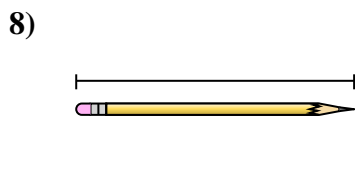
- Pala
- A. 30 Centímetros
  - B. 60 Centímetros
  - C. 1 Metro
  - D. 3 Metros



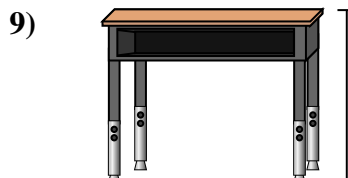
- Altura de la bola de boliche
- A. 25 Centímetros
  - B. 305 Centímetros
  - C. 1 Metro
  - D. 10 Centímetros



- Archivador
- A. 30 Centímetros
  - B. 1.5 Milímetros
  - C. 30 Milímetros
  - D. 60 Centímetros



- Lápiz
- A. 30 Milímetros
  - B. 20 Centímetros
  - C. 150 Centímetros
  - D. 1 Metro



- Escritorio
- A. 2 Metros
  - B. 15 Centímetros
  - C. 30 Centímetros
  - D. 70 Centímetros