



Determina cuál letra mejor representa la longitud/altura.

Respuestas

Milímetro (mm)

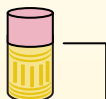
Un milímetro equivale al grosor de una tarjeta de crédito.



Centímetro (cm)

10 mm = 1 cm.

La parte metálica de un lápiz mide aproximadamente 1 cm. Una regla mide unos 30 centímetros.



Metro (m)

100 cm = 1 m

Desde el suelo hasta la perilla de una puerta hay aproximadamente 1 metro.



Kilómetro (km)

1,000 m = 1 km

La mayoría de las carreteras principales tienen al menos un kilómetro de largo.



1. _____

2. _____

3. _____

4. _____

5. _____

6. _____

7. _____

8. _____

9. _____


1)



Palomitas de maiz

- A. 3 Centímetros
- B. 90 Centímetros
- C. 2 Kilómetros
- D. 3 Milímetros

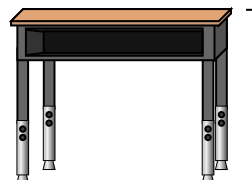
2)



Chupete

- A. 2 Kilómetros
- B. 30 Milímetros
- C. 10 Centímetros
- D. 30 Centímetros


3)



Escritorio

- A. 2 Metros
- B. 70 Centímetros
- C. 30 Centímetros
- D. 15 Centímetros

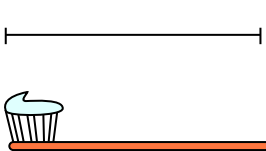
4)



Rueda de la fortuna

- A. 30 Centímetros
- B. 50 Kilómetros
- C. 23 Metros
- D. 5 Metros


5)



Cepillo de dientes

- A. 10 Centímetros
- B. 3 Metros
- C. 17 Centímetros
- D. 1 Metro

6)



Lata de soda

- A. 1 Metro
- B. 10 Centímetros
- C. 30 Centímetros
- D. 3 Centímetros

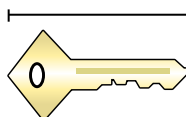
7)



Rana

- A. 60 Centímetros
- B. 4 Milímetros
- C. 8 Centímetros
- D. 20 Centímetros

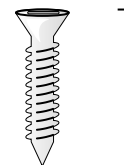
8)



Llave

- A. 2 Metros
- B. 5 Centímetros
- C. 15 Centímetros
- D. 150 Centímetros

9)



Tornillo

- A. 1 Metro
- B. 25 Centímetros
- C. 20 Centímetros
- D. 3 Centímetros



Determina cuál letra mejor representa la longitud/altura.

Respuestas

Milímetro (mm)

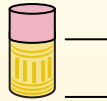
Un milímetro equivale al grosor de una tarjeta de crédito.



Centímetro (cm)

10 mm = 1 cm.

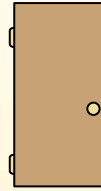
La parte metálica de un lápiz mide aproximadamente 1 cm. Una regla mide unos 30 centímetros.



Metro (m)

100 cm = 1 m

Desde el suelo hasta la perilla de una puerta hay aproximadamente 1 metro.




Kilómetro (km)

1,000 m = 1 km

La mayoría de las carreteras principales tienen al menos un kilómetro de largo.




1)



Palomitas de maiz

- A. 3 Centímetros
- B. 90 Centímetros
- C. 2 Kilómetros
- D. 3 Milímetros

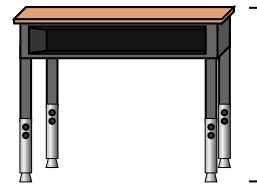
2)



Chupete

- A. 2 Kilómetros
- B. 30 Milímetros
- C. 10 Centímetros
- D. 30 Centímetros


3)



Escritorio

- A. 2 Metros
- B. 70 Centímetros
- C. 30 Centímetros
- D. 15 Centímetros

4)



Rueda de la fortuna

- A. 30 Centímetros
- B. 50 Kilómetros
- C. 23 Metros
- D. 5 Metros


5)



Cepillo de dientes

- A. 10 Centímetros
- B. 3 Metros
- C. 17 Centímetros
- D. 1 Metro

6)



Lata de soda

- A. 1 Metro
- B. 10 Centímetros
- C. 30 Centímetros
- D. 3 Centímetros

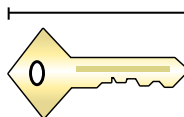
7)



Rana

- A. 60 Centímetros
- B. 4 Milímetros
- C. 8 Centímetros
- D. 20 Centímetros

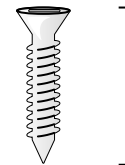
8)



Llave

- A. 2 Metros
- B. 5 Centímetros
- C. 15 Centímetros
- D. 150 Centímetros

9)



Tornillo

- A. 1 Metro
- B. 25 Centímetros
- C. 20 Centímetros
- D. 3 Centímetros

- 1. **A**
- 2. **C**
- 3. **B**
- 4. **C**
- 5. **C**
- 6. **B**
- 7. **C**
- 8. **B**
- 9. **D**



Determina cuál letra mejor representa la longitud/altura.

Respuestas

Milímetro (mm)

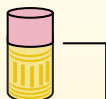
Un milímetro equivale al grosor de una tarjeta de crédito.



Centímetro (cm)

10 mm = 1 cm.

La parte metálica de un lápiz mide aproximadamente 1 cm. Una regla mide unos 30 centímetros.



Metro (m)

100 cm = 1 m

Desde el suelo hasta la perilla de una puerta hay aproximadamente 1 metro.



Kilómetro (km)


1,000 m = 1 km

La mayoría de las carreteras principales tienen al menos un kilómetro de largo.



1. _____
2. _____
3. _____
4. _____
5. _____
6. _____
7. _____
8. _____
9. _____

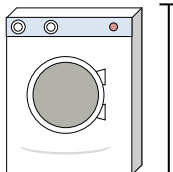
1)



Lata de frijoles

- A. 2 Metros
- B. 2 Kilómetros
- C. 10 Centímetros
- D. 120 Centímetros

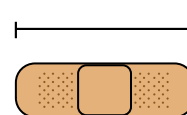
2)



Lavadora

- A. 30 Centímetros
- B. 10 Centímetros
- C. 2 Metros
- D. 1 Metro


3)



Vendaje

- A. 60 Centímetros
- B. 3 Kilómetros
- C. 9 Centímetros
- D. 1 Metro


4)



montaña

- A. 700 Milímetros
- B. 9 Metros
- C. 3 Kilómetros
- D. 60 Centímetros


5)



Rebanada de pan

- A. 10 Centímetros
- B. 120 Centímetros
- C. 2 Metros
- D. 25 Centímetros


6)



Elefante

- A. 150 Milímetros
- B. 4 Metros
- C. 2 Kilómetros
- D. 45 Centímetros


7)



Perro

- A. 4 Metros
- B. 60 Centímetros
- C. 2 Metros
- D. 10 Centímetros

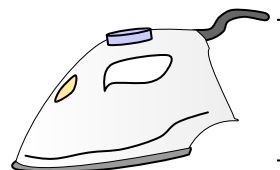
8)



Hoja de cuaderno

- A. 25 Centímetros
- B. 1 Metro
- C. 15 Centímetros
- D. 60 Centímetros

9)



Plancha de ropa

- A. 240 Centímetros
- B. 60 Centímetros
- C. 40 Centímetros
- D. 15 Centímetros



Determina cuál letra mejor representa la longitud/altura.

Respuestas

Milímetro (mm)

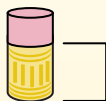
Un milímetro equivale al grosor de una tarjeta de crédito.



Centímetro (cm)

10 mm = 1 cm.

La parte metálica de un lápiz mide aproximadamente 1 cm. Una regla mide unos 30 centímetros.



Metro (m)

100 cm = 1 m

Desde el suelo hasta la perilla de una puerta hay aproximadamente 1 metro.



Kilómetro (km)

1,000 m = 1 km

La mayoría de las carreteras principales tienen al menos un kilómetro de largo.

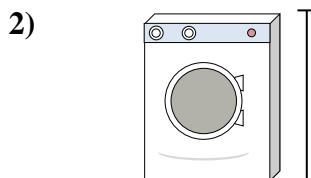


1. **C**
2. **D**
3. **C**
4. **C**
5. **A**
6. **B**
7. **B**
8. **A**
9. **D**



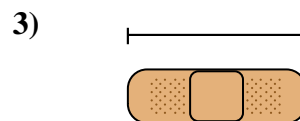
Lata de frijoles

- A. 2 Metros
- B. 2 Kilómetros
- C. 10 Centímetros
- D. 120 Centímetros




Lavadora

- A. 30 Centímetros
- B. 10 Centímetros
- C. 2 Metros
- D. 1 Metro




Vendaje

- A. 60 Centímetros
- B. 3 Kilómetros
- C. 9 Centímetros
- D. 1 Metro




montaña

- A. 700 Milímetros
- B. 9 Metros
- C. 3 Kilómetros
- D. 60 Centímetros




Rebanada de pan

- A. 10 Centímetros
- B. 120 Centímetros
- C. 2 Metros
- D. 25 Centímetros




Elefante

- A. 150 Milímetros
- B. 4 Metros
- C. 2 Kilómetros
- D. 45 Centímetros



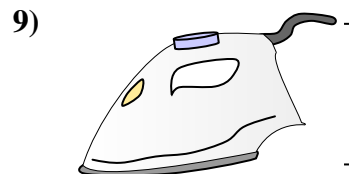
Perro

- A. 4 Metros
- B. 60 Centímetros
- C. 2 Metros
- D. 10 Centímetros



Hoja de cuaderno

- A. 25 Centímetros
- B. 1 Metro
- C. 15 Centímetros
- D. 60 Centímetros



Plancha de ropa

- A. 240 Centímetros
- B. 60 Centímetros
- C. 40 Centímetros
- D. 15 Centímetros



Determina cuál letra mejor representa la longitud/altura.

Respuestas

Milímetro (mm)

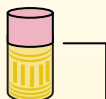
Un milímetro equivale al grosor de una tarjeta de crédito.



Centímetro (cm)

10 mm = 1 cm.

La parte metálica de un lápiz mide aproximadamente 1 cm. Una regla mide unos 30 centímetros.



Metro (m)

100 cm = 1 m

Desde el suelo hasta la perilla de una puerta hay aproximadamente 1 metro.



Kilómetro (km)

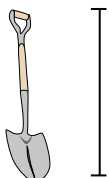
1,000 m = 1 km

La mayoría de las carreteras principales tienen al menos un kilómetro de largo.



1. _____
2. _____
3. _____
4. _____
5. _____
6. _____
7. _____
8. _____
9. _____

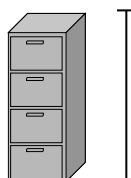
1)



Pala

- A. 1 Metro
- B. 60 Centímetros
- C. 3 Metros
- D. 30 Centímetros


2)



Archivador

- A. 30 Centímetros
- B. 60 Centímetros
- C. 1.5 Milímetros
- D. 30 Milímetros


3)



montaña

- A. 700 Milímetros
- B. 3 Kilómetros
- C. 9 Metros
- D. 60 Centímetros

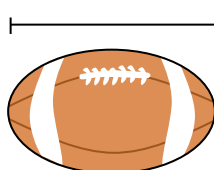
4)



Hoja de cuaderno

- A. 1 Metro
- B. 25 Centímetros
- C. 15 Centímetros
- D. 60 Centímetros

5)



Fútbol americano

- A. 25 Centímetros
- B. 3 Centímetros
- C. 60 Centímetros
- D. 1 Metro


6)



Lápiz

- A. 12 Centímetros
- B. 30 Centímetros
- C. 30 Milímetros
- D. 5 Metros

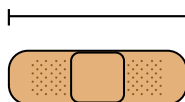
7)



Martillo

- A. 40 Centímetros
- B. 1 Metro
- C. 10 Centímetros
- D. 3 Centímetros

8)



Vendaje

- A. 9 Centímetros
- B. 1 Metro
- C. 60 Centímetros
- D. 3 Kilómetros

9)



Palomitas de maíz

- A. 3 Centímetros
- B. 2 Kilómetros
- C. 3 Milímetros
- D. 90 Centímetros



Determina cuál letra mejor representa la longitud/altura.

Respuestas

Milímetro (mm)

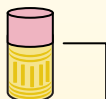
Un milímetro equivale al grosor de una tarjeta de crédito.



Centímetro (cm)

10 mm = 1 cm.

La parte metálica de un lápiz mide aproximadamente 1 cm. Una regla mide unos 30 centímetros.



Metro (m)

100 cm = 1 m

Desde el suelo hasta la perilla de una puerta hay aproximadamente 1 metro.



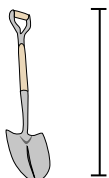
Kilómetro (km)

1,000 m = 1 km

La mayoría de las carreteras principales tienen al menos un kilómetro de largo.



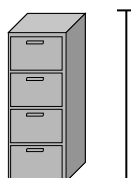
1)



Pala

- A. 1 Metro
- B. 60 Centímetros
- C. 3 Metros
- D. 30 Centímetros


2)



Archivador

- A. 30 Centímetros
- B. 60 Centímetros
- C. 1.5 Milímetros
- D. 30 Milímetros


3)



montaña

- A. 700 Milímetros
- B. 3 Kilómetros
- C. 9 Metros
- D. 60 Centímetros

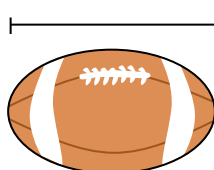
4)



Hoja de cuaderno

- A. 1 Metro
- B. 25 Centímetros
- C. 15 Centímetros
- D. 60 Centímetros


5)



Fútbol americano

- A. 25 Centímetros
- B. 3 Centímetros
- C. 60 Centímetros
- D. 1 Metro


6)



Lápiz

- A. 12 Centímetros
- B. 30 Centímetros
- C. 30 Milímetros
- D. 5 Metros

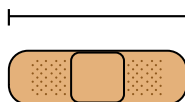
7)



Martillo

- A. 40 Centímetros
- B. 1 Metro
- C. 10 Centímetros
- D. 3 Centímetros

8)



Vendaje

- A. 9 Centímetros
- B. 1 Metro
- C. 60 Centímetros
- D. 3 Kilómetros

9)



Palomitas de maíz

- A. 3 Centímetros
- B. 2 Kilómetros
- C. 3 Milímetros
- D. 90 Centímetros

- 1. **A**
- 2. **C**
- 3. **B**
- 4. **B**
- 5. **A**
- 6. **A**
- 7. **A**
- 8. **A**
- 9. **A**



Determina cuál letra mejor representa la longitud/altura.

Respuestas

Milímetro (mm)

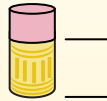
Un milímetro equivale al grosor de una tarjeta de crédito.



Centímetro (cm)

10 mm = 1 cm.

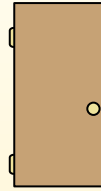
La parte metálica de un lápiz mide aproximadamente 1 cm. Una regla mide unos 30 centímetros.



Metro (m)

100 cm = 1 m

Desde el suelo hasta la perilla de una puerta hay aproximadamente 1 metro.



Kilómetro (km)


1,000 m = 1 km

La mayoría de las carreteras principales tienen al menos un kilómetro de largo.




1. _____
2. _____
3. _____
4. _____
5. _____
6. _____
7. _____
8. _____
9. _____

1)



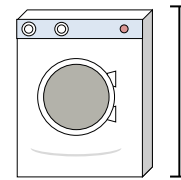
Hoja de cuaderno
 A. 60 Centímetros
 B. 15 Centímetros
 C. 1 Metro
 D. 25 Centímetros

2)



Galón de Leche
 A. 3 Metros
 B. 20 Centímetros
 C. 10 Milímetros
 D. 8 Centímetros

3)




Lavadora
 A. 10 Centímetros
 B. 30 Centímetros
 C. 1 Metro
 D. 2 Metros

4)



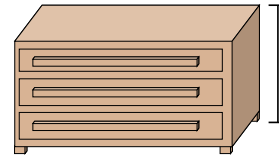
Barra de pegamento
 A. 30 Centímetros
 B. 10 Centímetros
 C. 6 Kilómetros
 D. 25 Centímetros

5)



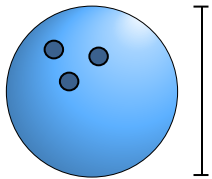
Elefante
 A. 45 Centímetros
 B. 4 Metros
 C. 150 Milímetros
 D. 2 Kilómetros

6)



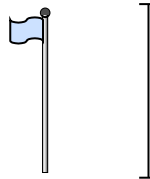
Vestidor
 A. 45 Centímetros
 B. 30 Centímetros
 C. 90 Centímetros
 D. 3 Metros

7)



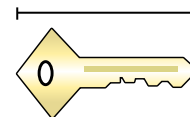
Altura de la bola de boliche
 A. 10 Centímetros
 B. 1 Metro
 C. 25 Centímetros
 D. 305 Centímetros

8)



Asta de bandera
 A. 300 Centímetros
 B. 9 Metros
 C. 2 Metros
 D. 2 Kilómetros

9)



Llave
 A. 2 Metros
 B. 5 Centímetros
 C. 15 Centímetros
 D. 150 Centímetros



Determina cuál letra mejor representa la longitud/altura.

Respuestas

Milímetro (mm)

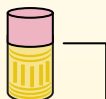
Un milímetro equivale al grosor de una tarjeta de crédito.



Centímetro (cm)

10 mm = 1 cm.

La parte metálica de un lápiz mide aproximadamente 1 cm. Una regla mide unos 30 centímetros.



Metro (m)

100 cm = 1 m


Desde el suelo hasta la perilla de una puerta hay aproximadamente 1 metro.




Kilómetro (km)

1,000 m = 1 km

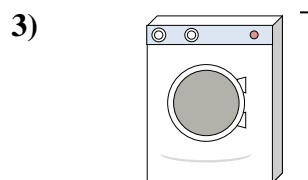
La mayoría de las carreteras principales tienen al menos un kilómetro de largo.



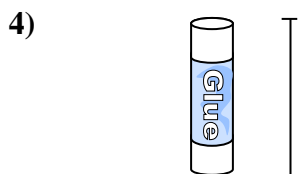
Hoja de cuaderno
A. 60 Centímetros
B. 15 Centímetros
C. 1 Metro
D. 25 Centímetros




Galón de Leche
A. 3 Metros
B. 20 Centímetros
C. 10 Milímetros
D. 8 Centímetros



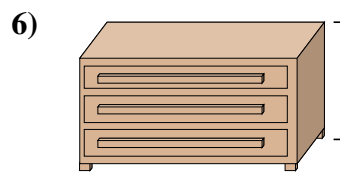
Lavadora
A. 10 Centímetros
B. 30 Centímetros
C. 1 Metro
D. 2 Metros




Barra de pegamento
A. 30 Centímetros
B. 10 Centímetros
C. 6 Kilómetros
D. 25 Centímetros



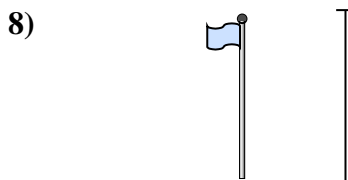
Elefante
A. 45 Centímetros
B. 4 Metros
C. 150 Milímetros
D. 2 Kilómetros



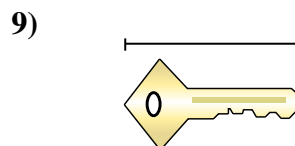
Vestidor
A. 45 Centímetros
B. 30 Centímetros
C. 90 Centímetros
D. 3 Metros



Altura de la bola de boliche
A. 10 Centímetros
B. 1 Metro
C. 25 Centímetros
D. 305 Centímetros



Asta de bandera
A. 300 Centímetros
B. 9 Metros
C. 2 Metros
D. 2 Kilómetros



Llave
A. 2 Metros
B. 5 Centímetros
C. 15 Centímetros
D. 150 Centímetros

- 1. **D**
- 2. **B**
- 3. **C**
- 4. **B**
- 5. **B**
- 6. **C**
- 7. **C**
- 8. **B**
- 9. **B**



Determina cuál letra mejor representa la longitud/altura.

Respuestas

Milímetro (mm)

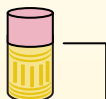
Un milímetro equivale al grosor de una tarjeta de crédito.



Centímetro (cm)

10 mm = 1 cm.

La parte metálica de un lápiz mide aproximadamente 1 cm. Una regla mide unos 30 centímetros.



Metro (m)

100 cm = 1 m

Desde el suelo hasta la perilla de una puerta hay aproximadamente 1 metro.




Kilómetro (km)

1,000 m = 1 km


La mayoría de las carreteras principales tienen al menos un kilómetro de largo.



1. _____
2. _____
3. _____
4. _____
5. _____
6. _____
7. _____
8. _____
9. _____



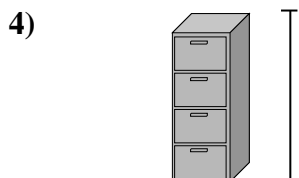
- Hoja de cuaderno
- A. 15 Centímetros
 - B. 25 Centímetros
 - C. 60 Centímetros
 - D. 1 Metro




- montaña
- A. 9 Metros
 - B. 3 Kilómetros
 - C. 60 Centímetros
 - D. 700 Milímetros



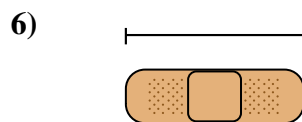
- Lápiz
- A. 5 Metros
 - B. 30 Milímetros
 - C. 12 Centímetros
 - D. 30 Centímetros



- Archivador
- A. 30 Milímetros
 - B. 60 Centímetros
 - C. 1.5 Milímetros
 - D. 30 Centímetros



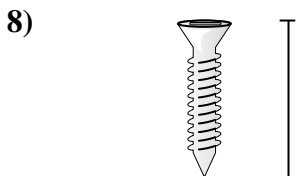
- Rana
- A. 4 Milímetros
 - B. 60 Centímetros
 - C. 8 Centímetros
 - D. 20 Centímetros



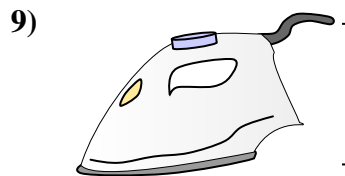
- Vendaje
- A. 9 Centímetros
 - B. 3 Kilómetros
 - C. 60 Centímetros
 - D. 1 Metro



- Insecto
- A. 30 Centímetros
 - B. 7 Milímetros
 - C. 5 Centímetros
 - D. 10 Centímetros



- Tornillo
- A. 3 Centímetros
 - B. 25 Centímetros
 - C. 20 Centímetros
 - D. 1 Metro



- Plancha de ropa
- A. 40 Centímetros
 - B. 15 Centímetros
 - C. 60 Centímetros
 - D. 240 Centímetros



Determina cuál letra mejor representa la longitud/altura.

Respuestas

Milímetro (mm)

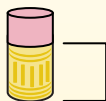
Un milímetro equivale al grosor de una tarjeta de crédito.



Centímetro (cm)

10 mm = 1 cm.

La parte metálica de un lápiz mide aproximadamente 1 cm. Una regla mide unos 30 centímetros.



Metro (m)

100 cm = 1 m

Desde el suelo hasta la perilla de una puerta hay aproximadamente 1 metro.




Kilómetro (km)

1,000 m = 1 km


La mayoría de las carreteras principales tienen al menos un kilómetro de largo.



1. **B**
2. **B**
3. **C**
4. **C**
5. **C**
6. **A**
7. **B**
8. **A**
9. **B**



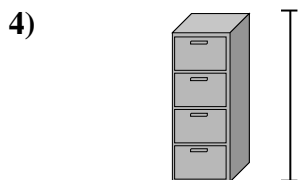
- Hoja de cuaderno
- A. 15 Centímetros
 - B. 25 Centímetros
 - C. 60 Centímetros
 - D. 1 Metro




- montaña
- A. 9 Metros
 - B. 3 Kilómetros
 - C. 60 Centímetros
 - D. 700 Milímetros



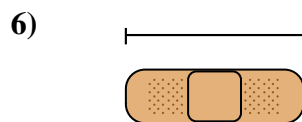
- Lápiz
- A. 5 Metros
 - B. 30 Milímetros
 - C. 12 Centímetros
 - D. 30 Centímetros



- Archivador
- A. 30 Milímetros
 - B. 60 Centímetros
 - C. 1.5 Milímetros
 - D. 30 Centímetros



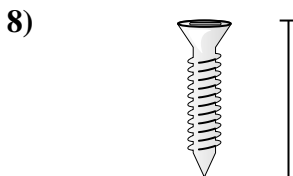
- Rana
- A. 4 Milímetros
 - B. 60 Centímetros
 - C. 8 Centímetros
 - D. 20 Centímetros



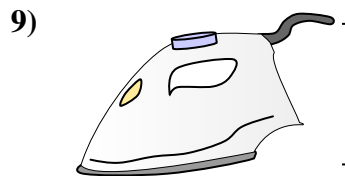
- Vendaje
- A. 9 Centímetros
 - B. 3 Kilómetros
 - C. 60 Centímetros
 - D. 1 Metro



- Insecto
- A. 30 Centímetros
 - B. 7 Milímetros
 - C. 5 Centímetros
 - D. 10 Centímetros



- Tornillo
- A. 3 Centímetros
 - B. 25 Centímetros
 - C. 20 Centímetros
 - D. 1 Metro



- Plancha de ropa
- A. 40 Centímetros
 - B. 15 Centímetros
 - C. 60 Centímetros
 - D. 240 Centímetros



Determina cuál letra mejor representa la longitud/altura.

Respuestas

Milímetro (mm)

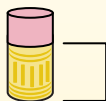
Un milímetro equivale al grosor de una tarjeta de crédito.



Centímetro (cm)

10 mm = 1 cm.

La parte metálica de un lápiz mide aproximadamente 1 cm. Una regla mide unos 30 centímetros.



Metro (m)

100 cm = 1 m

Desde el suelo hasta la perilla de una puerta hay aproximadamente 1 metro.



Kilómetro (km)


1,000 m = 1 km

La mayoría de las carreteras principales tienen al menos un kilómetro de largo.



1. _____
2. _____
3. _____
4. _____
5. _____
6. _____
7. _____
8. _____
9. _____


1)



Olla

- A. 10 Centímetros
- B. 3 Centímetros
- C. 60 Centímetros
- D. 25 Centímetros

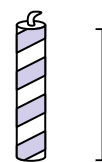
2)



Martillo

- A. 3 Centímetros
- B. 40 Centímetros
- C. 10 Centímetros
- D. 1 Metro

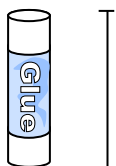
3)



Vela

- A. 20 Centímetros
- B. 30 Centímetros
- C. 5 Centímetros
- D. 2 Kilómetros

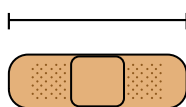
4)



Barra de pegamento

- A. 30 Centímetros
- B. 6 Kilómetros
- C. 25 Centímetros
- D. 10 Centímetros

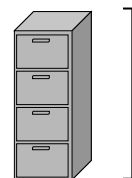
5)



Vendaje

- A. 60 Centímetros
- B. 3 Kilómetros
- C. 9 Centímetros
- D. 1 Metro


6)



Archivador

- A. 1.5 Milímetros
- B. 30 Milímetros
- C. 60 Centímetros
- D. 30 Centímetros


7)



Pala

- A. 60 Centímetros
- B. 1 Metro
- C. 30 Centímetros
- D. 3 Metros

8)



Altura del árbol

- A. 2 Kilómetros
- B. 100 Centímetros
- C. 5 Metros
- D. 30 Centímetros

9)

Unidad flash

- A. 60 Centímetros
- B. 30 Centímetros
- C. 15 Centímetros
- D. 6 Centímetros



Determina cuál letra mejor representa la longitud/altura.

Respuestas

Milímetro (mm)

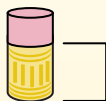
Un milímetro equivale al grosor de una tarjeta de crédito.



Centímetro (cm)

10 mm = 1 cm.

La parte metálica de un lápiz mide aproximadamente 1 cm. Una regla mide unos 30 centímetros.



Metro (m)

100 cm = 1 m

Desde el suelo hasta la perilla de una puerta hay aproximadamente 1 metro.



Kilómetro (km)


1,000 m = 1 km

La mayoría de las carreteras principales tienen al menos un kilómetro de largo.



- 1. **D**
- 2. **B**
- 3. **C**
- 4. **D**
- 5. **C**
- 6. **A**
- 7. **B**
- 8. **C**
- 9. **D**


1)



Olla

- A. 10 Centímetros
- B. 3 Centímetros
- C. 60 Centímetros
- D. 25 Centímetros

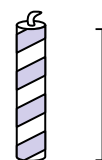
2)



Martillo

- A. 3 Centímetros
- B. 40 Centímetros
- C. 10 Centímetros
- D. 1 Metro

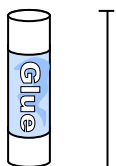
3)



Vela

- A. 20 Centímetros
- B. 30 Centímetros
- C. 5 Centímetros
- D. 2 Kilómetros

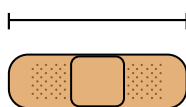
4)



Barra de pegamento

- A. 30 Centímetros
- B. 6 Kilómetros
- C. 25 Centímetros
- D. 10 Centímetros

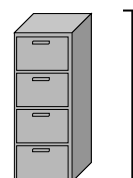
5)



Vendaje

- A. 60 Centímetros
- B. 3 Kilómetros
- C. 9 Centímetros
- D. 1 Metro

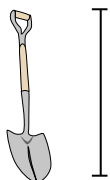
6)



Archivador

- A. 1.5 Milímetros
- B. 30 Milímetros
- C. 60 Centímetros
- D. 30 Centímetros


7)



Pala

- A. 60 Centímetros
- B. 1 Metro
- C. 30 Centímetros
- D. 3 Metros

8)



Altura del árbol

- A. 2 Kilómetros
- B. 100 Centímetros
- C. 5 Metros
- D. 30 Centímetros

9)

Unidad flash

- A. 60 Centímetros
- B. 30 Centímetros
- C. 15 Centímetros
- D. 6 Centímetros



Determina cuál letra mejor representa la longitud/altura.

Respuestas

Milímetro (mm)

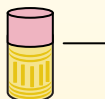
Un milímetro equivale al grosor de una tarjeta de crédito.



Centímetro (cm)

10 mm = 1 cm.

La parte metálica de un lápiz mide aproximadamente 1 cm. Una regla mide unos 30 centímetros.



Metro (m)

100 cm = 1 m

Desde el suelo hasta la perilla de una puerta hay aproximadamente 1 metro.



Kilómetro (km)

1,000 m = 1 km

La mayoría de las carreteras principales tienen al menos un kilómetro de largo.



1. _____
2. _____
3. _____
4. _____
5. _____
6. _____
7. _____
8. _____
9. _____

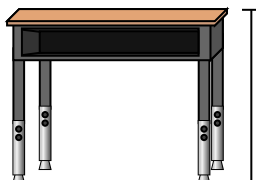
1)



Lápiz

- A. 12 Centímetros
- B. 30 Milímetros
- C. 30 Centímetros
- D. 5 Metros

2)



Escritorio

- A. 15 Centímetros
- B. 2 Metros
- C. 70 Centímetros
- D. 30 Centímetros

3)



Rana

- A. 20 Centímetros
- B. 8 Centímetros
- C. 4 Milímetros
- D. 60 Centímetros

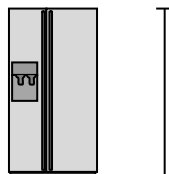
4)



Bicicleta

- A. 10 Centímetros
- B. 1 Metro
- C. 3 Metros
- D. 25 Centímetros

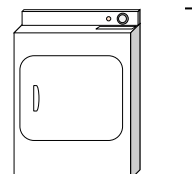
5)



Refrigerador

- A. 180 Centímetros
- B. 30 Centímetros
- C. 5 Kilómetros
- D. 4 Metros

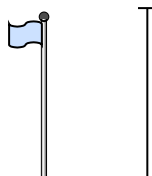
6)



Secadora de ropa

- A. 60 Centímetros
- B. 1 Metro
- C. 25 Centímetros
- D. 15 Centímetros


7)



Asta de bandera

- A. 2 Kilómetros
- B. 9 Metros
- C. 300 Centímetros
- D. 2 Metros

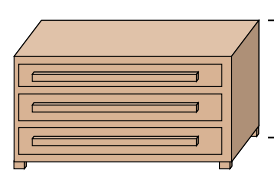
8)



Pelota de tenis

- A. 3 Milímetros
- B. 25 Centímetros
- C. 8 Centímetros
- D. 60 Centímetros

9)



Vestidor

- A. 45 Centímetros
- B. 90 Centímetros
- C. 3 Metros
- D. 30 Centímetros



Determina cuál letra mejor representa la longitud/altura.

Respuestas

Milímetro (mm)

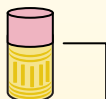
Un milímetro equivale al grosor de una tarjeta de crédito.



Centímetro (cm)

10 mm = 1 cm.

La parte metálica de un lápiz mide aproximadamente 1 cm. Una regla mide unos 30 centímetros.



Metro (m)

100 cm = 1 m

Desde el suelo hasta la perilla de una puerta hay aproximadamente 1 metro.



Kilómetro (km)

1,000 m = 1 km

La mayoría de las carreteras principales tienen al menos un kilómetro de largo.



- 1. **A**
- 2. **C**
- 3. **B**
- 4. **B**
- 5. **A**
- 6. **B**
- 7. **B**
- 8. **C**
- 9. **B**

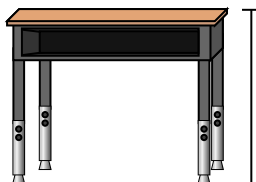
1)



Lápiz

- A. 12 Centímetros
- B. 30 Milímetros
- C. 30 Centímetros
- D. 5 Metros

2)



Escritorio

- A. 15 Centímetros
- B. 2 Metros
- C. 70 Centímetros
- D. 30 Centímetros

3)



Rana

- A. 20 Centímetros
- B. 8 Centímetros
- C. 4 Milímetros
- D. 60 Centímetros

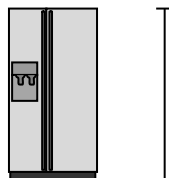
4)



Bicicleta

- A. 10 Centímetros
- B. 1 Metro
- C. 3 Metros
- D. 25 Centímetros

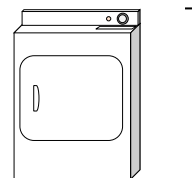
5)



Refrigerador

- A. 180 Centímetros
- B. 30 Centímetros
- C. 5 Kilómetros
- D. 4 Metros

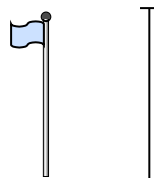
6)



Secadora de ropa

- A. 60 Centímetros
- B. 1 Metro
- C. 25 Centímetros
- D. 15 Centímetros

7)



Asta de bandera

- A. 2 Kilómetros
- B. 9 Metros
- C. 300 Centímetros
- D. 2 Metros

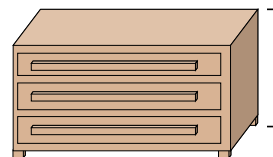
8)



Pelota de tenis

- A. 3 Milímetros
- B. 25 Centímetros
- C. 8 Centímetros
- D. 60 Centímetros

9)



Vestidor

- A. 45 Centímetros
- B. 90 Centímetros
- C. 3 Metros
- D. 30 Centímetros



Determina cuál letra mejor representa la longitud/altura.

Respuestas

Milímetro (mm)

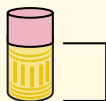
Un milímetro equivale al grosor de una tarjeta de crédito.



Centímetro (cm)

10 mm = 1 cm.

La parte metálica de un lápiz mide aproximadamente 1 cm. Una regla mide unos 30 centímetros.



Metro (m)

100 cm = 1 m

Desde el suelo hasta la perilla de una puerta hay aproximadamente 1 metro.



Kilómetro (km)

1,000 m = 1 km

La mayoría de las carreteras principales tienen al menos un kilómetro de largo.



1. _____
2. _____
3. _____
4. _____
5. _____
6. _____
7. _____
8. _____
9. _____

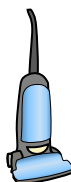
1)



Bicicleta

- A. 10 Centímetros
- B. 25 Centímetros
- C. 1 Metro
- D. 3 Metros


2)



Aspiradora

- A. 30 Centímetros
- B. 120 Centímetros
- C. 3 Metros
- D. 35 Centímetros


3)



Cepillo de dientes

- A. 3 Metros
- B. 10 Centímetros
- C. 17 Centímetros
- D. 1 Metro


4)



Altura de la caja de cereales

- A. 10 Centímetros
- B. 60 Centímetros
- C. 3 Centímetros
- D. 30 Centímetros

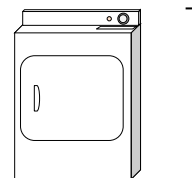
5)



Elefante

- A. 2 Kilómetros
- B. 150 Milímetros
- C. 45 Centímetros
- D. 4 Metros

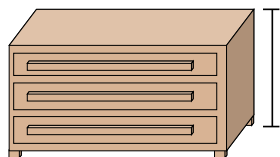
6)



Secadora de ropa

- A. 15 Centímetros
- B. 60 Centímetros
- C. 25 Centímetros
- D. 1 Metro

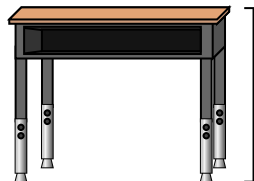
7)



Vestidor

- A. 30 Centímetros
- B. 3 Metros
- C. 90 Centímetros
- D. 45 Centímetros

8)



Escritorio

- A. 15 Centímetros
- B. 30 Centímetros
- C. 70 Centímetros
- D. 2 Metros

9)



Insecto

- A. 30 Centímetros
- B. 10 Centímetros
- C. 5 Centímetros
- D. 7 Milímetros



Determina cuál letra mejor representa la longitud/altura.

Respuestas

Milímetro (mm)

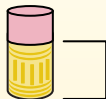
Un milímetro equivale al grosor de una tarjeta de crédito.



Centímetro (cm)

10 mm = 1 cm.


La parte metálica de un lápiz mide aproximadamente 1 cm. Una regla mide unos 30 centímetros.



Metro (m)

100 cm = 1 m

Desde el suelo hasta la perilla de una puerta hay aproximadamente 1 metro.



Kilómetro (km)

1,000 m = 1 km

La mayoría de las carreteras principales tienen al menos un kilómetro de largo.



- 1. **C**
- 2. **B**
- 3. **C**
- 4. **D**
- 5. **D**
- 6. **D**
- 7. **C**
- 8. **C**
- 9. **D**

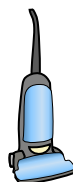
1)



Bicicleta

- A. 10 Centímetros
- B. 25 Centímetros
- C. 1 Metro
- D. 3 Metros

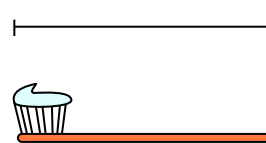
2)



Aspiradora

- A. 30 Centímetros
- B. 120 Centímetros
- C. 3 Metros
- D. 35 Centímetros


3)



Cepillo de dientes

- A. 3 Metros
- B. 10 Centímetros
- C. 17 Centímetros
- D. 1 Metro


4)



Altura de la caja de cereales

- A. 10 Centímetros
- B. 60 Centímetros
- C. 3 Centímetros
- D. 30 Centímetros

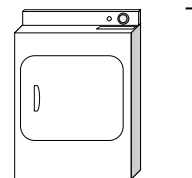
5)



Elefante

- A. 2 Kilómetros
- B. 150 Milímetros
- C. 45 Centímetros
- D. 4 Metros

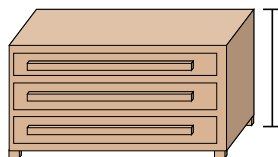
6)



Secadora de ropa

- A. 15 Centímetros
- B. 60 Centímetros
- C. 25 Centímetros
- D. 1 Metro

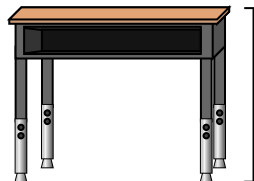
7)



Vestidor

- A. 30 Centímetros
- B. 3 Metros
- C. 90 Centímetros
- D. 45 Centímetros

8)



Escritorio

- A. 15 Centímetros
- B. 30 Centímetros
- C. 70 Centímetros
- D. 2 Metros

9)



Insecto

- A. 30 Centímetros
- B. 10 Centímetros
- C. 5 Centímetros
- D. 7 Milímetros



Determina cuál letra mejor representa la longitud/altura.

Respuestas

Milímetro (mm)

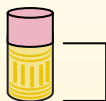
Un milímetro equivale al grosor de una tarjeta de crédito.



Centímetro (cm)

10 mm = 1 cm.

La parte metálica de un lápiz mide aproximadamente 1 cm. Una regla mide unos 30 centímetros.



Metro (m)

100 cm = 1 m

Desde el suelo hasta la perilla de una puerta hay aproximadamente 1 metro.



Kilómetro (km)


1,000 m = 1 km

La mayoría de las carreteras principales tienen al menos un kilómetro de largo.



1. _____
2. _____
3. _____
4. _____
5. _____
6. _____
7. _____
8. _____
9. _____


1)



Lata de soda

- A. 30 Centímetros
- B. 3 Centímetros
- C. 1 Metro
- D. 10 Centímetros


2)



Lavadora

- A. 1 Metro
- B. 30 Centímetros
- C. 2 Metros
- D. 10 Centímetros

3)



Chupete

- A. 30 Milímetros
- B. 30 Centímetros
- C. 2 Kilómetros
- D. 10 Centímetros

4)



Bicicleta

- A. 25 Centímetros
- B. 10 Centímetros
- C. 1 Metro
- D. 3 Metros


5)



Pala

- A. 30 Centímetros
- B. 60 Centímetros
- C. 1 Metro
- D. 3 Metros

6)



Altura de la bola de boliche

- A. 25 Centímetros
- B. 305 Centímetros
- C. 1 Metro
- D. 10 Centímetros

7)



Archivador

- A. 30 Centímetros
- B. 1.5 Milímetros
- C. 30 Milímetros
- D. 60 Centímetros

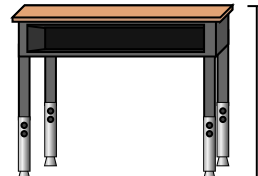
8)



Lápiz

- A. 30 Milímetros
- B. 20 Centímetros
- C. 150 Centímetros
- D. 1 Metro

9)



Escritorio

- A. 2 Metros
- B. 15 Centímetros
- C. 30 Centímetros
- D. 70 Centímetros



Determina cuál letra mejor representa la longitud/altura.

Respuestas

Milímetro (mm)

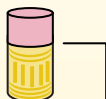
Un milímetro equivale al grosor de una tarjeta de crédito.



Centímetro (cm)

10 mm = 1 cm.

La parte metálica de un lápiz mide aproximadamente 1 cm. Una regla mide unos 30 centímetros.



Metro (m)

100 cm = 1 m

Desde el suelo hasta la perilla de una puerta hay aproximadamente 1 metro.



Kilómetro (km)

1,000 m = 1 km

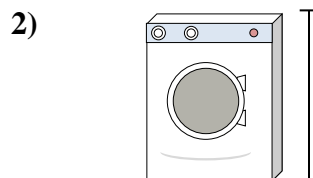
La mayoría de las carreteras principales tienen al menos un kilómetro de largo.




1. **D**
2. **A**
3. **D**
4. **C**
5. **C**
6. **A**
7. **B**
8. **B**
9. **D**



- Lata de soda
- A. 30 Centímetros
 - B. 3 Centímetros
 - C. 1 Metro
 - D. 10 Centímetros




- Lavadora
- A. 1 Metro
 - B. 30 Centímetros
 - C. 2 Metros
 - D. 10 Centímetros




- Chupete
- A. 30 Milímetros
 - B. 30 Centímetros
 - C. 2 Kilómetros
 - D. 10 Centímetros



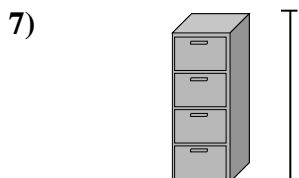
- Bicicleta
- A. 25 Centímetros
 - B. 10 Centímetros
 - C. 1 Metro
 - D. 3 Metros



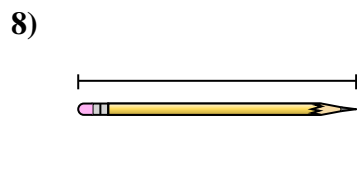
- Pala
- A. 30 Centímetros
 - B. 60 Centímetros
 - C. 1 Metro
 - D. 3 Metros



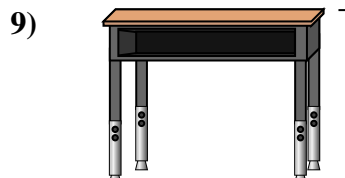
- Altura de la bola de boliche
- A. 25 Centímetros
 - B. 305 Centímetros
 - C. 1 Metro
 - D. 10 Centímetros



- Archivador
- A. 30 Centímetros
 - B. 1.5 Milímetros
 - C. 30 Milímetros
 - D. 60 Centímetros



- Lápiz
- A. 30 Milímetros
 - B. 20 Centímetros
 - C. 150 Centímetros
 - D. 1 Metro



- Escritorio
- A. 2 Metros
 - B. 15 Centímetros
 - C. 30 Centímetros
 - D. 70 Centímetros



Determina cuál letra mejor representa la longitud/altura.

Respuestas

Milímetro (mm)

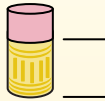
Un milímetro equivale al grosor de una tarjeta de crédito.



Centímetro (cm)

10 mm = 1 cm.

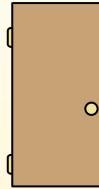
La parte metálica de un lápiz mide aproximadamente 1 cm. Una regla mide unos 30 centímetros.



Metro (m)

100 cm = 1 m

Desde el suelo hasta la perilla de una puerta hay aproximadamente 1 metro.



Kilómetro (km)

1,000 m = 1 km

La mayoría de las carreteras principales tienen al menos un kilómetro de largo.




1. _____
2. _____
3. _____
4. _____
5. _____
6. _____
7. _____
8. _____
9. _____

1)

DVD

- A. 10 Centímetros
- B. 1 Metro
- C. 30 Milímetros
- D. 30 Centímetros


2)



montaña

- A. 700 Milímetros
- B. 3 Kilómetros
- C. 60 Centímetros
- D. 9 Metros

3)



Rebanada de pan

- A. 120 Centímetros
- B. 2 Metros
- C. 10 Centímetros
- D. 25 Centímetros

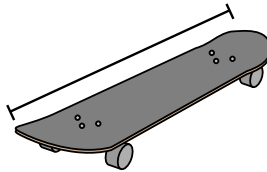
4)



Bicicleta

- A. 3 Metros
- B. 25 Centímetros
- C. 10 Centímetros
- D. 1 Metro

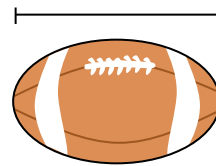
5)



Patineta

- A. 80 Centímetros
- B. 2 Metros
- C. 30 Centímetros
- D. 3 Centímetros

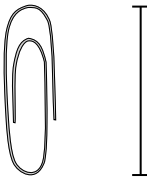
6)



Fútbol americano

- A. 1 Metro
- B. 25 Centímetros
- C. 3 Centímetros
- D. 60 Centímetros

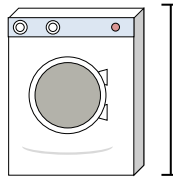
7)



Clip de papel

- A. 3 Centímetros
- B. 60 Centímetros
- C. 10 Centímetros
- D. 30 Centímetros

8)



Lavadora

- A. 30 Centímetros
- B. 1 Metro
- C. 2 Metros
- D. 10 Centímetros

9)



Barra de pegamento

- A. 10 Centímetros
- B. 30 Centímetros
- C. 25 Centímetros
- D. 6 Kilómetros



Determina cuál letra mejor representa la longitud/altura.

Respuestas

Milímetro (mm)

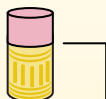
Un milímetro equivale al grosor de una tarjeta de crédito.



Centímetro (cm)

10 mm = 1 cm.

La parte metálica de un lápiz mide aproximadamente 1 cm. Una regla mide unos 30 centímetros.



Metro (m)

100 cm = 1 m

Desde el suelo hasta la perilla de una puerta hay aproximadamente 1 metro.



Kilómetro (km)

1,000 m = 1 km

La mayoría de las carreteras principales tienen al menos un kilómetro de largo.



1)

DVD

- A. 10 Centímetros
- B. 1 Metro
- C. 30 Milímetros
- D. 30 Centímetros


2)



montaña

- A. 700 Milímetros
- B. 3 Kilómetros
- C. 60 Centímetros
- D. 9 Metros

3)



Rebanada de pan

- A. 120 Centímetros
- B. 2 Metros
- C. 10 Centímetros
- D. 25 Centímetros

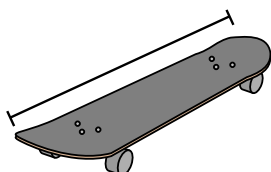
4)



Bicicleta

- A. 3 Metros
- B. 25 Centímetros
- C. 10 Centímetros
- D. 1 Metro

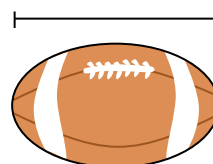
5)



Patineta

- A. 80 Centímetros
- B. 2 Metros
- C. 30 Centímetros
- D. 3 Centímetros

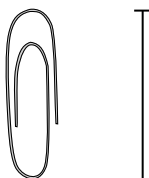
6)



Fútbol americano

- A. 1 Metro
- B. 25 Centímetros
- C. 3 Centímetros
- D. 60 Centímetros

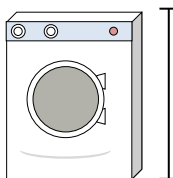
7)



Clip de papel

- A. 3 Centímetros
- B. 60 Centímetros
- C. 10 Centímetros
- D. 30 Centímetros

8)



Lavadora

- A. 30 Centímetros
- B. 1 Metro
- C. 2 Metros
- D. 10 Centímetros

9)



Barra de pegamento

- A. 10 Centímetros
- B. 30 Centímetros
- C. 25 Centímetros
- D. 6 Kilómetros

1. **A**

2. **B**

3. **C**

4. **D**

5. **A**

6. **B**

7. **A**

8. **B**

9. **A**