







Determine la cantidad de dinero que se muestra.


**Respuestas**


1) 


2) 


3) 


4) 


5) 

6) 

7) 

8) 

9) 

10) 

1. \_\_\_\_\_
2. \_\_\_\_\_
3. \_\_\_\_\_
4. \_\_\_\_\_
5. \_\_\_\_\_
6. \_\_\_\_\_
7. \_\_\_\_\_
8. \_\_\_\_\_
9. \_\_\_\_\_
10. \_\_\_\_\_



Determine la cantidad de dinero que se muestra.



**Respuestas**

1. **\$0.96**

2. **\$0.91**

3. **\$0.71**

4. **\$0.88**

5. **\$0.95**

6. **\$0.85**

7. **\$0.88**

8. **\$0.90**

9. **\$0.97**

10. **\$0.99**