




Determine la cantidad de dinero que se muestra.

**Respuestas**



1. \_\_\_\_\_



2. \_\_\_\_\_



3. \_\_\_\_\_

4. \_\_\_\_\_



5. \_\_\_\_\_

6. \_\_\_\_\_



7. \_\_\_\_\_

8. \_\_\_\_\_





9. \_\_\_\_\_

10. \_\_\_\_\_





Determine la cantidad de dinero que se muestra.



**Respuestas**

1. \$0.95

2. \$0.80

3. \$0.96

4. \$0.90

5. \$0.69

6. \$0.95

7. \$0.98

8. \$0.78

9. \$0.98

10. \$0.96



Determine la cantidad de dinero que se muestra.

Respuestas



1. \_\_\_\_\_



2. \_\_\_\_\_



3. \_\_\_\_\_




4. \_\_\_\_\_



5. \_\_\_\_\_



6. \_\_\_\_\_



7. \_\_\_\_\_



8. \_\_\_\_\_



9. \_\_\_\_\_



10. \_\_\_\_\_



Determine la cantidad de dinero que se muestra.




**Respuestas**

- 1.     **\$0.52**
- 2.     **\$0.95**
- 3.     **\$0.99**
- 4.     **\$0.70**
- 5.     **\$0.69**
- 6.     **\$0.95**
- 7.     **\$0.95**
- 8.     **\$0.97**
- 9.     **\$0.59**
- 10.     **\$0.66**



Determine la cantidad de dinero que se muestra.



**Respuestas**

1. \_\_\_\_\_

2. \_\_\_\_\_

3. \_\_\_\_\_

4. \_\_\_\_\_

5. \_\_\_\_\_

6. \_\_\_\_\_

7. \_\_\_\_\_


8. \_\_\_\_\_

9. \_\_\_\_\_

10. \_\_\_\_\_



Determine la cantidad de dinero que se muestra.



**Respuestas**

1. \$0.43

2. \$0.85

3. \$0.71

4. \$0.69

5. \$0.96

6. \$0.96

7. \$0.81

8. \$0.93

9. \$0.96

10. \$0.99



Determine la cantidad de dinero que se muestra.



**Respuestas**

- 1. \_\_\_\_\_
- 2. \_\_\_\_\_
- 3. \_\_\_\_\_
- 4. \_\_\_\_\_
- 5. \_\_\_\_\_
- 6. \_\_\_\_\_
- 7. \_\_\_\_\_
- 8. \_\_\_\_\_
- 9. \_\_\_\_\_
- 10. \_\_\_\_\_



Determine la cantidad de dinero que se muestra.



**Respuestas**

1. **\$0.95**

2. **\$0.71**

3. **\$0.63**

4. **\$0.50**

5. **\$0.97**

6. **\$0.90**

7. **\$0.97**

8. **\$0.85**

9. **\$0.97**

10. **\$0.96**





Determine la cantidad de dinero que se muestra.

**Respuestas**



1. \_\_\_\_\_



2. \_\_\_\_\_



3. \_\_\_\_\_



4. \_\_\_\_\_



5. \_\_\_\_\_



6. \_\_\_\_\_



7. \_\_\_\_\_



8. \_\_\_\_\_



9. \_\_\_\_\_



10. \_\_\_\_\_



Determine la cantidad de dinero que se muestra.



**Respuestas**

1. **\$0.96**

2. **\$0.95**

3. **\$0.88**

4. **\$0.97**

5. **\$0.99**

6. **\$0.76**

7. **\$0.91**


8. **\$0.99**

9. **\$0.97**

10. **\$0.85**



Determine la cantidad de dinero que se muestra.






**Respuestas**

- 1. \_\_\_\_\_
- 2. \_\_\_\_\_
- 3. \_\_\_\_\_
- 4. \_\_\_\_\_
- 5. \_\_\_\_\_
- 6. \_\_\_\_\_
- 7. \_\_\_\_\_
- 8. \_\_\_\_\_
- 9. \_\_\_\_\_
- 10. \_\_\_\_\_



Determine la cantidad de dinero que se muestra.



**Respuestas**

1. **\$0.81**

2. **\$0.95**

3. **\$0.98**

4. **\$0.99**

5. **\$0.96**

6. **\$0.92**

7. **\$0.98**

8. **\$0.99**

9. **\$0.98**

10. **\$0.68**



Determine la cantidad de dinero que se muestra.

**Respuestas**




1. \_\_\_\_\_




2. \_\_\_\_\_



3. \_\_\_\_\_



4. \_\_\_\_\_



5. \_\_\_\_\_




6. \_\_\_\_\_



7. \_\_\_\_\_



8. \_\_\_\_\_






9. \_\_\_\_\_



10. \_\_\_\_\_



Determine la cantidad de dinero que se muestra.



**Respuestas**

1. \$0.96

2. \$0.96

3. \$0.97

4. \$0.95

5. \$0.95

6. \$0.99

7. \$0.99

8. \$0.98

9. \$0.97

10. \$0.97



Determine la cantidad de dinero que se muestra.

**Respuestas**

1)



1. \_\_\_\_\_

2)



2. \_\_\_\_\_

3)



3. \_\_\_\_\_

4)



4. \_\_\_\_\_

5)



5. \_\_\_\_\_

6)



6. \_\_\_\_\_

7)




7. \_\_\_\_\_

8)



8. \_\_\_\_\_

9)



9. \_\_\_\_\_

10)



10. \_\_\_\_\_



Determine la cantidad de dinero que se muestra.



**Respuestas**

1. **\$0.96**

2. **\$0.91**

3. **\$0.71**

4. **\$0.88**

5. **\$0.95**

6. **\$0.85**

7. **\$0.88**

8. **\$0.90**

9. **\$0.97**

10. **\$0.99**





Determine la cantidad de dinero que se muestra.

**Respuestas**



1. \_\_\_\_\_



2. \_\_\_\_\_



3. \_\_\_\_\_



4. \_\_\_\_\_



5. \_\_\_\_\_



6. \_\_\_\_\_



7. \_\_\_\_\_



8. \_\_\_\_\_



9. \_\_\_\_\_



10. \_\_\_\_\_



Determine la cantidad de dinero que se muestra.



**Respuestas**

1. \$0.95

2. \$0.91

3. \$0.81

4. \$0.96

5. \$0.93

6. \$0.53

7. \$0.79

8. \$0.96


9. \$0.98

10. \$0.54



Determine la cantidad de dinero que se muestra.

**Respuestas**



1. \_\_\_\_\_



2. \_\_\_\_\_



3. \_\_\_\_\_

4. \_\_\_\_\_



5. \_\_\_\_\_

6. \_\_\_\_\_



7. \_\_\_\_\_

8. \_\_\_\_\_




9. \_\_\_\_\_

10. \_\_\_\_\_





Determine la cantidad de dinero que se muestra.



**Respuestas**

1. \$0.90

2. \$0.73

3. \$0.99

4. \$0.68

5. \$0.98

6. \$0.96

7. \$0.98

8. \$0.89

9. \$0.88

10. \$0.95