



Determina la cantidad de dinero que se muestra.

Respuestas

1)



1. _____

2. _____

3. _____

4. _____

5. _____

2)



3)



4)



5)





Determina la cantidad de dinero que se muestra.

Respuestas



1. \$56.93



2. \$63.67



3. \$51.98



4. \$30.53



5. \$70.03



Determina la cantidad de dinero que se muestra.

Respuestas

1)



1. _____

2. _____

3. _____

4. _____

5. _____

2)



3)



4)



5)





Determina la cantidad de dinero que se muestra.

Respuestas



1. \$47.85



2. \$28.55



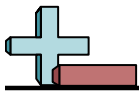
3. \$5.59



4. \$64.52



5. \$53.78



Determina la cantidad de dinero que se muestra.

Respuestas



1. _____

2. _____

3. _____

4. _____

5. _____





Determina la cantidad de dinero que se muestra.

Respuestas



1. \$35.56



2. \$61.80



3. \$17.97



4. \$71.35



5. \$75.52



Determina la cantidad de dinero que se muestra.

Respuestas



1. _____

2. _____

3. _____

4. _____

5. _____





Determina la cantidad de dinero que se muestra.



Respuestas

1. **\$47.27**
2. **\$22.22**
3. **\$55.00**
4. **\$73.99**
5. **\$52.43**



Determina la cantidad de dinero que se muestra.



Respuestas

1. \$68.27

2. \$41.34

3. \$30.32


4. \$58.43

5. \$8.62



Determina la cantidad de dinero que se muestra.

Respuestas



1. _____

2. _____

3. _____

4. _____

5. _____





Determina la cantidad de dinero que se muestra.

Respuestas



1. \$28.26



2. \$63.27



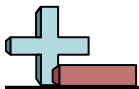
3. \$53.28



4. \$65.32



5. \$25.32



Determina la cantidad de dinero que se muestra.

Respuestas

1)

1. _____

2. _____

3. _____

4. _____

5. _____

2)

3)

4)

5)



Determina la cantidad de dinero que se muestra.

Respuestas



1. **\$97.62**



2. **\$15.69**



3. **\$83.32**



4. **\$98.13**



5. **\$52.33**



Determina la cantidad de dinero que se muestra.

Respuestas



1. _____

2. _____

3. _____

4. _____

5. _____





Determina la cantidad de dinero que se muestra.

Respuestas



1. **\$92.02**



2. **\$71.22**



3. **\$63.89**



4. **\$67.29**



5. **\$90.57**



Determina la cantidad de dinero que se muestra.

Respuestas



1. _____

2. _____

3. _____

4. _____

5. _____





Determina la cantidad de dinero que se muestra.

Respuestas



1. \$46.99

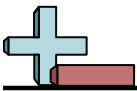
2. \$69.85

3. \$60.38

4. \$99.38

5. \$40.12





Determina la cantidad de dinero que se muestra.

Respuestas



1. _____

2. _____

3. _____

4. _____

5. _____





Determina la cantidad de dinero que se muestra.



Respuestas

1. **\$36.22**

2. **\$66.88**

3. **\$79.35**

4. **\$64.81**

5. **\$68.28**