



Resuelve cada problema.

Respuestas

- 1) En la feria del libro, Alejandro gastó \$8.91 comprando libros. Le dio al cajero el dinero mostrado. ¿Cuánto cambio le deberían regresar?



1. _____

- 2) Sofía compró un nuevo juego de mesa por \$17.71. Ella le dio al cajero el dinero que se muestra. ¿Cuánto cambio le deberían regresar?



2. _____

- 3) Rocio gastó \$9.55 en una entrada al cine. Ella le dio al cajero el dinero que se muestra. ¿Cuánto cambio le deberían regresar?



3. _____

- 4) Emanuel gastó \$16.07 comprando algunos juguetes nuevos. Los compró usando el dinero que se muestra. ¿Cuánto cambio le deberían regresar?



4. _____

- 5) En la feria, Valentina gastó \$4.61 comprando comida de feria. Ella le dio al cajero el dinero que se muestra. ¿Cuánto cambio le deberían regresar?



5. _____

- 6) Victor gastó \$14.46 en dulces en el centro comercial. Le dio al cajero el dinero mostrado. ¿Cuánto cambio le deberían regresar?



6. _____



Resuelve cada problema.

- 1) En la feria del libro, Alejandro gastó \$8.91 comprando libros. Le dio al cajero el dinero mostrado. ¿Cuánto cambio le deberían regresar?



- 2) Sofía compró un nuevo juego de mesa por \$17.71. Ella le dio al cajero el dinero que se muestra. ¿Cuánto cambio le deberían regresar?



- 3) Rocio gastó \$9.55 en una entrada al cine. Ella le dio al cajero el dinero que se muestra. ¿Cuánto cambio le deberían regresar?



- 4) Emanuel gastó \$16.07 comprando algunos juguetes nuevos. Los compró usando el dinero que se muestra. ¿Cuánto cambio le deberían regresar?



- 5) En la feria, Valentina gastó \$4.61 comprando comida de feria. Ella le dio al cajero el dinero que se muestra. ¿Cuánto cambio le deberían regresar?



- 6) Victor gastó \$14.46 en dulces en el centro comercial. Le dio al cajero el dinero mostrado. ¿Cuánto cambio le deberían regresar?



Respuestas

1. **\$1.09**

2. **\$0.10**

3. **\$0.05**

4. **\$3.93**

5. **\$16.09**

6. **\$5.54**



Resuelve cada problema.

Respuestas

- 1) Samuel gastó \$13.91 comprando algunos juguetes nuevos. Los compró usando el dinero que se muestra. ¿Cuánto cambio le deberían regresar?



1. _____

- 2) En la feria del libro, Leonardo gastó \$13.16 comprando libros. Le dio al cajero el dinero mostrado. ¿Cuánto cambio le deberían regresar?



2. _____

3. _____

4. _____

5. _____

6. _____

- 3) Daniel compró \$7.97 en comestibles. Le dio al cajero el dinero mostrado. ¿Cuánto cambio le deberían regresar?



- 4) Beatriz compró un nuevo juego de mesa por \$13.57. Ella le dio al cajero el dinero que se muestra. ¿Cuánto cambio le deberían regresar?



- 5) Alejandra gastó \$16.14 en una entrada al cine. Ella le dio al cajero el dinero que se muestra. ¿Cuánto cambio le deberían regresar?



- 6) Zacarias gastó \$3.95 en dulces en el centro comercial. Le dio al cajero el dinero mostrado. ¿Cuánto cambio le deberían regresar?





Resuelve cada problema.

- 1) Samuel gastó \$13.91 comprando algunos juguetes nuevos. Los compró usando el dinero que se muestra. ¿Cuánto cambio le deberían regresar?



- 2) En la feria del libro, Leonardo gastó \$13.16 comprando libros. Le dio al cajero el dinero mostrado. ¿Cuánto cambio le deberían regresar?



- 3) Daniel compró \$7.97 en comestibles. Le dio al cajero el dinero mostrado. ¿Cuánto cambio le deberían regresar?



- 4) Beatriz compró un nuevo juego de mesa por \$13.57. Ella le dio al cajero el dinero que se muestra. ¿Cuánto cambio le deberían regresar?



- 5) Alejandra gastó \$16.14 en una entrada al cine. Ella le dio al cajero el dinero que se muestra. ¿Cuánto cambio le deberían regresar?



- 6) Zacarias gastó \$3.95 en dulces en el centro comercial. Le dio al cajero el dinero mostrado. ¿Cuánto cambio le deberían regresar?



Respuestas

1. **\$2.09**

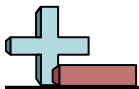
2. **\$0.25**

3. **\$2.03**

4. **\$0.10**

5. **\$4.01**

6. **\$2.00**



Resuelve cada problema.

Respuestas

- 1) En la feria, Flor gastó \$6.51 comprando comida de feria. Ella le dio al cajero el dinero que se muestra. ¿Cuánto cambio le deberían regresar?



1. _____

2. _____

3. _____

- 2) En la feria del libro, Ramiro gastó \$3.77 comprando libros. Le dio al cajero el dinero mostrado. ¿Cuánto cambio le deberían regresar?



4. _____

5. _____

6. _____

- 3) Cesar gastó \$16.69 comprando algunos juguetes nuevos. Los compró usando el dinero que se muestra. ¿Cuánto cambio le deberían regresar?



- 4) Gustavo compró \$12.99 en comestibles. Le dio al cajero el dinero mostrado. ¿Cuánto cambio le deberían regresar?



- 5) Alejandra compró un nuevo juego de mesa por \$4.65. Ella le dio al cajero el dinero que se muestra. ¿Cuánto cambio le deberían regresar?



- 6) Hilda gastó \$17.52 en una entrada al cine. Ella le dio al cajero el dinero que se muestra. ¿Cuánto cambio le deberían regresar?





Resuelve cada problema.

- 1) En la feria, Flor gastó \$6.51 comprando comida de feria. Ella le dio al cajero el dinero que se muestra. ¿Cuánto cambio le deberían regresar?



- 2) En la feria del libro, Ramiro gastó \$3.77 comprando libros. Le dio al cajero el dinero mostrado. ¿Cuánto cambio le deberían regresar?



- 3) Cesar gastó \$16.69 comprando algunos juguetes nuevos. Los compró usando el dinero que se muestra. ¿Cuánto cambio le deberían regresar?




- 4) Gustavo compró \$12.99 en comestibles. Le dio al cajero el dinero mostrado. ¿Cuánto cambio le deberían regresar?



- 5) Alejandra compró un nuevo juego de mesa por \$4.65. Ella le dio al cajero el dinero que se muestra. ¿Cuánto cambio le deberían regresar?



- 6) Hilda gastó \$17.52 en una entrada al cine. Ella le dio al cajero el dinero que se muestra. ¿Cuánto cambio le deberían regresar?



Respuestas

1. **\$0.25**

2. **\$1.23**

3. **\$3.31**

4. **\$8.01**

5. **\$0.10**

6. **\$3.23**



Resuelve cada problema.

Respuestas

- 1) Guadalupe gastó \$6.92 en una entrada al cine. Ella le dio al cajero el dinero que se muestra. ¿Cuánto cambio le deberían regresar?



1. _____

2. _____

3. _____

- 2) Zacarias gastó \$8.05 comprando algunos juguetes nuevos. Los compró usando el dinero que se muestra. ¿Cuánto cambio le deberían regresar?




4. _____

5. _____

6. _____


- 3) En la feria, Julieta gastó \$17.24 comprando comida de feria. Ella le dio al cajero el dinero que se muestra. ¿Cuánto cambio le deberían regresar?



- 4) Humberto gastó \$17.07 en dulces en el centro comercial. Le dio al cajero el dinero mostrado. ¿Cuánto cambio le deberían regresar?



- 5) Carmen compró un nuevo juego de mesa por \$12.24. Ella le dio al cajero el dinero que se muestra. ¿Cuánto cambio le deberían regresar?



- 6) Fernando compró \$12.97 en comestibles. Le dio al cajero el dinero mostrado. ¿Cuánto cambio le deberían regresar?





Resuelve cada problema.

- 1) Guadalupe gastó \$6.92 en una entrada al cine. Ella le dio al cajero el dinero que se muestra. ¿Cuánto cambio le deberían regresar?



- 2) Zacarias gastó \$8.05 comprando algunos juguetes nuevos. Los compró usando el dinero que se muestra. ¿Cuánto cambio le deberían regresar?



- 3) En la feria, Julieta gastó \$17.24 comprando comida de feria. Ella le dio al cajero el dinero que se muestra. ¿Cuánto cambio le deberían regresar?



- 4) Humberto gastó \$17.07 en dulces en el centro comercial. Le dio al cajero el dinero mostrado. ¿Cuánto cambio le deberían regresar?



- 5) Carmen compró un nuevo juego de mesa por \$12.24. Ella le dio al cajero el dinero que se muestra. ¿Cuánto cambio le deberían regresar?



- 6) Fernando compró \$12.97 en comestibles. Le dio al cajero el dinero mostrado. ¿Cuánto cambio le deberían regresar?



Respuestas

1. **\$14.08**

2. **\$2.05**

3. **\$0.10**

4. **\$2.93**

5. **\$0.10**

6. **\$7.03**



Resuelve cada problema.

Respuestas

- 1) Emanuel gastó \$6.90 comprando algunos juguetes nuevos. Los compró usando el dinero que se muestra. ¿Cuánto cambio le deberían regresar?



1. _____

2. _____

3. _____

- 2) Uriel compró \$8.16 en comestibles. Le dio al cajero el dinero mostrado. ¿Cuánto cambio le deberían regresar?



4. _____

5. _____

6. _____

- 3) Natalia gastó \$13.40 en una entrada al cine. Ella le dio al cajero el dinero que se muestra. ¿Cuánto cambio le deberían regresar?



- 4) En la feria del libro, Samuel gastó \$11.86 comprando libros. Le dio al cajero el dinero mostrado. ¿Cuánto cambio le deberían regresar?



- 5) En la feria, Wendy gastó \$8.52 comprando comida de feria. Ella le dio al cajero el dinero que se muestra. ¿Cuánto cambio le deberían regresar?



- 6) Julieta compró un nuevo juego de mesa por \$9.13. Ella le dio al cajero el dinero que se muestra. ¿Cuánto cambio le deberían regresar?





Resuelve cada problema.

- 1) Emanuel gastó \$6.90 comprando algunos juguetes nuevos. Los compró usando el dinero que se muestra. ¿Cuánto cambio le deberían regresar?



- 2) Uriel compró \$8.16 en comestibles. Le dio al cajero el dinero mostrado. ¿Cuánto cambio le deberían regresar?



- 3) Natalia gastó \$13.40 en una entrada al cine. Ella le dio al cajero el dinero que se muestra. ¿Cuánto cambio le deberían regresar?



- 4) En la feria del libro, Samuel gastó \$11.86 comprando libros. Le dio al cajero el dinero mostrado. ¿Cuánto cambio le deberían regresar?



- 5) En la feria, Wendy gastó \$8.52 comprando comida de feria. Ella le dio al cajero el dinero que se muestra. ¿Cuánto cambio le deberían regresar?



- 6) Julieta compró un nuevo juego de mesa por \$9.13. Ella le dio al cajero el dinero que se muestra. ¿Cuánto cambio le deberían regresar?



Respuestas

1. **\$4.00**

2. **\$0.25**

3. **\$2.10**

4. **\$8.14**

5. **\$0.10**

6. **\$0.87**



Resuelve cada problema.

Respuestas

- 1) Zacarias gastó \$18.38 comprando algunos juguetes nuevos. Los compró usando el dinero que se muestra. ¿Cuánto cambio le deberían regresar?



1. _____

- 2) Olivia compró un nuevo juego de mesa por \$7.62. Ella le dio al cajero el dinero que se muestra. ¿Cuánto cambio le deberían regresar?



2. _____

- 3) En la feria del libro, Ramiro gastó \$13.22 comprando libros. Le dio al cajero el dinero mostrado. ¿Cuánto cambio le deberían regresar?



3. _____

- 4) María gastó \$13.24 en una entrada al cine. Ella le dio al cajero el dinero que se muestra. ¿Cuánto cambio le deberían regresar?



4. _____

- 5) Alejandro gastó \$4.88 en dulces en el centro comercial. Le dio al cajero el dinero mostrado. ¿Cuánto cambio le deberían regresar?



5. _____

- 6) Emanuel compró \$7.26 en comestibles. Le dio al cajero el dinero mostrado. ¿Cuánto cambio le deberían regresar?



6. _____



Resuelve cada problema.

- 1) Zacarias gastó \$18.38 comprando algunos juguetes nuevos. Los compró usando el dinero que se muestra. ¿Cuánto cambio le deberían regresar?



- 2) Olivia compró un nuevo juego de mesa por \$7.62. Ella le dio al cajero el dinero que se muestra. ¿Cuánto cambio le deberían regresar?



- 3) En la feria del libro, Ramiro gastó \$13.22 comprando libros. Le dio al cajero el dinero mostrado. ¿Cuánto cambio le deberían regresar?



- 4) María gastó \$13.24 en una entrada al cine. Ella le dio al cajero el dinero que se muestra. ¿Cuánto cambio le deberían regresar?



- 5) Alejandro gastó \$4.88 en dulces en el centro comercial. Le dio al cajero el dinero mostrado. ¿Cuánto cambio le deberían regresar?



- 6) Emanuel compró \$7.26 en comestibles. Le dio al cajero el dinero mostrado. ¿Cuánto cambio le deberían regresar?



Respuestas

1. **\$1.62**

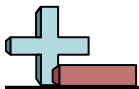
2. **\$3.08**

3. **\$0.10**

4. **\$2.01**

5. **\$0.12**

6. **\$13.04**



Resuelve cada problema.

Respuestas

- 1) En la feria del libro, Ignacio gastó \$4.35 comprando libros. Le dio al cajero el dinero mostrado. ¿Cuánto cambio le deberían regresar?



1. _____

2. _____

3. _____

- 2) Laura compró un nuevo juego de mesa por \$7.44. Ella le dio al cajero el dinero que se muestra. ¿Cuánto cambio le deberían regresar?



4. _____

5. _____

6. _____

- 3) Beatriz gastó \$2.41 en una entrada al cine. Ella le dio al cajero el dinero que se muestra. ¿Cuánto cambio le deberían regresar?



- 4) Marco compró \$8.69 en comestibles. Le dio al cajero el dinero mostrado. ¿Cuánto cambio le deberían regresar?



- 5) Alejandro gastó \$6.12 en dulces en el centro comercial. Le dio al cajero el dinero mostrado. ¿Cuánto cambio le deberían regresar?



- 6) En la feria, Olivia gastó \$17.12 comprando comida de feria. Ella le dio al cajero el dinero que se muestra. ¿Cuánto cambio le deberían regresar?





Resuelve cada problema.

- 1) En la feria del libro, Ignacio gastó \$4.35 comprando libros. Le dio al cajero el dinero mostrado. ¿Cuánto cambio le deberían regresar?



- 2) Laura compró un nuevo juego de mesa por \$7.44. Ella le dio al cajero el dinero que se muestra. ¿Cuánto cambio le deberían regresar?



- 3) Beatriz gastó \$2.41 en una entrada al cine. Ella le dio al cajero el dinero que se muestra. ¿Cuánto cambio le deberían regresar?



- 4) Marco compró \$8.69 en comestibles. Le dio al cajero el dinero mostrado. ¿Cuánto cambio le deberían regresar?



- 5) Alejandro gastó \$6.12 en dulces en el centro comercial. Le dio al cajero el dinero mostrado. ¿Cuánto cambio le deberían regresar?



- 6) En la feria, Olivia gastó \$17.12 comprando comida de feria. Ella le dio al cajero el dinero que se muestra. ¿Cuánto cambio le deberían regresar?



Respuestas

1. **\$0.05**

2. **\$2.56**

3. **\$0.05**

4. **\$2.01**

5. **\$0.04**

6. **\$3.13**



Resuelve cada problema.

Respuestas

- 1) En la feria, Julieta gastó \$13.28 comprando comida de feria. Ella le dio al cajero el dinero que se muestra. ¿Cuánto cambio le deberían regresar?



1. _____

- 2) Rocio compró un nuevo juego de mesa por \$8.30. Ella le dio al cajero el dinero que se muestra. ¿Cuánto cambio le deberían regresar?



2. _____

- 3) Ramiro gastó \$13.61 en dulces en el centro comercial. Le dio al cajero el dinero mostrado. ¿Cuánto cambio le deberían regresar?



3. _____

- 4) Samuel compró \$9.56 en comestibles. Le dio al cajero el dinero mostrado. ¿Cuánto cambio le deberían regresar?



4. _____

- 5) Paulo gastó \$7.66 comprando algunos juguetes nuevos. Los compró usando el dinero que se muestra. ¿Cuánto cambio le deberían regresar?



5. _____

- 6) En la feria del libro, Daniel gastó \$14.08 comprando libros. Le dio al cajero el dinero mostrado. ¿Cuánto cambio le deberían regresar?



6. _____



Resuelve cada problema.

- 1) En la feria, Julieta gastó \$13.28 comprando comida de feria. Ella le dio al cajero el dinero que se muestra. ¿Cuánto cambio le deberían regresar?



- 2) Rocio compró un nuevo juego de mesa por \$8.30. Ella le dio al cajero el dinero que se muestra. ¿Cuánto cambio le deberían regresar?



- 3) Ramiro gastó \$13.61 en dulces en el centro comercial. Le dio al cajero el dinero mostrado. ¿Cuánto cambio le deberían regresar?



- 4) Samuel compró \$9.56 en comestibles. Le dio al cajero el dinero mostrado. ¿Cuánto cambio le deberían regresar?



- 5) Paulo gastó \$7.66 comprando algunos juguetes nuevos. Los compró usando el dinero que se muestra. ¿Cuánto cambio le deberían regresar?



- 6) En la feria del libro, Daniel gastó \$14.08 comprando libros. Le dio al cajero el dinero mostrado. ¿Cuánto cambio le deberían regresar?



Respuestas

1. **\$2.22**

2. **\$0.05**

3. **\$7.04**

4. **\$0.05**

5. **\$2.34**

6. **\$5.92**



Resuelve cada problema.

Respuestas

- 1) Beatriz compró un nuevo juego de mesa por \$2.96. Ella le dio al cajero el dinero que se muestra. ¿Cuánto cambio le deberían regresar?



1. _____

- 2) En la feria del libro, Octavio gastó \$13.57 comprando libros. Le dio al cajero el dinero mostrado. ¿Cuánto cambio le deberían regresar?



2. _____

3. _____

4. _____

5. _____

6. _____

- 3) Karen gastó \$8.28 en una entrada al cine. Ella le dio al cajero el dinero que se muestra. ¿Cuánto cambio le deberían regresar?



- 4) Zacarias compró \$11.78 en comestibles. Le dio al cajero el dinero mostrado. ¿Cuánto cambio le deberían regresar?



- 5) Humberto gastó \$6.37 en dulces en el centro comercial. Le dio al cajero el dinero mostrado. ¿Cuánto cambio le deberían regresar?



- 6) Jose gastó \$3.50 comprando algunos juguetes nuevos. Los compró usando el dinero que se muestra. ¿Cuánto cambio le deberían regresar?





Resuelve cada problema.

- 1) Beatriz compró un nuevo juego de mesa por \$2.96. Ella le dio al cajero el dinero que se muestra. ¿Cuánto cambio le deberían regresar?



- 2) En la feria del libro, Octavio gastó \$13.57 comprando libros. Le dio al cajero el dinero mostrado. ¿Cuánto cambio le deberían regresar?



- 3) Karen gastó \$8.28 en una entrada al cine. Ella le dio al cajero el dinero que se muestra. ¿Cuánto cambio le deberían regresar?



- 4) Zacarias compró \$11.78 en comestibles. Le dio al cajero el dinero mostrado. ¿Cuánto cambio le deberían regresar?



- 5) Humberto gastó \$6.37 en dulces en el centro comercial. Le dio al cajero el dinero mostrado. ¿Cuánto cambio le deberían regresar?



- 6) Jose gastó \$3.50 comprando algunos juguetes nuevos. Los compró usando el dinero que se muestra. ¿Cuánto cambio le deberían regresar?



Respuestas

1. **\$7.04**

2. **\$0.04**

3. **\$1.72**

4. **\$0.10**

5. **\$4.13**

6. **\$2.00**



Resuelve cada problema.

Respuestas

- 1) Victor gastó \$16.71 en dulces en el centro comercial. Le dio al cajero el dinero mostrado. ¿Cuánto cambio le deberían regresar?



1. _____

- 2) Leonardo compró \$3.70 en comestibles. Le dio al cajero el dinero mostrado. ¿Cuánto cambio le deberían regresar?



2. _____

3. _____

4. _____

5. _____

6. _____

- 3) Zacarias gastó \$8.33 comprando algunos juguetes nuevos. Los compró usando el dinero que se muestra. ¿Cuánto cambio le deberían regresar?



- 4) En la feria del libro, Gustavo gastó \$14.05 comprando libros. Le dio al cajero el dinero mostrado. ¿Cuánto cambio le deberían regresar?



- 5) Elena compró un nuevo juego de mesa por \$14.67. Ella le dio al cajero el dinero que se muestra. ¿Cuánto cambio le deberían regresar?



- 6) Natalia gastó \$9.48 en una entrada al cine. Ella le dio al cajero el dinero que se muestra. ¿Cuánto cambio le deberían regresar?





Resuelve cada problema.

- 1) Victor gastó \$16.71 en dulces en el centro comercial. Le dio al cajero el dinero mostrado. ¿Cuánto cambio le deberían regresar?



- 2) Leonardo compró \$3.70 en comestibles. Le dio al cajero el dinero mostrado. ¿Cuánto cambio le deberían regresar?



- 3) Zacarias gastó \$8.33 comprando algunos juguetes nuevos. Los compró usando el dinero que se muestra. ¿Cuánto cambio le deberían regresar?



- 4) En la feria del libro, Gustavo gastó \$14.05 comprando libros. Le dio al cajero el dinero mostrado. ¿Cuánto cambio le deberían regresar?



- 5) Elena compró un nuevo juego de mesa por \$14.67. Ella le dio al cajero el dinero que se muestra. ¿Cuánto cambio le deberían regresar?



- 6) Natalia gastó \$9.48 en una entrada al cine. Ella le dio al cajero el dinero que se muestra. ¿Cuánto cambio le deberían regresar?



Respuestas

1. **\$4.09**

2. **\$16.30**

3. **\$0.10**

4. **\$5.95**

5. **\$0.04**

6. **\$1.02**