



Determine el nombre de cada moneda que se muestra.



Respuestas

1. _____

2. _____

3. _____

4. _____

5. _____

6. _____

7. _____

8. _____



Determine el nombre de cada moneda que se muestra.



Respuestas

1. centavo

2. diez centavos

3. níquel

4. cuarto de dólar

5. diez centavos

6. centavo

7. níquel

8. cuarto de dólar



Determine el nombre de cada moneda que se muestra.



Respuestas

1. _____

2. _____

3. _____

4. _____

5. _____

6. _____

7. _____

8. _____



Determine el nombre de cada moneda que se muestra.



Respuestas

1. centavo

2. diez centavos

3. níquel

4. cuarto de dólar

5. níquel

6. cuarto de dólar

7. diez centavos

8. centavo



Determine el nombre de cada moneda que se muestra.



Respuestas

1. _____

2. _____

3. _____

4. _____

5. _____

6. _____

7. _____

8. _____



Determine el nombre de cada moneda que se muestra.



Respuestas

1. cuarto de dólar

2. centavo

3. centavo

4. níquel

5. diez centavos

6. diez centavos

7. cuarto de dólar

8. níquel



Determine el nombre de cada moneda que se muestra.



Respuestas

1. _____

2. _____

3. _____

4. _____

5. _____

6. _____

7. _____

8. _____



Determine el nombre de cada moneda que se muestra.



Respuestas

1. diez centavos

2. cuarto de dólar

3. centavo

4. diez centavos

5. centavo

6. níquel

7. cuarto de dólar

8. níquel



Determine el nombre de cada moneda que se muestra.

Respuestas

1)



1. _____

2)



2. _____

3)



3. _____

4)



4. _____

5)



5. _____

6)



6. _____

7)



7. _____


8)



8. _____



Determine el nombre de cada moneda que se muestra.



Respuestas

1. níquel

2. níquel

3. centavo

4. cuarto de dólar

5. cuarto de dólar

6. diez centavos

7. centavo

8. diez centavos



Determine el nombre de cada moneda que se muestra.



Respuestas

1. _____

2. _____

3. _____

4. _____

5. _____

6. _____

7. _____

8. _____



Determine el nombre de cada moneda que se muestra.



Respuestas

1. centavo

2. cuarto de dólar

3. centavo

4. cuarto de dólar

5. níquel

6. níquel

7. diez centavos

8. diez centavos



Determine el nombre de cada moneda que se muestra.



Respuestas

1. _____

2. _____

3. _____

4. _____

5. _____


6. _____

7. _____

8. _____



Determine el nombre de cada moneda que se muestra.



Respuestas

1. centavo

2. cuarto de dólar

3. cuarto de dólar

4. diez centavos

5. níquel

6. diez centavos

7. centavo

8. níquel



Determine el nombre de cada moneda que se muestra.

Respuestas



1. _____




2. _____



3. _____



4. _____



5. _____



6. _____



7. _____



8. _____



Determine el nombre de cada moneda que se muestra.



Respuestas

1. diez centavos

2. centavo

3. centavo

4. diez centavos

5. níquel


6. cuarto de dólar

7. cuarto de dólar

8. níquel



Determine el nombre de cada moneda que se muestra.



Respuestas

1. _____

2. _____

3. _____

4. _____

5. _____

6. _____

7. _____

8. _____



Determine el nombre de cada moneda que se muestra.



Respuestas

1. níquel

2. cuarto de dólar

3. diez centavos

4. diez centavos

5. níquel


6. cuarto de dólar

7. centavo

8. centavo



Determine el nombre de cada moneda que se muestra.



Respuestas

1. _____

2. _____

3. _____

4. _____

5. _____

6. _____

7. _____

8. _____



Determine el nombre de cada moneda que se muestra.



Respuestas

1. centavo

2. níquel

3. cuarto de dólar

4. cuarto de dólar

5. diez centavos

6. centavo

7. diez centavos

8. níquel