



Determine qué opción describe mejor las monedas en el orden que se muestra.

Respuestas

1)



- A. níquel, diez centavos, cuarto de dólar, centavo
- B. centavo, diez centavos, cuarto de dólar, níquel
- C. níquel, cuarto de dólar, centavo, diez centavos
- D. níquel, cuarto de dólar, diez centavos, centavo

1. _____

2)




- A. cuarto de dólar, níquel, centavo, diez centavos
- B. diez centavos, níquel, cuarto de dólar, centavo
- C. centavo, níquel, cuarto de dólar, diez centavos
- D. níquel, centavo, cuarto de dólar, diez centavos

2. _____

3. _____

4. _____

3)



- A. centavo, diez centavos, níquel, cuarto de dólar
- B. cuarto de dólar, diez centavos, níquel, centavo
- C. cuarto de dólar, centavo, níquel, diez centavos
- D. centavo, cuarto de dólar, níquel, diez centavos

5. _____

6. _____

7. _____


8. _____

4)




- A. cuarto de dólar, centavo, diez centavos, níquel
- B. centavo, níquel, cuarto de dólar, diez centavos
- C. cuarto de dólar, centavo, níquel, diez centavos
- D. níquel, centavo, diez centavos, cuarto de dólar

5)



- A. centavo, diez centavos, níquel, cuarto de dólar
- B. diez centavos, cuarto de dólar, níquel, centavo
- C. cuarto de dólar, diez centavos, centavo, níquel
- D. centavo, cuarto de dólar, diez centavos, níquel

6)



- A. diez centavos, centavo, cuarto de dólar, níquel
- B. diez centavos, cuarto de dólar, níquel, centavo
- C. centavo, níquel, cuarto de dólar, diez centavos




Determine qué opción describe mejor las monedas en el orden que se muestra.

1)




- A. níquel, diez centavos, cuarto de dólar, centavo
- B. centavo, diez centavos, cuarto de dólar, níquel
- C. níquel, cuarto de dólar, centavo, diez centavos
- D. níquel, cuarto de dólar, diez centavos, centavo

2)



- A. cuarto de dólar, níquel, centavo, diez centavos
- B. diez centavos, níquel, cuarto de dólar, centavo
- C. centavo, níquel, cuarto de dólar, diez centavos
- D. níquel, centavo, cuarto de dólar, diez centavos

3)



- A. centavo, diez centavos, níquel, cuarto de dólar
- B. cuarto de dólar, diez centavos, níquel, centavo
- C. cuarto de dólar, centavo, níquel, diez centavos
- D. centavo, cuarto de dólar, níquel, diez centavos

4)




- A. cuarto de dólar, centavo, diez centavos, níquel
- B. centavo, níquel, cuarto de dólar, diez centavos
- C. cuarto de dólar, centavo, níquel, diez centavos
- D. níquel, centavo, diez centavos, cuarto de dólar

5)



- A. centavo, diez centavos, níquel, cuarto de dólar
- B. diez centavos, cuarto de dólar, níquel, centavo
- C. cuarto de dólar, diez centavos, centavo, níquel
- D. centavo, cuarto de dólar, diez centavos, níquel

6)



- A. diez centavos, centavo, cuarto de dólar, níquel
- B. diez centavos, cuarto de dólar, níquel, centavo
- C. centavo, níquel, cuarto de dólar, diez centavos

Respuestas

- 1. **C**
- 2. **D**
- 3. **C**
- 4. **B**
- 5. **C**
- 6. **D**
- 7. **B**
- 8. **A**



Determine qué opción describe mejor las monedas en el orden que se muestra.

Respuestas

1)



- A. centavo, cuarto de dólar, níquel, diez centavos
- B. cuarto de dólar, níquel, diez centavos, centavo
- C. diez centavos, níquel, centavo, cuarto de dólar
- D. centavo, níquel, cuarto de dólar, diez centavos

1. _____

2)



- A. níquel, centavo, cuarto de dólar, diez centavos
- B. níquel, cuarto de dólar, diez centavos, centavo
- C. diez centavos, níquel, cuarto de dólar, centavo
- D. diez centavos, cuarto de dólar, níquel, centavo

2. _____

3. _____

4. _____

5. _____

6. _____

7. _____

8. _____

3)



- A. níquel, cuarto de dólar, centavo, diez centavos
- B. níquel, diez centavos, centavo, cuarto de dólar
- C. centavo, cuarto de dólar, diez centavos, níquel
- D. diez centavos, níquel, centavo, cuarto de dólar

4)



- A. diez centavos, níquel, cuarto de dólar, centavo
- B. centavo, cuarto de dólar, diez centavos, níquel
- C. níquel, cuarto de dólar, diez centavos, centavo
- D. cuarto de dólar, níquel, centavo, diez centavos

5)



- A. cuarto de dólar, centavo, diez centavos, níquel
- B. centavo, cuarto de dólar, diez centavos, níquel
- C. níquel, cuarto de dólar, diez centavos, centavo
- D. centavo, diez centavos, cuarto de dólar, níquel

6)



- A. cuarto de dólar, diez centavos, centavo, níquel
- B. diez centavos, níquel, cuarto de dólar, centavo
- C. diez centavos, cuarto de dólar, níquel, centavo



Determine qué opción describe mejor las monedas en el orden que se muestra.

1)



- A. centavo, cuarto de dólar, níquel, diez centavos
- B. cuarto de dólar, níquel, diez centavos, centavo
- C. diez centavos, níquel, centavo, cuarto de dólar
- D. centavo, níquel, cuarto de dólar, diez centavos

2)



- A. níquel, centavo, cuarto de dólar, diez centavos
- B. níquel, cuarto de dólar, diez centavos, centavo
- C. diez centavos, níquel, cuarto de dólar, centavo
- D. diez centavos, cuarto de dólar, níquel, centavo

3)



- A. níquel, cuarto de dólar, centavo, diez centavos
- B. níquel, diez centavos, centavo, cuarto de dólar
- C. centavo, cuarto de dólar, diez centavos, níquel
- D. diez centavos, níquel, centavo, cuarto de dólar

4)



- A. diez centavos, níquel, cuarto de dólar, centavo
- B. centavo, cuarto de dólar, diez centavos, níquel
- C. níquel, cuarto de dólar, diez centavos, centavo
- D. cuarto de dólar, níquel, centavo, diez centavos

5)



- A. cuarto de dólar, centavo, diez centavos, níquel
- B. centavo, cuarto de dólar, diez centavos, níquel
- C. níquel, cuarto de dólar, diez centavos, centavo
- D. centavo, diez centavos, cuarto de dólar, níquel

6)



- A. cuarto de dólar, diez centavos, centavo, níquel
- B. diez centavos, níquel, cuarto de dólar, centavo
- C. diez centavos, cuarto de dólar, níquel, centavo

Respuestas

- 1. **D**
- 2. **A**
- 3. **D**
- 4. **B**
- 5. **D**
- 6. **A**
- 7. **D**
- 8. **B**



Determine qué opción describe mejor las monedas en el orden que se muestra.

Respuestas

1)



- A. diez centavos, níquel, centavo, cuarto de dólar
- B. centavo, cuarto de dólar, níquel, diez centavos
- C. diez centavos, centavo, cuarto de dólar, níquel
- D. cuarto de dólar, níquel, centavo, diez centavos

2)



- A. cuarto de dólar, diez centavos, centavo, níquel
- B. níquel, diez centavos, centavo, cuarto de dólar
- C. centavo, níquel, cuarto de dólar, diez centavos
- D. níquel, cuarto de dólar, diez centavos, centavo

3)



- A. centavo, cuarto de dólar, diez centavos, níquel
- B. diez centavos, níquel, centavo, cuarto de dólar
- C. níquel, centavo, diez centavos, cuarto de dólar
- D. diez centavos, cuarto de dólar, níquel, centavo

4)



- A. centavo, diez centavos, níquel, cuarto de dólar
- B. cuarto de dólar, diez centavos, níquel, centavo
- C. diez centavos, níquel, cuarto de dólar, centavo
- D. diez centavos, centavo, cuarto de dólar, níquel

5)



- A. centavo, diez centavos, cuarto de dólar, níquel
- B. níquel, diez centavos, centavo, cuarto de dólar
- C. centavo, níquel, diez centavos, cuarto de dólar
- D. níquel, cuarto de dólar, diez centavos, centavo

6)



- A. cuarto de dólar, níquel, diez centavos, centavo
- B. diez centavos, cuarto de dólar, centavo, níquel
- C. diez centavos, níquel, centavo, cuarto de dólar

1. _____

2. _____

3. _____

4. _____

5. _____

6. _____

7. _____

8. _____



Determine qué opción describe mejor las monedas en el orden que se muestra.

Respuestas

1)



- A. diez centavos, níquel, centavo, cuarto de dólar
- B. centavo, cuarto de dólar, níquel, diez centavos
- C. diez centavos, centavo, cuarto de dólar, níquel
- D. cuarto de dólar, níquel, centavo, diez centavos

1. **B**

2)



- A. cuarto de dólar, diez centavos, centavo, níquel
- B. níquel, diez centavos, centavo, cuarto de dólar
- C. centavo, níquel, cuarto de dólar, diez centavos
- D. níquel, cuarto de dólar, diez centavos, centavo

2. **A**

3. **C**

4. **D**

5. **D**

3)



- A. centavo, cuarto de dólar, diez centavos, níquel
- B. diez centavos, níquel, centavo, cuarto de dólar
- C. níquel, centavo, diez centavos, cuarto de dólar
- D. diez centavos, cuarto de dólar, níquel, centavo

6. **C**

7. **B**

8. **A**

4)



- A. centavo, diez centavos, níquel, cuarto de dólar
- B. cuarto de dólar, diez centavos, níquel, centavo
- C. diez centavos, níquel, cuarto de dólar, centavo
- D. diez centavos, centavo, cuarto de dólar, níquel

5)



- A. centavo, diez centavos, cuarto de dólar, níquel
- B. níquel, diez centavos, centavo, cuarto de dólar
- C. centavo, níquel, diez centavos, cuarto de dólar
- D. níquel, cuarto de dólar, diez centavos, centavo

6)



- A. cuarto de dólar, níquel, diez centavos, centavo
- B. diez centavos, cuarto de dólar, centavo, níquel
- C. diez centavos, níquel, centavo, cuarto de dólar



Determine qué opción describe mejor las monedas en el orden que se muestra.

Respuestas

1)



- A. diez centavos, níquel, cuarto de dólar, centavo
- B. níquel, cuarto de dólar, centavo, diez centavos
- C. cuarto de dólar, níquel, centavo, diez centavos
- D. centavo, níquel, diez centavos, cuarto de dólar

1. _____

2)



- A. níquel, cuarto de dólar, diez centavos, centavo
- B. diez centavos, níquel, centavo, cuarto de dólar
- C. centavo, níquel, cuarto de dólar, diez centavos
- D. centavo, cuarto de dólar, diez centavos, níquel

2. _____

3. _____

4. _____

5. _____

6. _____

7. _____

3)



- A. diez centavos, níquel, centavo, cuarto de dólar
- B. cuarto de dólar, centavo, diez centavos, níquel
- C. cuarto de dólar, níquel, centavo, diez centavos
- D. diez centavos, centavo, cuarto de dólar, níquel

8. _____

4)



- A. diez centavos, níquel, cuarto de dólar, centavo
- B. diez centavos, centavo, cuarto de dólar, níquel
- C. centavo, diez centavos, cuarto de dólar, níquel
- D. centavo, cuarto de dólar, níquel, diez centavos

5)



- A. centavo, cuarto de dólar, diez centavos, níquel
- B. centavo, níquel, cuarto de dólar, diez centavos
- C. diez centavos, cuarto de dólar, centavo, níquel
- D. cuarto de dólar, centavo, níquel, diez centavos

6)



- A. níquel, centavo, cuarto de dólar, diez centavos
- B. centavo, cuarto de dólar, diez centavos, níquel
- C. diez centavos, níquel, cuarto de dólar, centavo



Determine qué opción describe mejor las monedas en el orden que se muestra.

1)



- A. diez centavos, níquel, cuarto de dólar, centavo
- B. níquel, cuarto de dólar, centavo, diez centavos
- C. cuarto de dólar, níquel, centavo, diez centavos
- D. centavo, níquel, diez centavos, cuarto de dólar

2)



- A. níquel, cuarto de dólar, diez centavos, centavo
- B. diez centavos, níquel, centavo, cuarto de dólar
- C. centavo, níquel, cuarto de dólar, diez centavos
- D. centavo, cuarto de dólar, diez centavos, níquel

3)



- A. diez centavos, níquel, centavo, cuarto de dólar
- B. cuarto de dólar, centavo, diez centavos, níquel
- C. cuarto de dólar, níquel, centavo, diez centavos
- D. diez centavos, centavo, cuarto de dólar, níquel

4)



- A. diez centavos, níquel, cuarto de dólar, centavo
- B. diez centavos, centavo, cuarto de dólar, níquel
- C. centavo, diez centavos, cuarto de dólar, níquel
- D. centavo, cuarto de dólar, níquel, diez centavos

5)



- A. centavo, cuarto de dólar, diez centavos, níquel
- B. centavo, níquel, cuarto de dólar, diez centavos
- C. diez centavos, cuarto de dólar, centavo, níquel
- D. cuarto de dólar, centavo, níquel, diez centavos

6)



- A. níquel, centavo, cuarto de dólar, diez centavos
- B. centavo, cuarto de dólar, diez centavos, níquel
- C. diez centavos, níquel, cuarto de dólar, centavo

Respuestas

- 1. **C**
- 2. **B**
- 3. **D**
- 4. **B**
- 5. **A**
- 6. **D**
- 7. **C**
- 8. **A**



Determine qué opción describe mejor las monedas en el orden que se muestra.

Respuestas

1)



- A. centavo, diez centavos, cuarto de dólar, níquel
- B. diez centavos, níquel, cuarto de dólar, centavo
- C. diez centavos, cuarto de dólar, níquel, centavo
- D. centavo, cuarto de dólar, níquel, diez centavos

1. _____

2)



- A. centavo, níquel, cuarto de dólar, diez centavos
- B. níquel, diez centavos, centavo, cuarto de dólar
- C. cuarto de dólar, centavo, níquel, diez centavos
- D. centavo, níquel, diez centavos, cuarto de dólar

2. _____

3. _____

4. _____

3)



- A. centavo, níquel, diez centavos, cuarto de dólar
- B. diez centavos, níquel, cuarto de dólar, centavo
- C. cuarto de dólar, centavo, diez centavos, níquel
- D. cuarto de dólar, centavo, níquel, diez centavos

5. _____

6. _____

7. _____

8. _____

4)



- A. níquel, cuarto de dólar, diez centavos, centavo
- B. níquel, centavo, cuarto de dólar, diez centavos
- C. diez centavos, centavo, níquel, cuarto de dólar
- D. cuarto de dólar, níquel, diez centavos, centavo

5)



- A. cuarto de dólar, centavo, níquel, diez centavos
- B. níquel, centavo, diez centavos, cuarto de dólar
- C. diez centavos, cuarto de dólar, centavo, níquel
- D. centavo, cuarto de dólar, diez centavos, níquel

6)



- A. cuarto de dólar, diez centavos, níquel, centavo
- B. níquel, centavo, cuarto de dólar, diez centavos
- C. níquel, diez centavos, cuarto de dólar, centavo



Determine qué opción describe mejor las monedas en el orden que se muestra.

1)



- A. centavo, diez centavos, cuarto de dólar, níquel
- B. diez centavos, níquel, cuarto de dólar, centavo
- C. diez centavos, cuarto de dólar, níquel, centavo
- D. centavo, cuarto de dólar, níquel, diez centavos

2)



- A. centavo, níquel, cuarto de dólar, diez centavos
- B. níquel, diez centavos, centavo, cuarto de dólar
- C. cuarto de dólar, centavo, níquel, diez centavos
- D. centavo, níquel, diez centavos, cuarto de dólar

3)



- A. centavo, níquel, diez centavos, cuarto de dólar
- B. diez centavos, níquel, cuarto de dólar, centavo
- C. cuarto de dólar, centavo, diez centavos, níquel
- D. cuarto de dólar, centavo, níquel, diez centavos

4)



- A. níquel, cuarto de dólar, diez centavos, centavo
- B. níquel, centavo, cuarto de dólar, diez centavos
- C. diez centavos, centavo, níquel, cuarto de dólar
- D. cuarto de dólar, níquel, diez centavos, centavo

5)



- A. cuarto de dólar, centavo, níquel, diez centavos
- B. níquel, centavo, diez centavos, cuarto de dólar
- C. diez centavos, cuarto de dólar, centavo, níquel
- D. centavo, cuarto de dólar, diez centavos, níquel

6)



- A. cuarto de dólar, diez centavos, níquel, centavo
- B. níquel, centavo, cuarto de dólar, diez centavos
- C. níquel, diez centavos, cuarto de dólar, centavo

Respuestas

- 1. **C**
- 2. **C**
- 3. **A**
- 4. **B**
- 5. **B**
- 6. **C**
- 7. **C**
- 8. **A**



Determine qué opción describe mejor las monedas en el orden que se muestra.

Respuestas

1)



- A. níquel, centavo, cuarto de dólar, diez centavos
- B. cuarto de dólar, diez centavos, níquel, centavo
- C. centavo, cuarto de dólar, diez centavos, níquel
- D. centavo, níquel, diez centavos, cuarto de dólar

1. _____

2)



- A. níquel, cuarto de dólar, centavo, diez centavos
- B. diez centavos, cuarto de dólar, níquel, centavo
- C. cuarto de dólar, centavo, diez centavos, níquel
- D. centavo, diez centavos, cuarto de dólar, níquel

2. _____

3. _____

3)



- A. cuarto de dólar, níquel, centavo, diez centavos
- B. centavo, níquel, cuarto de dólar, diez centavos
- C. cuarto de dólar, diez centavos, centavo, níquel
- D. cuarto de dólar, centavo, níquel, diez centavos

4. _____

5. _____

6. _____

7. _____

8. _____

4)



- A. centavo, níquel, cuarto de dólar, diez centavos
- B. diez centavos, níquel, centavo, cuarto de dólar
- C. níquel, centavo, diez centavos, cuarto de dólar
- D. centavo, cuarto de dólar, diez centavos, níquel

5)



- A. diez centavos, níquel, centavo, cuarto de dólar
- B. centavo, níquel, diez centavos, cuarto de dólar
- C. níquel, diez centavos, centavo, cuarto de dólar
- D. cuarto de dólar, centavo, diez centavos, níquel

6)



- A. centavo, cuarto de dólar, níquel, diez centavos
- B. níquel, cuarto de dólar, diez centavos, centavo
- C. centavo, diez centavos, cuarto de dólar, níquel



Determine qué opción describe mejor las monedas en el orden que se muestra.

1)



- A. níquel, centavo, cuarto de dólar, diez centavos
- B. cuarto de dólar, diez centavos, níquel, centavo
- C. centavo, cuarto de dólar, diez centavos, níquel
- D. centavo, níquel, diez centavos, cuarto de dólar

2)



- A. níquel, cuarto de dólar, centavo, diez centavos
- B. diez centavos, cuarto de dólar, níquel, centavo
- C. cuarto de dólar, centavo, diez centavos, níquel
- D. centavo, diez centavos, cuarto de dólar, níquel

3)



- A. cuarto de dólar, níquel, centavo, diez centavos
- B. centavo, níquel, cuarto de dólar, diez centavos
- C. cuarto de dólar, diez centavos, centavo, níquel
- D. cuarto de dólar, centavo, níquel, diez centavos

4)



- A. centavo, níquel, cuarto de dólar, diez centavos
- B. diez centavos, níquel, centavo, cuarto de dólar
- C. níquel, centavo, diez centavos, cuarto de dólar
- D. centavo, cuarto de dólar, diez centavos, níquel

5)



- A. diez centavos, níquel, centavo, cuarto de dólar
- B. centavo, níquel, diez centavos, cuarto de dólar
- C. níquel, diez centavos, centavo, cuarto de dólar
- D. cuarto de dólar, centavo, diez centavos, níquel

6)



- A. centavo, cuarto de dólar, níquel, diez centavos
- B. níquel, cuarto de dólar, diez centavos, centavo
- C. centavo, diez centavos, cuarto de dólar, níquel

Respuestas

- 1. **D**
- 2. **B**
- 3. **B**
- 4. **A**
- 5. **A**
- 6. **C**
- 7. **B**
- 8. **D**



Determine qué opción describe mejor las monedas en el orden que se muestra.

Respuestas

1)



- A. cuarto de dólar, níquel, centavo, diez centavos
- B. níquel, cuarto de dólar, centavo, diez centavos
- C. cuarto de dólar, centavo, diez centavos, níquel
- D. diez centavos, cuarto de dólar, centavo, níquel

1. _____

2. _____

3. _____

2)



- A. níquel, diez centavos, centavo, cuarto de dólar
- B. níquel, cuarto de dólar, diez centavos, centavo
- C. centavo, cuarto de dólar, diez centavos, níquel
- D. cuarto de dólar, diez centavos, níquel, centavo

4. _____

5. _____

6. _____

3)



- A. diez centavos, níquel, cuarto de dólar, centavo
- B. centavo, diez centavos, cuarto de dólar, níquel
- C. centavo, diez centavos, níquel, cuarto de dólar
- D. níquel, diez centavos, centavo, cuarto de dólar

7. _____

8. _____

4)



- A. cuarto de dólar, diez centavos, centavo, níquel
- B. níquel, diez centavos, cuarto de dólar, centavo
- C. diez centavos, cuarto de dólar, níquel, centavo
- D. níquel, cuarto de dólar, diez centavos, centavo

5)



- A. níquel, diez centavos, centavo, cuarto de dólar
- B. centavo, níquel, cuarto de dólar, diez centavos
- C. diez centavos, cuarto de dólar, níquel, centavo
- D. centavo, cuarto de dólar, níquel, diez centavos

6)



- A. diez centavos, centavo, cuarto de dólar, níquel
- B. cuarto de dólar, diez centavos, centavo, níquel
- C. níquel, cuarto de dólar, diez centavos, centavo



Determine qué opción describe mejor las monedas en el orden que se muestra.

1)



- A. cuarto de dólar, níquel, centavo, diez centavos
- B. níquel, cuarto de dólar, centavo, diez centavos
- C. cuarto de dólar, centavo, diez centavos, níquel
- D. diez centavos, cuarto de dólar, centavo, níquel

2)



- A. níquel, diez centavos, centavo, cuarto de dólar
- B. níquel, cuarto de dólar, diez centavos, centavo
- C. centavo, cuarto de dólar, diez centavos, níquel
- D. cuarto de dólar, diez centavos, níquel, centavo

3)



- A. diez centavos, níquel, cuarto de dólar, centavo
- B. centavo, diez centavos, cuarto de dólar, níquel
- C. centavo, diez centavos, níquel, cuarto de dólar
- D. níquel, diez centavos, centavo, cuarto de dólar

4)



- A. cuarto de dólar, diez centavos, centavo, níquel
- B. níquel, diez centavos, cuarto de dólar, centavo
- C. diez centavos, cuarto de dólar, níquel, centavo
- D. níquel, cuarto de dólar, diez centavos, centavo

5)



- A. níquel, diez centavos, centavo, cuarto de dólar
- B. centavo, níquel, cuarto de dólar, diez centavos
- C. diez centavos, cuarto de dólar, níquel, centavo
- D. centavo, cuarto de dólar, níquel, diez centavos

6)



- A. diez centavos, centavo, cuarto de dólar, níquel
- B. cuarto de dólar, diez centavos, centavo, níquel
- C. níquel, cuarto de dólar, diez centavos, centavo

Respuestas

- 1. **C**
- 2. **A**
- 3. **A**
- 4. **B**
- 5. **B**
- 6. **B**
- 7. **D**
- 8. **B**



Determine qué opción describe mejor las monedas en el orden que se muestra.

Respuestas

1)



- A. cuarto de dólar, centavo, níquel, diez centavos
- B. diez centavos, cuarto de dólar, níquel, centavo
- C. níquel, centavo, diez centavos, cuarto de dólar
- D. cuarto de dólar, níquel, centavo, diez centavos

1. _____

2)



- A. cuarto de dólar, diez centavos, níquel, centavo
- B. cuarto de dólar, níquel, diez centavos, centavo
- C. diez centavos, cuarto de dólar, centavo, níquel
- D. centavo, cuarto de dólar, níquel, diez centavos

2. _____

3. _____

4. _____

3)



- A. níquel, cuarto de dólar, centavo, diez centavos
- B. níquel, centavo, diez centavos, cuarto de dólar
- C. centavo, diez centavos, níquel, cuarto de dólar
- D. diez centavos, centavo, níquel, cuarto de dólar

5. _____

6. _____

7. _____

8. _____

4)



- A. diez centavos, cuarto de dólar, centavo, níquel
- B. níquel, diez centavos, cuarto de dólar, centavo
- C. centavo, níquel, cuarto de dólar, diez centavos
- D. centavo, diez centavos, cuarto de dólar, níquel

5)



- A. centavo, diez centavos, cuarto de dólar, níquel
- B. diez centavos, cuarto de dólar, níquel, centavo
- C. diez centavos, centavo, níquel, cuarto de dólar
- D. cuarto de dólar, centavo, diez centavos, níquel

6)



- A. centavo, cuarto de dólar, diez centavos, níquel
- B. cuarto de dólar, níquel, centavo, diez centavos
- C. níquel, cuarto de dólar, diez centavos, centavo



Determine qué opción describe mejor las monedas en el orden que se muestra.

1)



- A. cuarto de dólar, centavo, níquel, diez centavos
- B. diez centavos, cuarto de dólar, níquel, centavo
- C. níquel, centavo, diez centavos, cuarto de dólar
- D. cuarto de dólar, níquel, centavo, diez centavos

2)



- A. cuarto de dólar, diez centavos, níquel, centavo
- B. cuarto de dólar, níquel, diez centavos, centavo
- C. diez centavos, cuarto de dólar, centavo, níquel
- D. centavo, cuarto de dólar, níquel, diez centavos

3)



- A. níquel, cuarto de dólar, centavo, diez centavos
- B. níquel, centavo, diez centavos, cuarto de dólar
- C. centavo, diez centavos, níquel, cuarto de dólar
- D. diez centavos, centavo, níquel, cuarto de dólar

4)



- A. diez centavos, cuarto de dólar, centavo, níquel
- B. níquel, diez centavos, cuarto de dólar, centavo
- C. centavo, níquel, cuarto de dólar, diez centavos
- D. centavo, diez centavos, cuarto de dólar, níquel

5)



- A. centavo, diez centavos, cuarto de dólar, níquel
- B. diez centavos, cuarto de dólar, níquel, centavo
- C. diez centavos, centavo, níquel, cuarto de dólar
- D. cuarto de dólar, centavo, diez centavos, níquel

6)



- A. centavo, cuarto de dólar, diez centavos, níquel
- B. cuarto de dólar, níquel, centavo, diez centavos
- C. níquel, cuarto de dólar, diez centavos, centavo

Respuestas

- 1. **B**
- 2. **C**
- 3. **D**
- 4. **A**
- 5. **B**
- 6. **C**
- 7. **D**
- 8. **C**



Determine qué opción describe mejor las monedas en el orden que se muestra.

Respuestas

1)



- A. níquel, centavo, cuarto de dólar, diez centavos
- B. centavo, diez centavos, níquel, cuarto de dólar
- C. níquel, cuarto de dólar, centavo, diez centavos
- D. centavo, cuarto de dólar, diez centavos, níquel

1. _____

2)



- A. níquel, diez centavos, cuarto de dólar, centavo
- B. centavo, cuarto de dólar, níquel, diez centavos
- C. níquel, centavo, diez centavos, cuarto de dólar
- D. níquel, cuarto de dólar, diez centavos, centavo

2. _____

3. _____

4. _____

5. _____

3)



- A. níquel, centavo, cuarto de dólar, diez centavos
- B. cuarto de dólar, diez centavos, centavo, níquel
- C. diez centavos, cuarto de dólar, centavo, níquel
- D. centavo, níquel, cuarto de dólar, diez centavos

6. _____

7. _____

8. _____

4)



- A. cuarto de dólar, níquel, diez centavos, centavo
- B. cuarto de dólar, níquel, centavo, diez centavos
- C. cuarto de dólar, centavo, níquel, diez centavos
- D. diez centavos, níquel, cuarto de dólar, centavo

5)



- A. centavo, diez centavos, níquel, cuarto de dólar
- B. níquel, diez centavos, cuarto de dólar, centavo
- C. níquel, diez centavos, centavo, cuarto de dólar
- D. cuarto de dólar, níquel, diez centavos, centavo

6)



- A. cuarto de dólar, centavo, níquel, diez centavos
- B. níquel, centavo, cuarto de dólar, diez centavos
- C. diez centavos, centavo, cuarto de dólar, níquel



Determine qué opción describe mejor las monedas en el orden que se muestra.

1)



- A. níquel, centavo, cuarto de dólar, diez centavos
- B. centavo, diez centavos, níquel, cuarto de dólar
- C. níquel, cuarto de dólar, centavo, diez centavos
- D. centavo, cuarto de dólar, diez centavos, níquel

2)



- A. níquel, diez centavos, cuarto de dólar, centavo
- B. centavo, cuarto de dólar, níquel, diez centavos
- C. níquel, centavo, diez centavos, cuarto de dólar
- D. níquel, cuarto de dólar, diez centavos, centavo

3)



- A. níquel, centavo, cuarto de dólar, diez centavos
- B. cuarto de dólar, diez centavos, centavo, níquel
- C. diez centavos, cuarto de dólar, centavo, níquel
- D. centavo, níquel, cuarto de dólar, diez centavos

4)



- A. cuarto de dólar, níquel, diez centavos, centavo
- B. cuarto de dólar, níquel, centavo, diez centavos
- C. cuarto de dólar, centavo, níquel, diez centavos
- D. diez centavos, níquel, cuarto de dólar, centavo

5)



- A. centavo, diez centavos, níquel, cuarto de dólar
- B. níquel, diez centavos, cuarto de dólar, centavo
- C. níquel, diez centavos, centavo, cuarto de dólar
- D. cuarto de dólar, níquel, diez centavos, centavo

6)



- A. cuarto de dólar, centavo, níquel, diez centavos
- B. níquel, centavo, cuarto de dólar, diez centavos
- C. diez centavos, centavo, cuarto de dólar, níquel

Respuestas

- 1. **A**
- 2. **C**
- 3. **C**
- 4. **A**
- 5. **A**
- 6. **A**
- 7. **A**
- 8. **D**



Determine qué opción describe mejor las monedas en el orden que se muestra.

Respuestas

1)



- A. centavo, diez centavos, níquel, cuarto de dólar
- B. cuarto de dólar, níquel, centavo, diez centavos
- C. centavo, cuarto de dólar, níquel, diez centavos
- D. níquel, centavo, diez centavos, cuarto de dólar

1. _____

2)



- A. níquel, centavo, cuarto de dólar, diez centavos
- B. centavo, cuarto de dólar, níquel, diez centavos
- C. centavo, níquel, cuarto de dólar, diez centavos
- D. diez centavos, centavo, cuarto de dólar, níquel

2. _____

3. _____

4. _____

5. _____

6. _____

7. _____

8. _____

3)




- A. diez centavos, cuarto de dólar, centavo, níquel
- B. níquel, centavo, diez centavos, cuarto de dólar
- C. centavo, diez centavos, cuarto de dólar, níquel
- D. cuarto de dólar, diez centavos, níquel, centavo

4)



- A. diez centavos, níquel, cuarto de dólar, centavo
- B. diez centavos, cuarto de dólar, centavo, níquel
- C. diez centavos, cuarto de dólar, níquel, centavo
- D. níquel, centavo, diez centavos, cuarto de dólar

5)



- A. cuarto de dólar, diez centavos, centavo, níquel
- B. cuarto de dólar, diez centavos, níquel, centavo
- C. níquel, diez centavos, cuarto de dólar, centavo
- D. centavo, níquel, diez centavos, cuarto de dólar

6)



- A. níquel, cuarto de dólar, diez centavos, centavo
- B. diez centavos, centavo, cuarto de dólar, níquel
- C. diez centavos, cuarto de dólar, níquel, centavo



Determine qué opción describe mejor las monedas en el orden que se muestra.

Respuestas

1)



- A. centavo, diez centavos, níquel, cuarto de dólar
- B. cuarto de dólar, níquel, centavo, diez centavos
- C. centavo, cuarto de dólar, níquel, diez centavos
- D. níquel, centavo, diez centavos, cuarto de dólar

1. **D**

2)



- A. níquel, centavo, cuarto de dólar, diez centavos
- B. centavo, cuarto de dólar, níquel, diez centavos
- C. centavo, níquel, cuarto de dólar, diez centavos
- D. diez centavos, centavo, cuarto de dólar, níquel

2. **A**

3. **C**

4. **B**

3)



- A. diez centavos, cuarto de dólar, centavo, níquel
- B. níquel, centavo, diez centavos, cuarto de dólar
- C. centavo, diez centavos, cuarto de dólar, níquel
- D. cuarto de dólar, diez centavos, níquel, centavo

5. **A**

6. **D**

7. **A**


8. **B**

4)



- A. diez centavos, níquel, cuarto de dólar, centavo
- B. diez centavos, cuarto de dólar, centavo, níquel
- C. diez centavos, cuarto de dólar, níquel, centavo
- D. níquel, centavo, diez centavos, cuarto de dólar

5)



- A. cuarto de dólar, diez centavos, centavo, níquel
- B. cuarto de dólar, diez centavos, níquel, centavo
- C. níquel, diez centavos, cuarto de dólar, centavo
- D. centavo, níquel, diez centavos, cuarto de dólar

6)



- A. níquel, cuarto de dólar, diez centavos, centavo
- B. diez centavos, centavo, cuarto de dólar, níquel
- C. diez centavos, cuarto de dólar, níquel, centavo