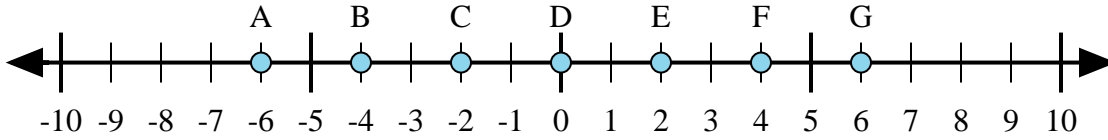


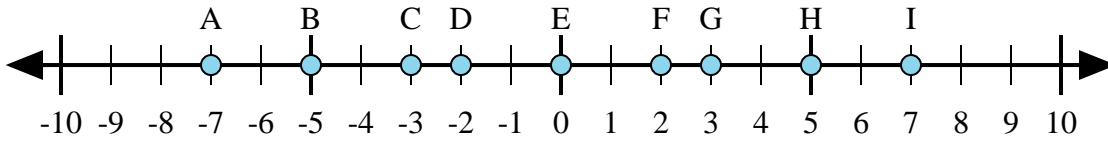


Determina qué letra de la recta numérica representa mejor la respuesta a cada problema.

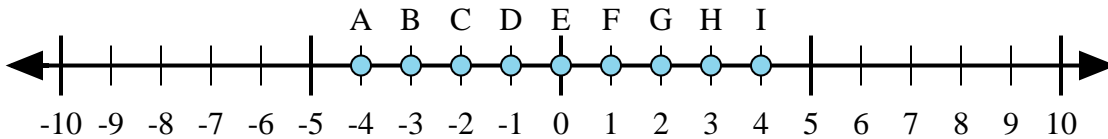
Respuestas



- 1) $4 + 2 =$
- 2) $(-2) + 4 =$
- 3) $4 + (-2) =$
- 4) $(-4) + 2 =$
- 5) $2 + (-4) =$



- 6) $(-5) + 2 =$
- 7) $(-2) + 5 =$
- 8) $(-5) + (-2) =$
- 9) $5 + (-2) =$
- 10) $5 + 2 =$



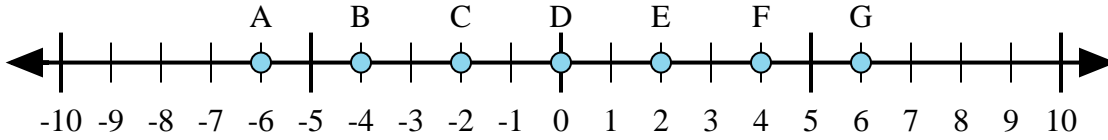
- 11) $3 + 1 =$
- 12) $(-3) + (-1) =$
- 13) $(-3) + 1 =$
- 14) $3 + (-1) =$
- 15) $(-1) + 3 =$

1. _____
2. _____
3. _____
4. _____
5. _____
6. _____
7. _____
8. _____
9. _____
10. _____
11. _____
12. _____
13. _____
14. _____
15. _____

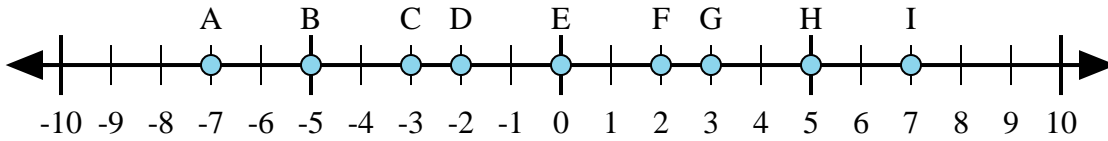


Determina qué letra de la recta numérica representa mejor la respuesta a cada problema.

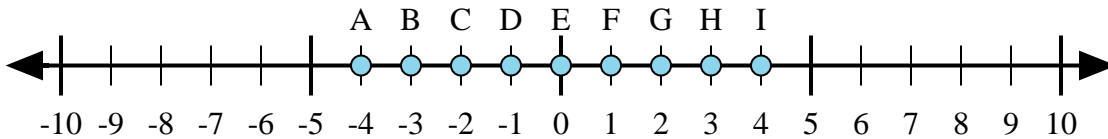
Respuestas



- 1) $4 + 2 =$
- 2) $(-2) + 4 =$
- 3) $4 + (-2) =$
- 4) $(-4) + 2 =$
- 5) $2 + (-4) =$



- 6) $(-5) + 2 =$
- 7) $(-2) + 5 =$
- 8) $(-5) + (-2) =$
- 9) $5 + (-2) =$
- 10) $5 + 2 =$



- 11) $3 + 1 =$
- 12) $(-3) + (-1) =$
- 13) $(-3) + 1 =$
- 14) $3 + (-1) =$
- 15) $(-1) + 3 =$

1. **G**
2. **E**
3. **E**
4. **C**
5. **C**
6. **C**
7. **G**
8. **A**
9. **G**
10. **I**
11. **I**
12. **A**
13. **C**
14. **G**
15. **G**