




Resuelve cada problema.


Respuestas

1) ¿Qué letra representa mejor -27




1. _____

2) ¿Qué letra representa mejor -16




2. _____

3) ¿Qué letra representa mejor -18




3. _____

4) ¿Qué letra representa mejor -15




4. _____

5) ¿Qué letra representa mejor -91




5. _____

6) ¿Qué letra representa mejor -75




6. _____

7) ¿Qué letra representa mejor -81



7. _____

8) ¿Qué letra representa mejor -10




8. _____

9) ¿Qué letra representa mejor -59



9. _____

10) ¿Qué letra representa mejor -87




10. _____



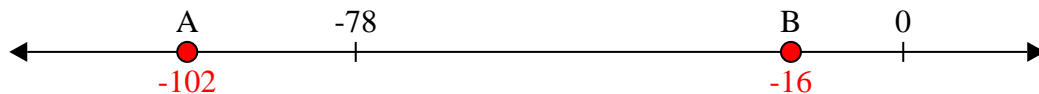
Resuelve cada problema.

Respuestas

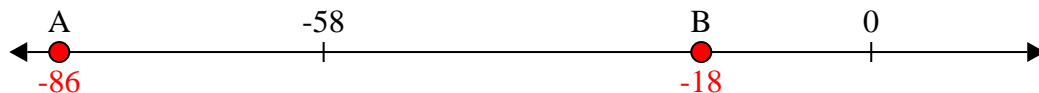
1) ¿Qué letra representa mejor -27

1. **B**

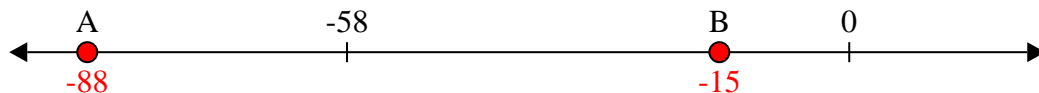
2) ¿Qué letra representa mejor -16

2. **B**


3) ¿Qué letra representa mejor -18

3. **B** 4. **B**

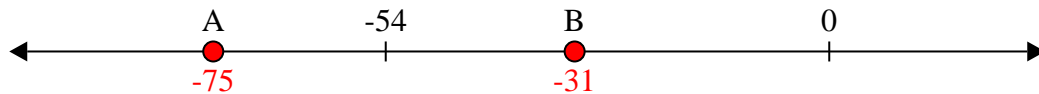
4) ¿Qué letra representa mejor -15

5. **A** 6. **A**


5) ¿Qué letra representa mejor -91

7. **A** 8. **B**


6) ¿Qué letra representa mejor -75

9. **B** 10. **A**

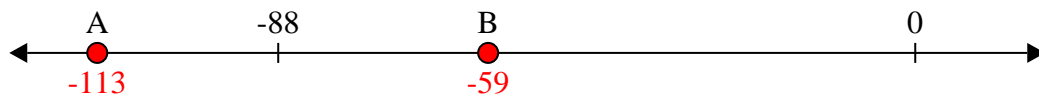
7) ¿Qué letra representa mejor -81



8) ¿Qué letra representa mejor -10



9) ¿Qué letra representa mejor -59



10) ¿Qué letra representa mejor -87

