




Resuelve cada problema.


Respuestas

1) ¿Qué letra representa mejor -101




1. _____

2) ¿Qué letra representa mejor -42




2. _____

3) ¿Qué letra representa mejor -76




3. _____

4) ¿Qué letra representa mejor -110




4. _____

5) ¿Qué letra representa mejor -106




5. _____

6) ¿Qué letra representa mejor -114




6. _____

7) ¿Qué letra representa mejor -21




7. _____

8) ¿Qué letra representa mejor -20




8. _____

9) ¿Qué letra representa mejor -79



9. _____

10) ¿Qué letra representa mejor -97



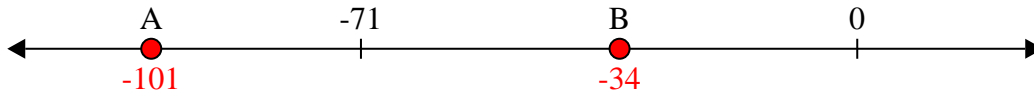
10. _____



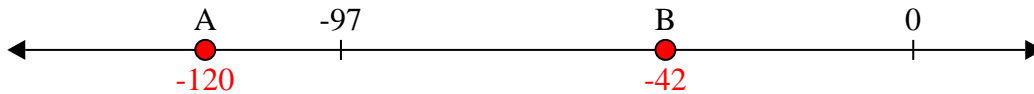
Resuelve cada problema.

Respuestas

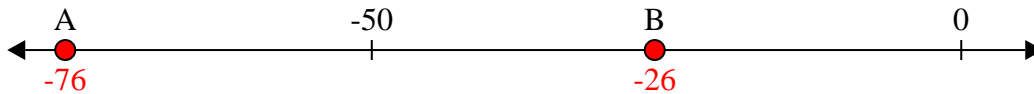
1) ¿Qué letra representa mejor -101

1. **A**

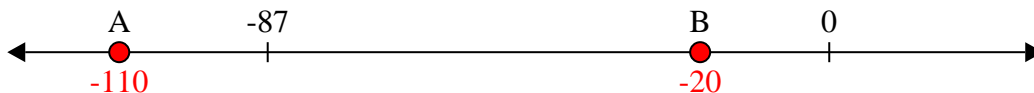
2) ¿Qué letra representa mejor -42

2. **B**


3) ¿Qué letra representa mejor -76

3. **A**


4) ¿Qué letra representa mejor -110

4. **A**


5) ¿Qué letra representa mejor -106

5. **A**


6) ¿Qué letra representa mejor -114

6. **A**


7) ¿Qué letra representa mejor -21

7. **B**


8) ¿Qué letra representa mejor -20

8. **B**

9) ¿Qué letra representa mejor -79

9. **A**

10) ¿Qué letra representa mejor -97

10. **A**