




Resuelve cada problema.


**Respuestas**

1) ¿Qué letra representa mejor -28



1. \_\_\_\_\_

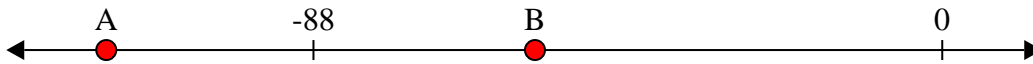
2) ¿Qué letra representa mejor -26



2. \_\_\_\_\_

3. \_\_\_\_\_

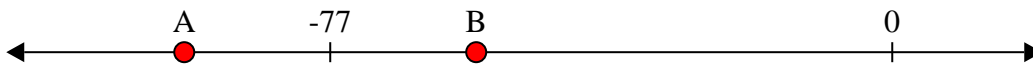
3) ¿Qué letra representa mejor -117



4. \_\_\_\_\_

5. \_\_\_\_\_

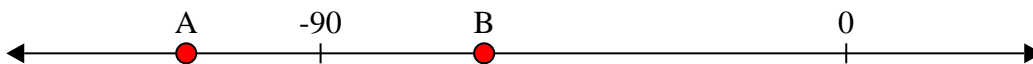
4) ¿Qué letra representa mejor -97



6. \_\_\_\_\_

7. \_\_\_\_\_

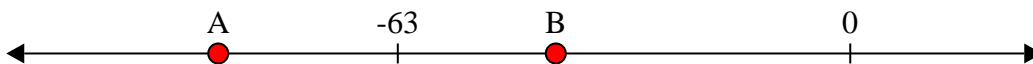
5) ¿Qué letra representa mejor -113



8. \_\_\_\_\_

9. \_\_\_\_\_

6) ¿Qué letra representa mejor -88



10. \_\_\_\_\_


7) ¿Qué letra representa mejor -22




8) ¿Qué letra representa mejor -25



9) ¿Qué letra representa mejor -82



10) ¿Qué letra representa mejor -120






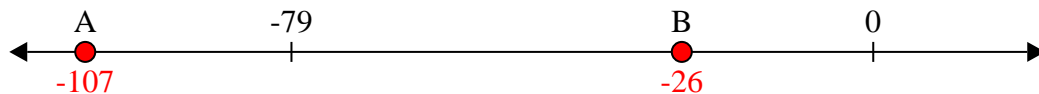
Resuelve cada problema.

**Respuestas**

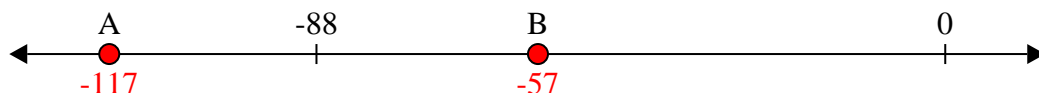
1) ¿Qué letra representa mejor -28

1.     **B**    

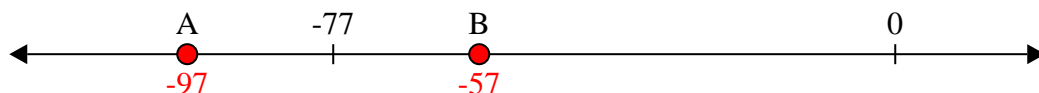
2) ¿Qué letra representa mejor -26

2.     **B**    

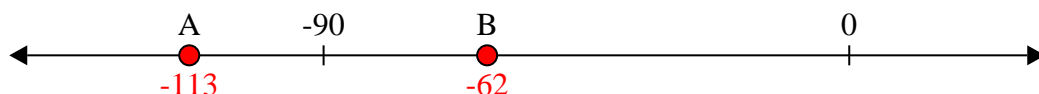
3) ¿Qué letra representa mejor -117

3.     **A**    

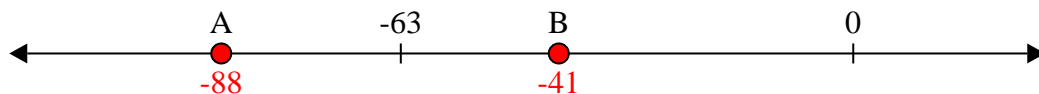
4) ¿Qué letra representa mejor -97

4.     **A**    


5) ¿Qué letra representa mejor -113

5.     **A**    


6) ¿Qué letra representa mejor -88

6.     **A**    


7) ¿Qué letra representa mejor -22

7.     **B**    


8) ¿Qué letra representa mejor -25

8.     **B**    

9) ¿Qué letra representa mejor -82

9.     **A**    

10) ¿Qué letra representa mejor -120

10.     **A**