




Resuelve cada problema.


Respuestas

1) ¿Qué letra representa mejor -37



1. _____

2) ¿Qué letra representa mejor -113




2. _____

3) ¿Qué letra representa mejor -97



3. _____

4) ¿Qué letra representa mejor -80



4. _____

5) ¿Qué letra representa mejor -40



5. _____

6) ¿Qué letra representa mejor -101




6. _____

7) ¿Qué letra representa mejor -22




7. _____

8) ¿Qué letra representa mejor -105




8. _____

9) ¿Qué letra representa mejor -115



9. _____

10) ¿Qué letra representa mejor -97



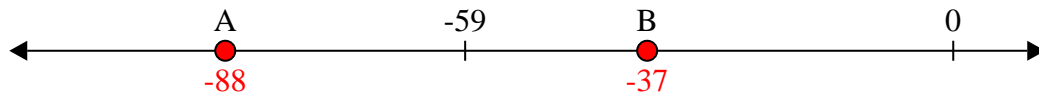
10. _____



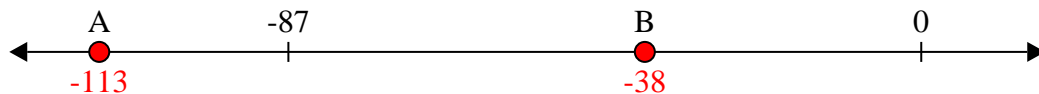
Resuelve cada problema.

Respuestas

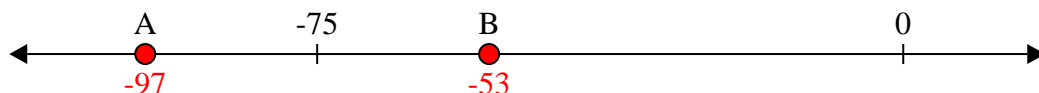
1) ¿Qué letra representa mejor -37

1. **B**


2) ¿Qué letra representa mejor -113

2. **A**


3) ¿Qué letra representa mejor -97

3. **A**


4) ¿Qué letra representa mejor -80

4. **A**

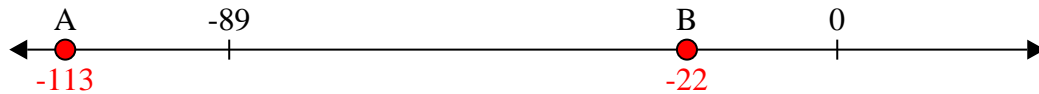
5) ¿Qué letra representa mejor -40

5. **B**

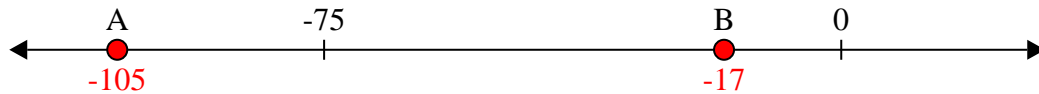
6) ¿Qué letra representa mejor -101

6. **A**

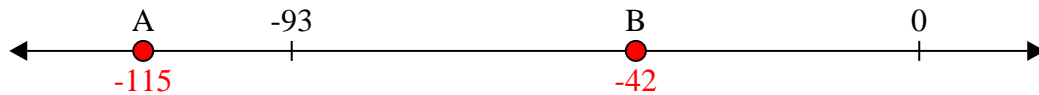
7) ¿Qué letra representa mejor -22

7. **B**

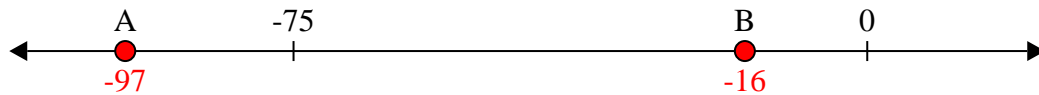
8) ¿Qué letra representa mejor -105

8. **A**

9) ¿Qué letra representa mejor -115

9. **A**

10) ¿Qué letra representa mejor -97

10. **A**