




Resuelve cada problema.

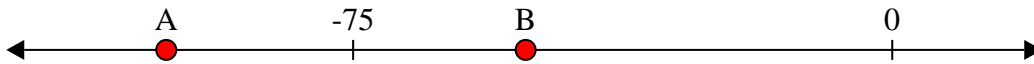
**Respuestas**

1) ¿Qué letra representa mejor -24




1. \_\_\_\_\_

2) ¿Qué letra representa mejor -101



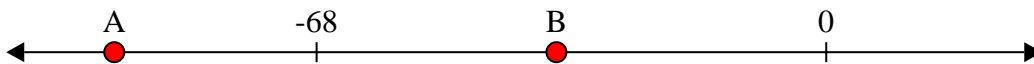
2. \_\_\_\_\_

3) ¿Qué letra representa mejor -83



3. \_\_\_\_\_

4) ¿Qué letra representa mejor -95



4. \_\_\_\_\_

5) ¿Qué letra representa mejor -86



5. \_\_\_\_\_

6) ¿Qué letra representa mejor -112




6. \_\_\_\_\_

7) ¿Qué letra representa mejor -79




7. \_\_\_\_\_

8) ¿Qué letra representa mejor -10



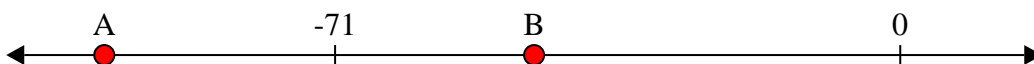
8. \_\_\_\_\_

9) ¿Qué letra representa mejor -27



9. \_\_\_\_\_

10) ¿Qué letra representa mejor -100



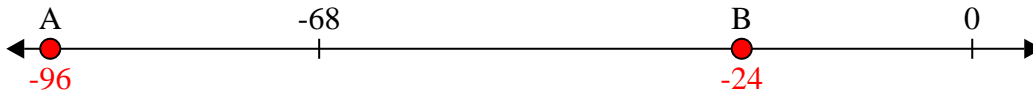
10. \_\_\_\_\_



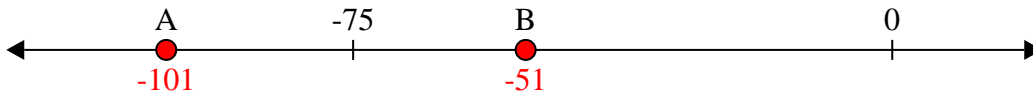
Resuelve cada problema.

**Respuestas**

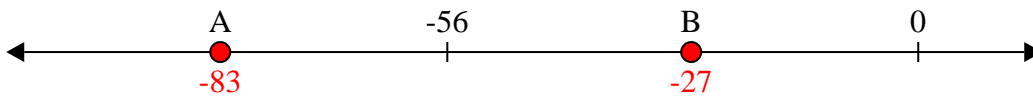
1) ¿Qué letra representa mejor -24

1.     **B**    

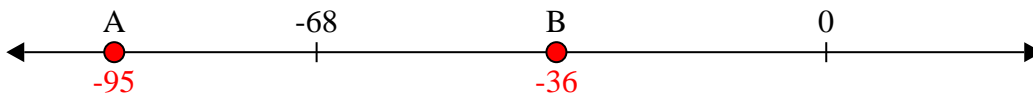
2) ¿Qué letra representa mejor -101

2.     **A**    


3) ¿Qué letra representa mejor -83

3.     **A**    


4) ¿Qué letra representa mejor -95

4.     **A**    

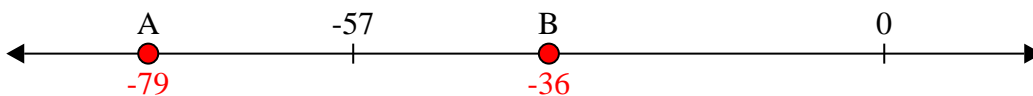
5) ¿Qué letra representa mejor -86

5.     **A**    


6) ¿Qué letra representa mejor -112

6.     **A**    

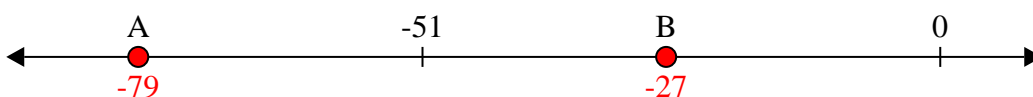
7) ¿Qué letra representa mejor -79

7.     **A**    

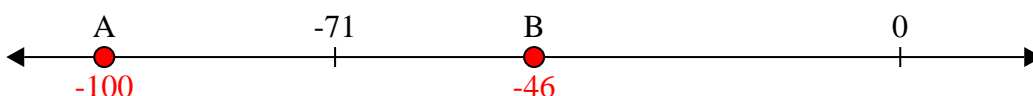
8) ¿Qué letra representa mejor -10

8.     **B**    

9) ¿Qué letra representa mejor -27

9.     **B**    

10) ¿Qué letra representa mejor -100

10.     **A**