



Resuelve cada problema.

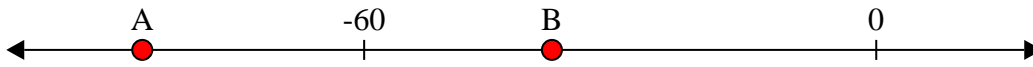
Respuestas

1) ¿Qué letra representa mejor -11




1. _____

2) ¿Qué letra representa mejor -38




2. _____

3) ¿Qué letra representa mejor -78




3. _____

4) ¿Qué letra representa mejor -28



4. _____

5) ¿Qué letra representa mejor -109




5. _____

6) ¿Qué letra representa mejor -68




6. _____

7) ¿Qué letra representa mejor -10



7. _____

8) ¿Qué letra representa mejor -20




8. _____

9) ¿Qué letra representa mejor -82



9. _____

10) ¿Qué letra representa mejor -79




10. _____



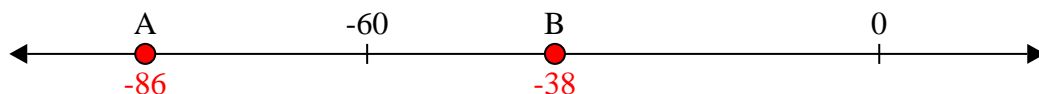
Resuelve cada problema.

Respuestas


1) ¿Qué letra representa mejor -11

1. **B**


2) ¿Qué letra representa mejor -38

2. **B**


3) ¿Qué letra representa mejor -78

3. **A**

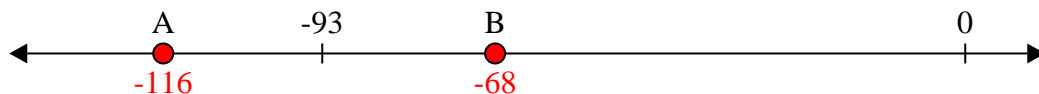
4) ¿Qué letra representa mejor -28

4. **B**


5) ¿Qué letra representa mejor -109

5. **A**


6) ¿Qué letra representa mejor -68

6. **B**

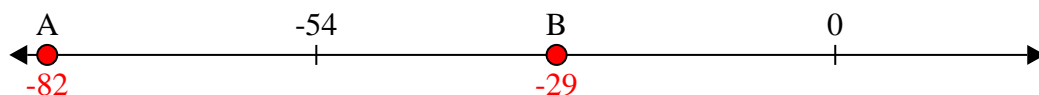
7) ¿Qué letra representa mejor -10

7. **B**


8) ¿Qué letra representa mejor -20

8. **B**

9) ¿Qué letra representa mejor -82

9. **A**

10) ¿Qué letra representa mejor -79

10. **A**