




Resuelve cada problema.


**Respuestas**

1) ¿Qué letra representa mejor -128




1. \_\_\_\_\_

2) ¿Qué letra representa mejor -114



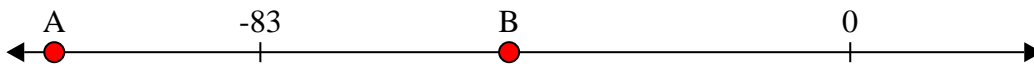
2. \_\_\_\_\_

3) ¿Qué letra representa mejor -76




3. \_\_\_\_\_

4) ¿Qué letra representa mejor -48




4. \_\_\_\_\_

5) ¿Qué letra representa mejor -47




5. \_\_\_\_\_

6) ¿Qué letra representa mejor -115



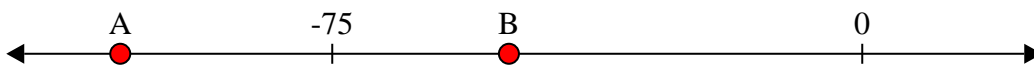
6. \_\_\_\_\_

7) ¿Qué letra representa mejor -115




7. \_\_\_\_\_

8) ¿Qué letra representa mejor -105




8. \_\_\_\_\_

9) ¿Qué letra representa mejor -10



9. \_\_\_\_\_

10) ¿Qué letra representa mejor -82




10. \_\_\_\_\_



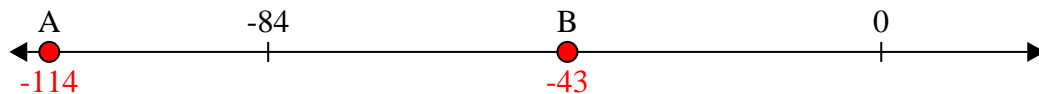
Resuelve cada problema.

**Respuestas**


1) ¿Qué letra representa mejor -128

1.     **A**    

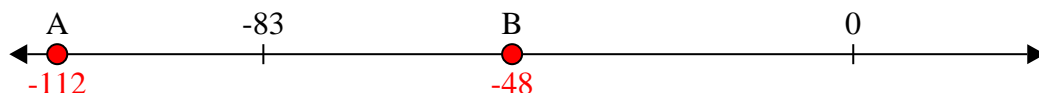
2) ¿Qué letra representa mejor -114

2.     **A**    


3) ¿Qué letra representa mejor -76

3.     **B**    


4) ¿Qué letra representa mejor -48

4.     **B**    


5) ¿Qué letra representa mejor -47

5.     **B**    

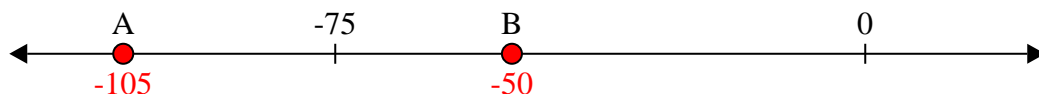
6) ¿Qué letra representa mejor -115

6.     **A**    


7) ¿Qué letra representa mejor -115

7.     **A**    


8) ¿Qué letra representa mejor -105

8.     **A**    

9) ¿Qué letra representa mejor -10

9.     **B**    

10) ¿Qué letra representa mejor -82

10.     **A**