



Resuelve cada problema.


Respuestas

1) ¿Qué letra representa mejor -32




1. _____

2) ¿Qué letra representa mejor -114




2. _____

3) ¿Qué letra representa mejor -117




3. _____

4) ¿Qué letra representa mejor -111




4. _____

5) ¿Qué letra representa mejor -33



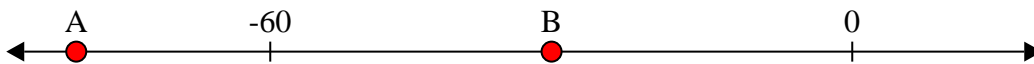
5. _____

6) ¿Qué letra representa mejor -29




6. _____

7) ¿Qué letra representa mejor -80



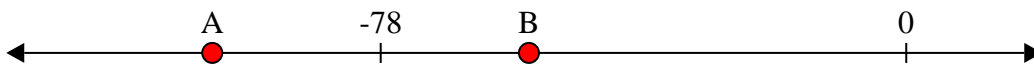
7. _____

8) ¿Qué letra representa mejor -86




8. _____

9) ¿Qué letra representa mejor -56



9. _____

10) ¿Qué letra representa mejor -24



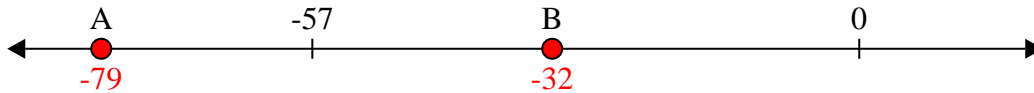
10. _____



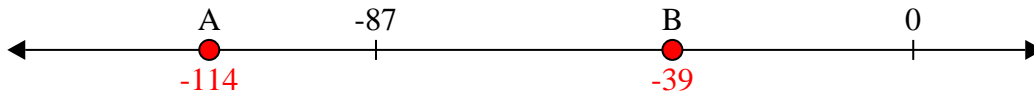
Resuelve cada problema.

Respuestas

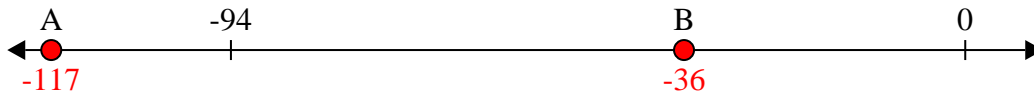
1) ¿Qué letra representa mejor -32

1. **B**

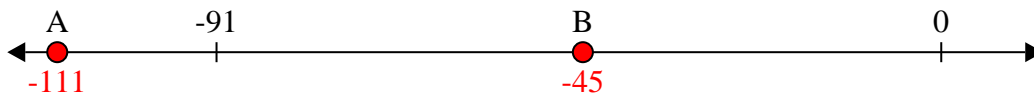
2) ¿Qué letra representa mejor -114

2. **A**


3) ¿Qué letra representa mejor -117

3. **A** 4. **A**

4) ¿Qué letra representa mejor -111

5. **B** 6. **B**

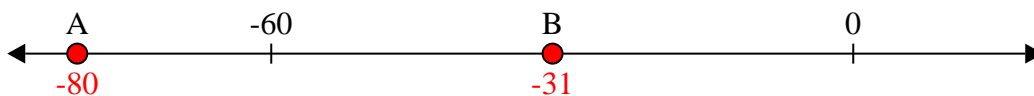
5) ¿Qué letra representa mejor -33

7. **A** 8. **A**


6) ¿Qué letra representa mejor -29

9. **B** 10. **B**

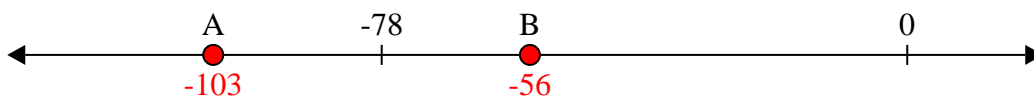
7) ¿Qué letra representa mejor -80



8) ¿Qué letra representa mejor -86



9) ¿Qué letra representa mejor -56



10) ¿Qué letra representa mejor -24

