




Resuelve cada problema.


Respuestas

1) ¿Qué letra representa mejor -27




1. _____

2) ¿Qué letra representa mejor -16




2. _____

3) ¿Qué letra representa mejor -18




3. _____

4) ¿Qué letra representa mejor -15




4. _____

5) ¿Qué letra representa mejor -91




5. _____

6) ¿Qué letra representa mejor -75




6. _____

7) ¿Qué letra representa mejor -81



7. _____

8) ¿Qué letra representa mejor -10




8. _____

9) ¿Qué letra representa mejor -59



9. _____

10) ¿Qué letra representa mejor -87



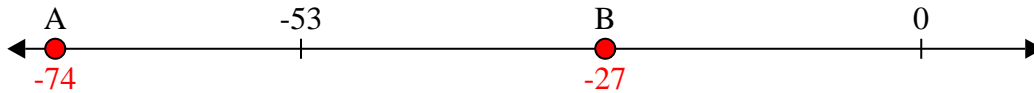
10. _____



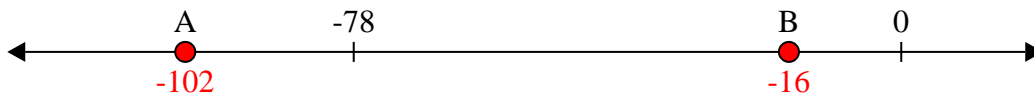
Resuelve cada problema.

Respuestas

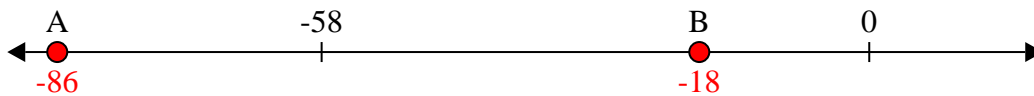
1) ¿Qué letra representa mejor -27

1. **B**


2) ¿Qué letra representa mejor -16

2. **B**


3) ¿Qué letra representa mejor -18

3. **B** 4. **B**

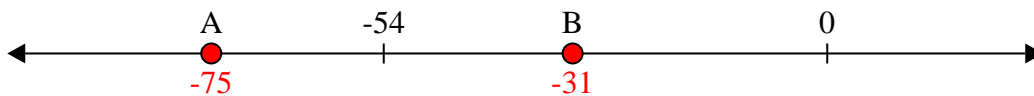
4) ¿Qué letra representa mejor -15

5. **A** 6. **A**


5) ¿Qué letra representa mejor -91

7. **A** 8. **B**


6) ¿Qué letra representa mejor -75

9. **B** 10. **A**

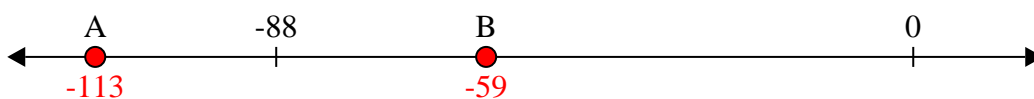
7) ¿Qué letra representa mejor -81




8) ¿Qué letra representa mejor -10



9) ¿Qué letra representa mejor -59



10) ¿Qué letra representa mejor -87






Resuelve cada problema.


Respuestas

1) ¿Qué letra representa mejor -28



1. _____

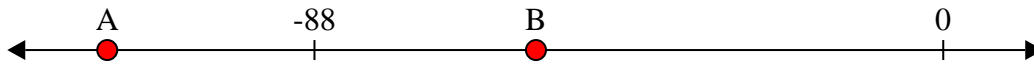
2) ¿Qué letra representa mejor -26



2. _____

3. _____

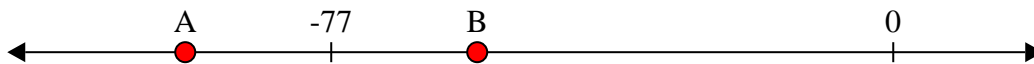
3) ¿Qué letra representa mejor -117



4. _____

5. _____

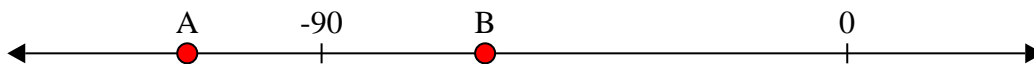
4) ¿Qué letra representa mejor -97



6. _____

7. _____

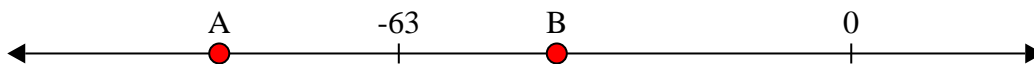
5) ¿Qué letra representa mejor -113



8. _____


9. _____

6) ¿Qué letra representa mejor -88




10. _____


7) ¿Qué letra representa mejor -22




8) ¿Qué letra representa mejor -25



9) ¿Qué letra representa mejor -82



10) ¿Qué letra representa mejor -120






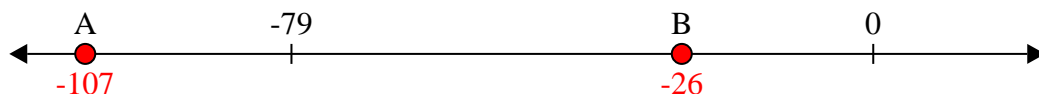
Resuelve cada problema.

Respuestas

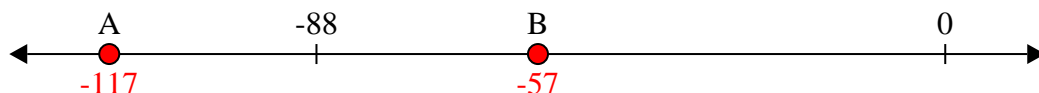
1) ¿Qué letra representa mejor -28

1. **B**

2) ¿Qué letra representa mejor -26

2. **B**

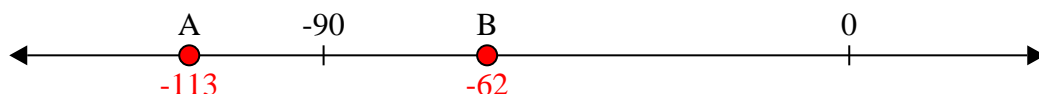
3) ¿Qué letra representa mejor -117

3. **A**

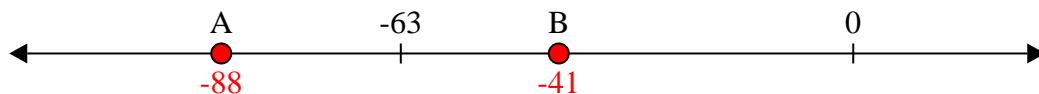
4) ¿Qué letra representa mejor -97

4. **A**


5) ¿Qué letra representa mejor -113

5. **A**


6) ¿Qué letra representa mejor -88

6. **A**


7) ¿Qué letra representa mejor -22

7. **B**


8) ¿Qué letra representa mejor -25

8. **B**

9) ¿Qué letra representa mejor -82

9. **A**

10) ¿Qué letra representa mejor -120


10. **A**



Resuelve cada problema.


Respuestas

1) ¿Qué letra representa mejor -37



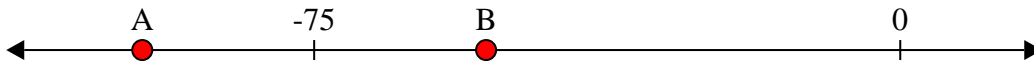
1. _____

2) ¿Qué letra representa mejor -113




2. _____

3) ¿Qué letra representa mejor -97



3. _____

4) ¿Qué letra representa mejor -80



4. _____

5) ¿Qué letra representa mejor -40




5. _____

6) ¿Qué letra representa mejor -101




6. _____

7) ¿Qué letra representa mejor -22




7. _____

8) ¿Qué letra representa mejor -105




8. _____

9) ¿Qué letra representa mejor -115



9. _____

10) ¿Qué letra representa mejor -97



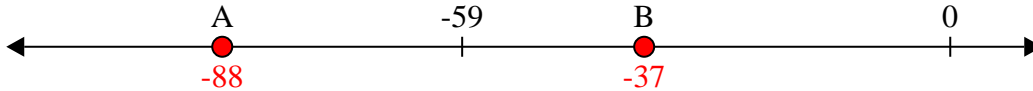
10. _____



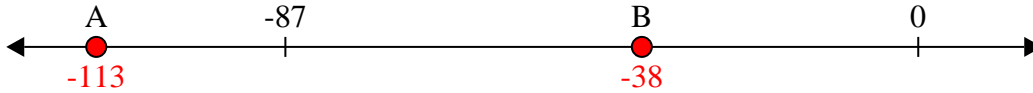
Resuelve cada problema.

Respuestas

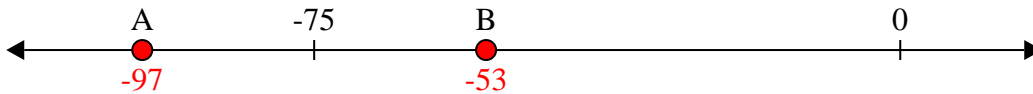
1) ¿Qué letra representa mejor -37

1. **B**

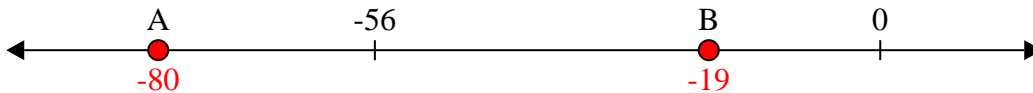
2) ¿Qué letra representa mejor -113

2. **A**

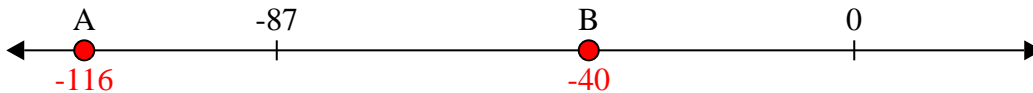
3) ¿Qué letra representa mejor -97

3. **A**


4) ¿Qué letra representa mejor -80

4. **A**


5) ¿Qué letra representa mejor -40

5. **B**


6) ¿Qué letra representa mejor -101

6. **A**


7) ¿Qué letra representa mejor -22

7. **B**

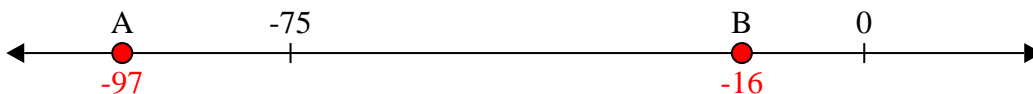
8) ¿Qué letra representa mejor -105

8. **A**

9) ¿Qué letra representa mejor -115

9. **A**

10) ¿Qué letra representa mejor -97


10. **A**



Resuelve cada problema.

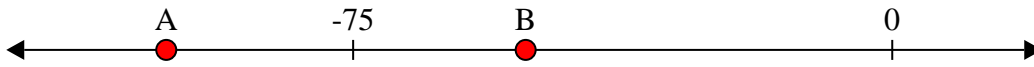
Respuestas

1) ¿Qué letra representa mejor -24




1. _____

2) ¿Qué letra representa mejor -101



2. _____

3) ¿Qué letra representa mejor -83




3. _____

4) ¿Qué letra representa mejor -95




4. _____

5) ¿Qué letra representa mejor -86



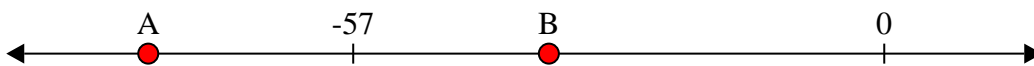
5. _____

6) ¿Qué letra representa mejor -112




6. _____

7) ¿Qué letra representa mejor -79




7. _____

8) ¿Qué letra representa mejor -10



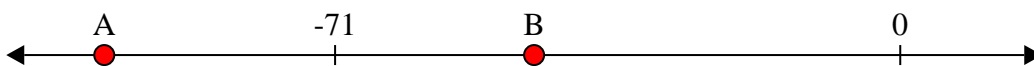
8. _____

9) ¿Qué letra representa mejor -27



9. _____

10) ¿Qué letra representa mejor -100



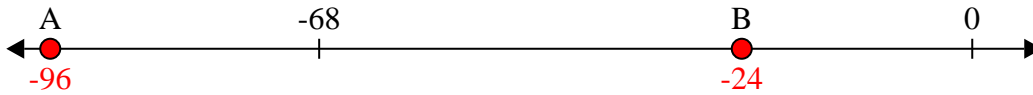
10. _____



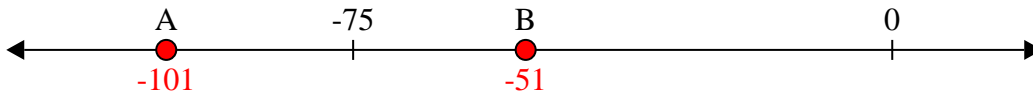
Resuelve cada problema.

Respuestas

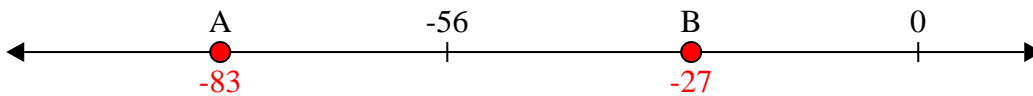
1) ¿Qué letra representa mejor -24

1. **B**

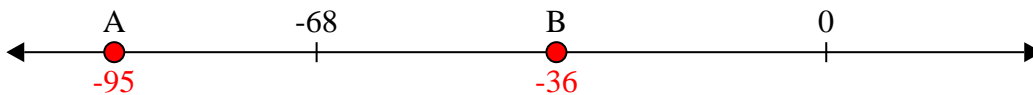
2) ¿Qué letra representa mejor -101

2. **A**


3) ¿Qué letra representa mejor -83

3. **A**


4) ¿Qué letra representa mejor -95

4. **A**

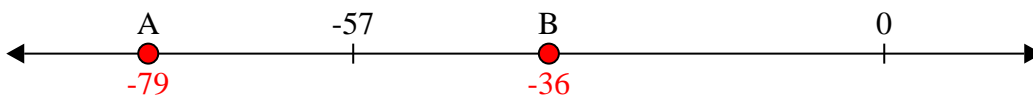
5) ¿Qué letra representa mejor -86

5. **A**


6) ¿Qué letra representa mejor -112

6. **A**

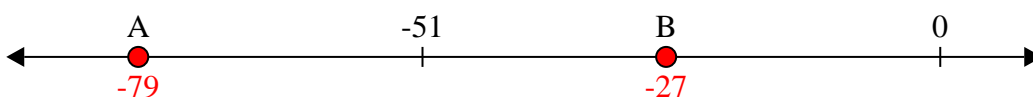
7) ¿Qué letra representa mejor -79

7. **A**

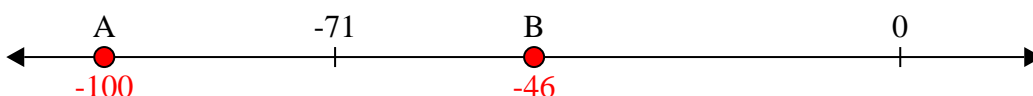
8) ¿Qué letra representa mejor -10

8. **B**

9) ¿Qué letra representa mejor -27

9. **B**

10) ¿Qué letra representa mejor -100


10. **A**



Resuelve cada problema.

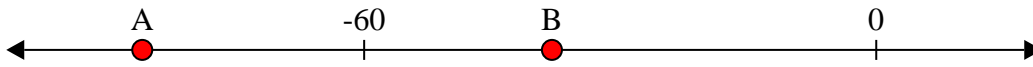
Respuestas

1) ¿Qué letra representa mejor -11




1. _____

2) ¿Qué letra representa mejor -38




2. _____

3) ¿Qué letra representa mejor -78




3. _____

4) ¿Qué letra representa mejor -28



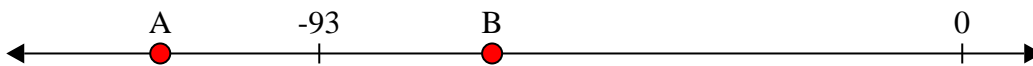
4. _____

5) ¿Qué letra representa mejor -109




5. _____

6) ¿Qué letra representa mejor -68




6. _____

7) ¿Qué letra representa mejor -10



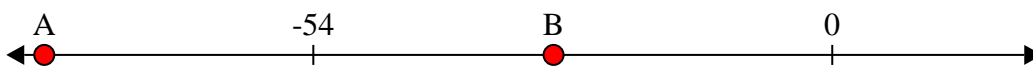
7. _____

8) ¿Qué letra representa mejor -20




8. _____

9) ¿Qué letra representa mejor -82



9. _____

10) ¿Qué letra representa mejor -79



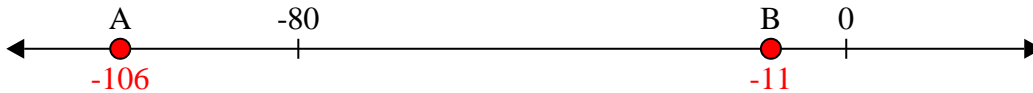
10. _____



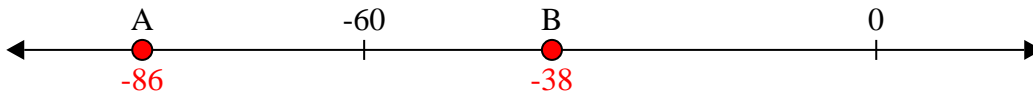
Resuelve cada problema.

Respuestas

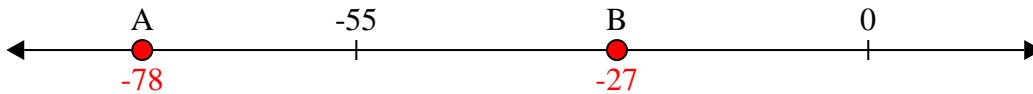
1) ¿Qué letra representa mejor -11

1. **B**

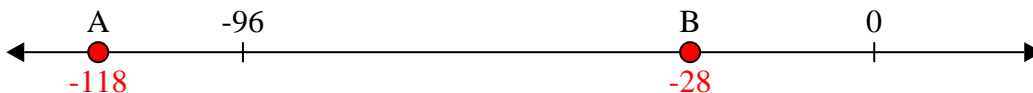
2) ¿Qué letra representa mejor -38

2. **B**


3) ¿Qué letra representa mejor -78

3. **A**

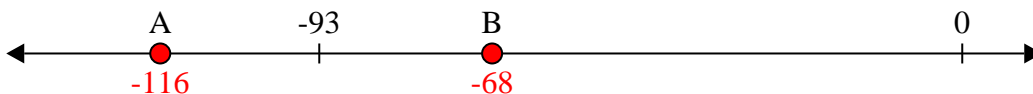
4) ¿Qué letra representa mejor -28

4. **B**


5) ¿Qué letra representa mejor -109

5. **A**


6) ¿Qué letra representa mejor -68

6. **B**

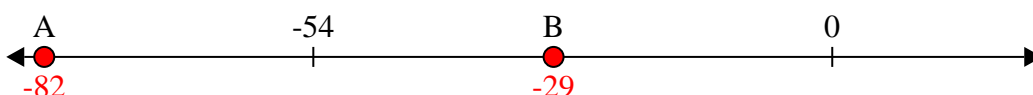
7) ¿Qué letra representa mejor -10

7. **B**


8) ¿Qué letra representa mejor -20

8. **B**

9) ¿Qué letra representa mejor -82

9. **A**

10) ¿Qué letra representa mejor -79


10. **A**



Resuelve cada problema.


Respuestas

1) ¿Qué letra representa mejor -98




1. _____

2) ¿Qué letra representa mejor -39




2. _____

3) ¿Qué letra representa mejor -20



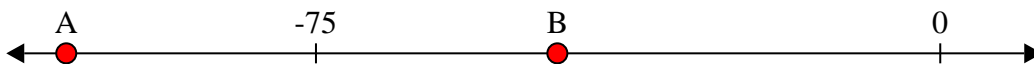
3. _____

4) ¿Qué letra representa mejor -11



4. _____

5) ¿Qué letra representa mejor -105



5. _____

6) ¿Qué letra representa mejor -106




6. _____

7) ¿Qué letra representa mejor -12




7. _____

8) ¿Qué letra representa mejor -111




8. _____

9) ¿Qué letra representa mejor -12



9. _____

10) ¿Qué letra representa mejor -28



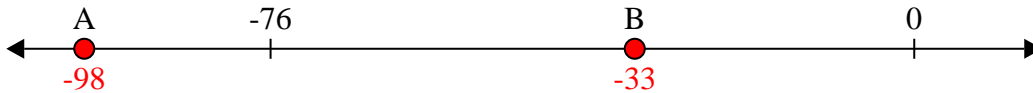
10. _____



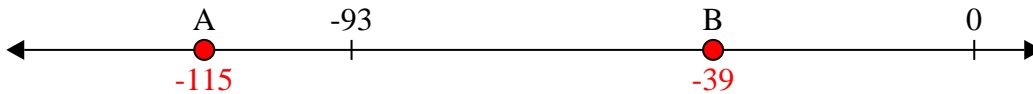
Resuelve cada problema.

Respuestas

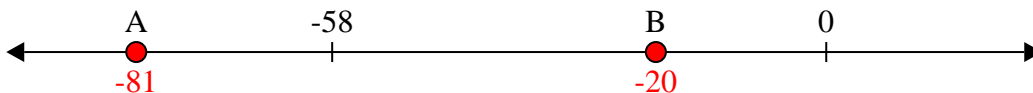
1) ¿Qué letra representa mejor -98

1. **A**

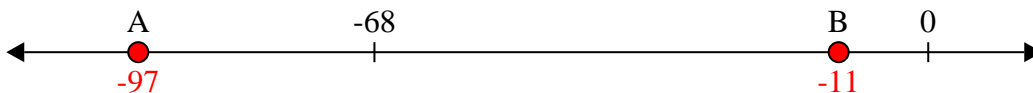
2) ¿Qué letra representa mejor -39

2. **B**

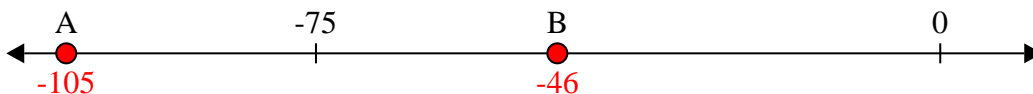
3) ¿Qué letra representa mejor -20

3. **B**

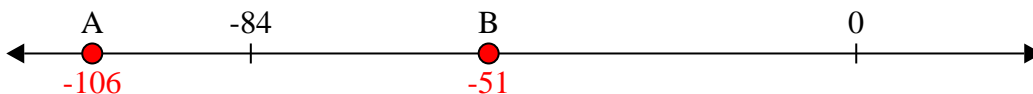
4) ¿Qué letra representa mejor -11

4. **B**


5) ¿Qué letra representa mejor -105

5. **A**


6) ¿Qué letra representa mejor -106

6. **A**


7) ¿Qué letra representa mejor -12

7. **B**


8) ¿Qué letra representa mejor -111

8. **A**

9) ¿Qué letra representa mejor -12

9. **B**

10) ¿Qué letra representa mejor -28


10. **B**



Resuelve cada problema.


Respuestas

1) ¿Qué letra representa mejor -128




1. _____

2) ¿Qué letra representa mejor -114



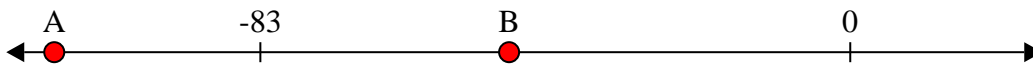
2. _____

3) ¿Qué letra representa mejor -76




3. _____

4) ¿Qué letra representa mejor -48




4. _____

5) ¿Qué letra representa mejor -47




5. _____

6) ¿Qué letra representa mejor -115



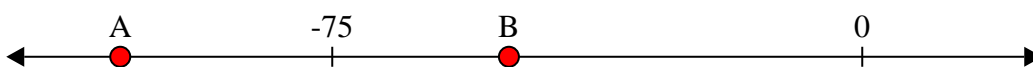
6. _____

7) ¿Qué letra representa mejor -115




7. _____

8) ¿Qué letra representa mejor -105




8. _____

9) ¿Qué letra representa mejor -10



9. _____

10) ¿Qué letra representa mejor -82



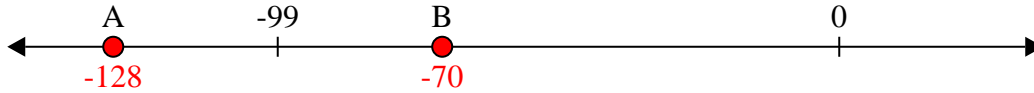
10. _____



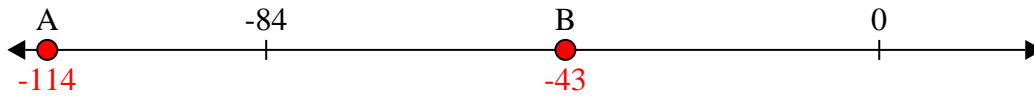
Resuelve cada problema.

Respuestas

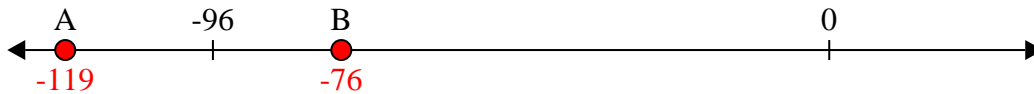
1) ¿Qué letra representa mejor -128

1. **A**

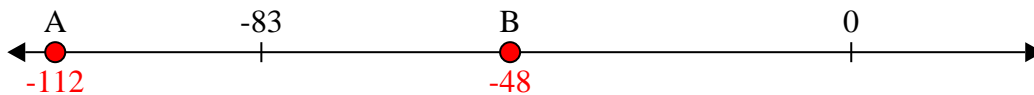
2) ¿Qué letra representa mejor -114

2. **A**


3) ¿Qué letra representa mejor -76

3. **B**


4) ¿Qué letra representa mejor -48

4. **B**


5) ¿Qué letra representa mejor -47

5. **B**

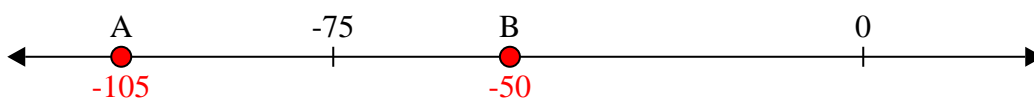
6) ¿Qué letra representa mejor -115

6. **A**


7) ¿Qué letra representa mejor -115

7. **A**


8) ¿Qué letra representa mejor -105

8. **A**

9) ¿Qué letra representa mejor -10

9. **B**

10) ¿Qué letra representa mejor -82

10. **A**



Resuelve cada problema.


Respuestas

1) ¿Qué letra representa mejor -32




1. _____

2) ¿Qué letra representa mejor -114




2. _____

3) ¿Qué letra representa mejor -117




3. _____

4) ¿Qué letra representa mejor -111




4. _____

5) ¿Qué letra representa mejor -33



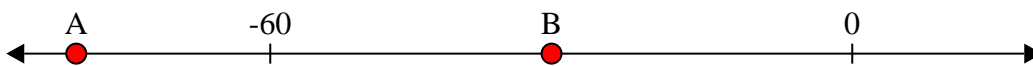
5. _____

6) ¿Qué letra representa mejor -29




6. _____

7) ¿Qué letra representa mejor -80



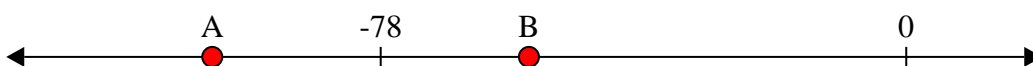
7. _____

8) ¿Qué letra representa mejor -86




8. _____

9) ¿Qué letra representa mejor -56



9. _____

10) ¿Qué letra representa mejor -24



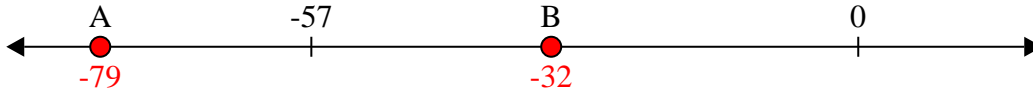
10. _____



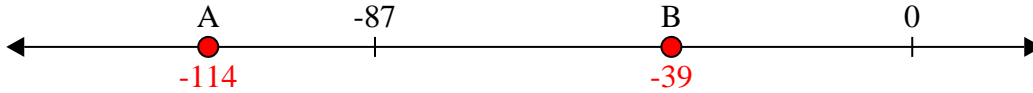
Resuelve cada problema.

Respuestas

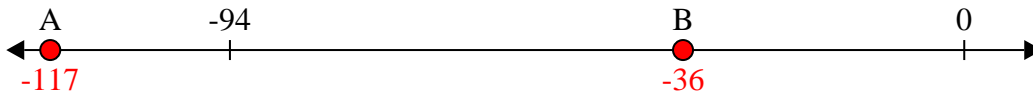
1) ¿Qué letra representa mejor -32

1. **B**

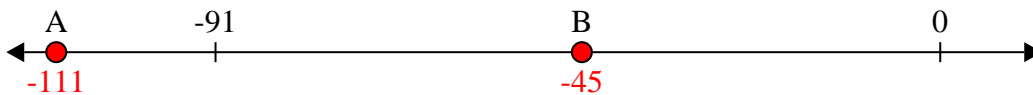
2) ¿Qué letra representa mejor -114

2. **A**


3) ¿Qué letra representa mejor -117

3. **A**


4) ¿Qué letra representa mejor -111

4. **A**

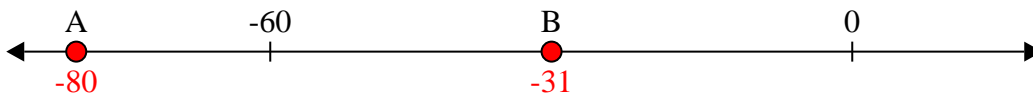
5) ¿Qué letra representa mejor -33

5. **B**


6) ¿Qué letra representa mejor -29

6. **B**

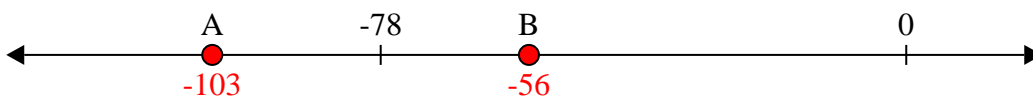
7) ¿Qué letra representa mejor -80

7. **A**


8) ¿Qué letra representa mejor -86

8. **A**

9) ¿Qué letra representa mejor -56

9. **B**

10) ¿Qué letra representa mejor -24


10. **B**



Resuelve cada problema.


Respuestas

1) ¿Qué letra representa mejor -29




1. _____

2) ¿Qué letra representa mejor -120




2. _____

3) ¿Qué letra representa mejor -118



3. _____

4) ¿Qué letra representa mejor -14



4. _____

5) ¿Qué letra representa mejor -109



5. _____

6) ¿Qué letra representa mejor -28




6. _____

7) ¿Qué letra representa mejor -21




7. _____

8) ¿Qué letra representa mejor -14




8. _____

9) ¿Qué letra representa mejor -13



9. _____

10) ¿Qué letra representa mejor -114



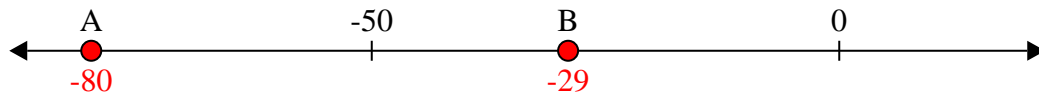
10. _____



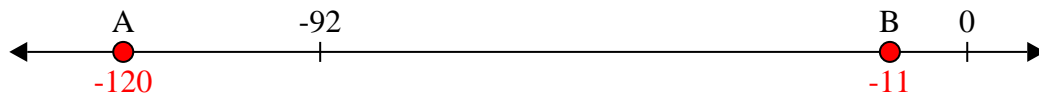
Resuelve cada problema.

Respuestas


1) ¿Qué letra representa mejor -29

1. **B**


2) ¿Qué letra representa mejor -120

2. **A**


3) ¿Qué letra representa mejor -118

3. **A**


4) ¿Qué letra representa mejor -14

4. **B**


5) ¿Qué letra representa mejor -109

5. **A**


6) ¿Qué letra representa mejor -28

6. **B**


7) ¿Qué letra representa mejor -21

7. **B**

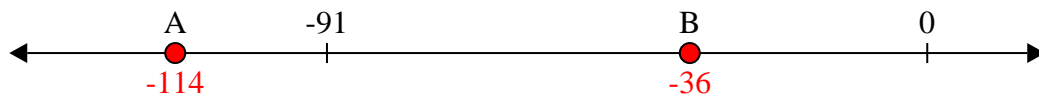
8) ¿Qué letra representa mejor -14

8. **B**

9) ¿Qué letra representa mejor -13

9. **B**

10) ¿Qué letra representa mejor -114


10. **A**



Resuelve cada problema.


Respuestas

1) ¿Qué letra representa mejor -101




1. _____

2) ¿Qué letra representa mejor -42




2. _____

3) ¿Qué letra representa mejor -76



3. _____

4) ¿Qué letra representa mejor -110



4. _____

5) ¿Qué letra representa mejor -106



5. _____

6) ¿Qué letra representa mejor -114




6. _____

7) ¿Qué letra representa mejor -21




7. _____

8) ¿Qué letra representa mejor -20




8. _____

9) ¿Qué letra representa mejor -79



9. _____

10) ¿Qué letra representa mejor -97



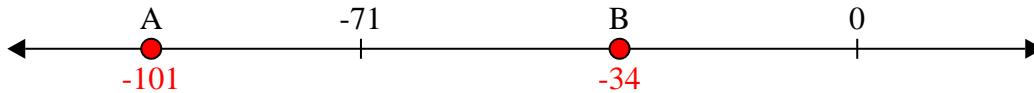
10. _____



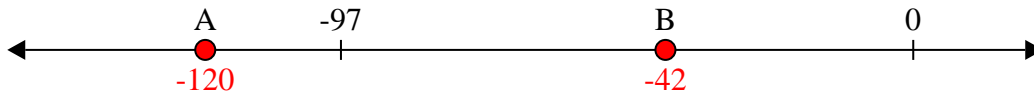
Resuelve cada problema.

Respuestas

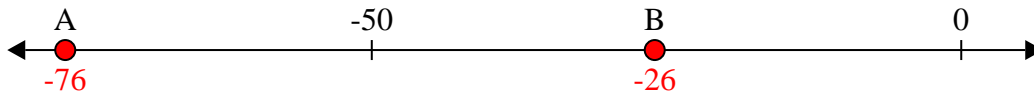
1) ¿Qué letra representa mejor -101

1. **A**

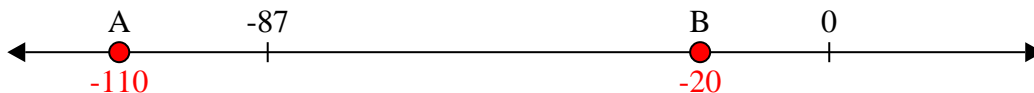
2) ¿Qué letra representa mejor -42

2. **B**


3) ¿Qué letra representa mejor -76

3. **A**


4) ¿Qué letra representa mejor -110

4. **A**


5) ¿Qué letra representa mejor -106

5. **A**


6) ¿Qué letra representa mejor -114

6. **A**


7) ¿Qué letra representa mejor -21

7. **B**


8) ¿Qué letra representa mejor -20

8. **B**

9) ¿Qué letra representa mejor -79

9. **A**

10) ¿Qué letra representa mejor -97

10. **A**