




Resuelve cada problema.


Respuestas

1) ¿Qué letra representa mejor -106




1. _____

2) ¿Qué letra representa mejor -36




2. _____

3) ¿Qué letra representa mejor -103



3. _____

4) ¿Qué letra representa mejor -120



4. _____

5) ¿Qué letra representa mejor -22




5. _____

6) ¿Qué letra representa mejor -17




6. _____

7) ¿Qué letra representa mejor -51




7. _____

8) ¿Qué letra representa mejor -32




8. _____

9) ¿Qué letra representa mejor -93



9. _____

10) ¿Qué letra representa mejor -105



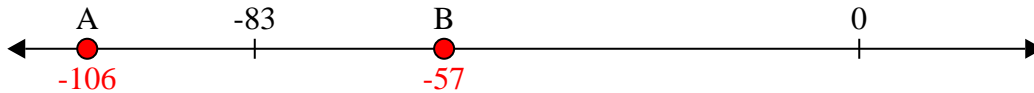
10. _____



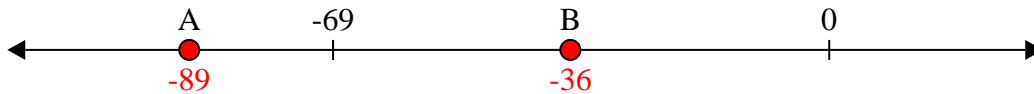
Resuelve cada problema.

Respuestas

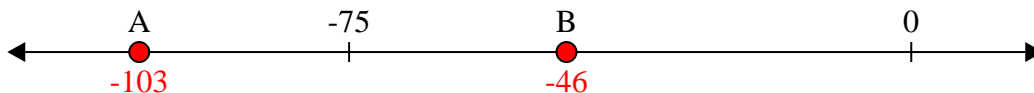
1) ¿Qué letra representa mejor -106

1. **A**

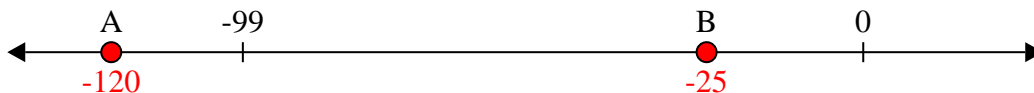
2) ¿Qué letra representa mejor -36

2. **B**


3) ¿Qué letra representa mejor -103

3. **A**


4) ¿Qué letra representa mejor -120

4. **A**


5) ¿Qué letra representa mejor -22

5. **B**


6) ¿Qué letra representa mejor -17

6. **B**


7) ¿Qué letra representa mejor -51

7. **B**


8) ¿Qué letra representa mejor -32

8. **B**

9) ¿Qué letra representa mejor -93

9. **A**

10) ¿Qué letra representa mejor -105

10. **A**