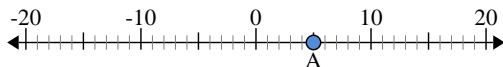




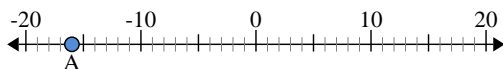
Usar las rectas numéricas para encontrar el valor absoluto.

1) a. ¿Cuál es el valor de 'A'?



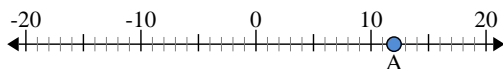
b. ¿Qué tan lejos está 'A' de 0 (valor absoluto)?

2) a. ¿Cuál es el valor de 'A'?



b. ¿Qué tan lejos está 'A' de 0 (valor absoluto)?

3) a. ¿Cuál es el valor de 'A'?



**Respuestas**

1. \_\_\_\_\_
2. \_\_\_\_\_
3. \_\_\_\_\_
4. \_\_\_\_\_
5. \_\_\_\_\_
6. \_\_\_\_\_
7. \_\_\_\_\_
8. \_\_\_\_\_
9. \_\_\_\_\_
10. \_\_\_\_\_



Usar las rectas numéricas para encontrar el valor absoluto.

1) a. ¿Cuál es el valor de 'A'?



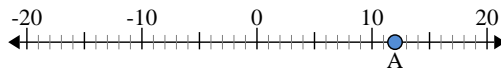
b. ¿Qué tan lejos está 'A' de 0 (valor absoluto)?

2) a. ¿Cuál es el valor de 'A'?



b. ¿Qué tan lejos está 'A' de 0 (valor absoluto)?

3) a. ¿Cuál es el valor de 'A'?



**Respuestas**

- 1. 5      5
- 2. -16      16
- 3. 12      12
- 4. 6      6
- 5. -7      7
- 6. 8      8
- 7. -11      11
- 8. -20      20
- 9. -2      2
- 10. 0      0