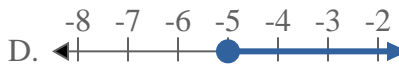
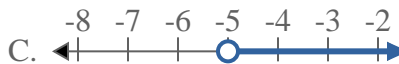
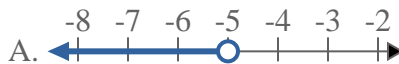
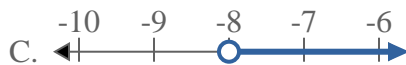
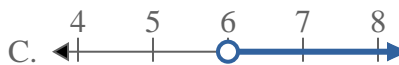
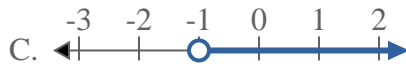
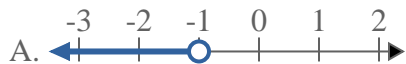
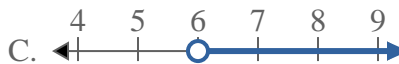
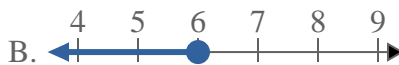
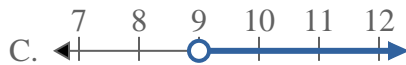
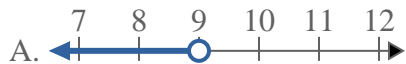
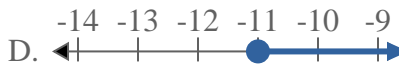
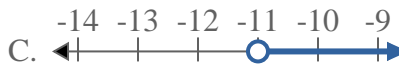




Resuelve cada problema.

Respuestas1) ¿Qué opción representa mejor $X < 20$?2) ¿Qué opción representa mejor $X \geq -5$?3) ¿Qué opción representa mejor $X \leq -8$?4) ¿Qué opción representa mejor $X \geq 6$?5) ¿Qué opción representa mejor $X > -1$?6) ¿Qué opción representa mejor $X \leq 6$?7) ¿Qué opción representa mejor $X < 9$?8) ¿Qué opción representa mejor $X \leq -11$?

1. _____

2. _____

3. _____

4. _____

5. _____

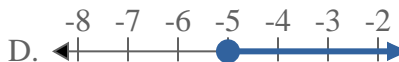
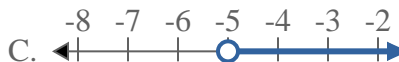
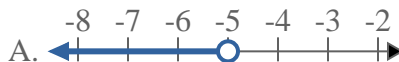
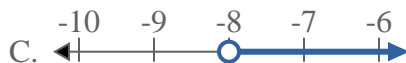
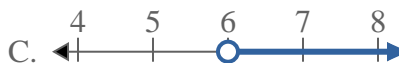
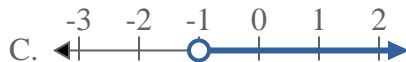
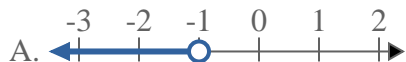
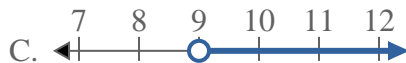
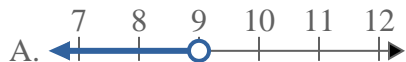
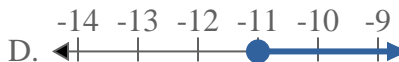
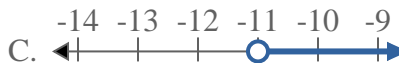
6. _____

7. _____

8. _____



Resuelve cada problema.

Respuestas1) ¿Qué opción representa mejor $X < 20$?2) ¿Qué opción representa mejor $X \geq -5$?3) ¿Qué opción representa mejor $X \leq -8$?4) ¿Qué opción representa mejor $X \geq 6$?5) ¿Qué opción representa mejor $X > -1$?6) ¿Qué opción representa mejor $X \leq 6$?7) ¿Qué opción representa mejor $X < 9$?8) ¿Qué opción representa mejor $X \leq -11$?1. **A** 2. **D** 3. **B** 4. **D** 5. **C** 6. **B** 7. **A** 8. **B**