
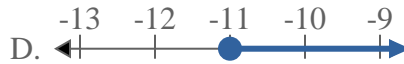
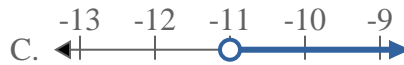
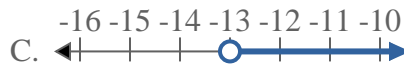




Resuelve cada problema.

Respuestas1) ¿Qué opción representa mejor $X > -5$?2) ¿Qué opción representa mejor $X \geq 12$?3) ¿Qué opción representa mejor $X \leq 20$?4) ¿Qué opción representa mejor $X \geq -11$?5) ¿Qué opción representa mejor $X > -3$?6) ¿Qué opción representa mejor $X > 5$?7) ¿Qué opción representa mejor $X \leq 8$?8) ¿Qué opción representa mejor $X \leq -13$?

1. _____

2. _____

3. _____

4. _____

5. _____

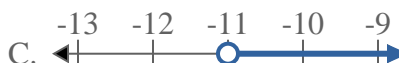
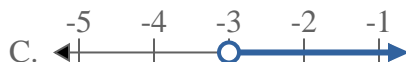
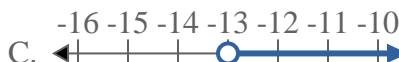
6. _____

7. _____

8. _____



Resuelve cada problema.

Respuestas1) ¿Qué opción representa mejor $X > -5$?2) ¿Qué opción representa mejor $X \geq 12$?3) ¿Qué opción representa mejor $X \leq 20$?4) ¿Qué opción representa mejor $X \geq -11$?5) ¿Qué opción representa mejor $X > -3$?6) ¿Qué opción representa mejor $X > 5$?7) ¿Qué opción representa mejor $X \leq 8$?8) ¿Qué opción representa mejor $X \leq -13$?1. **C** 2. **D** 3. **B** 4. **D** 5. **C** 6. **C** 7. **B** 8. **B**