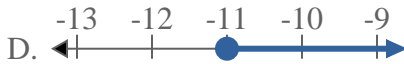
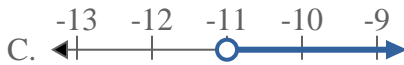
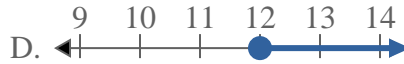
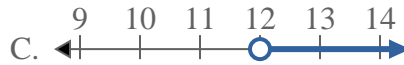
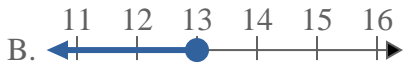
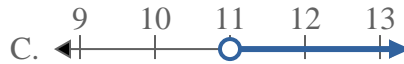
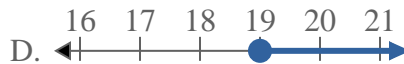
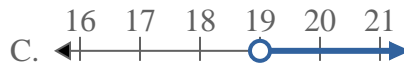




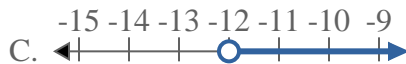
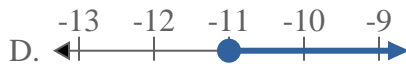
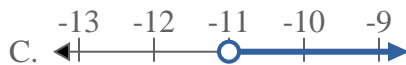
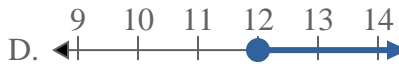
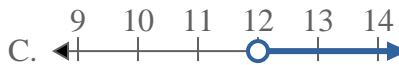
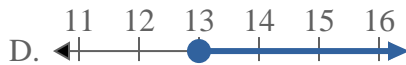
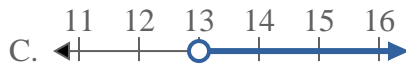
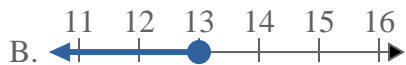
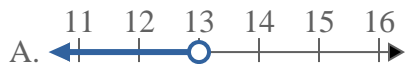
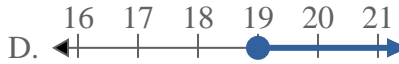
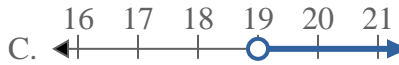
Resuelve cada problema.

Respuestas1) ¿Qué opción representa mejor $X \leq -12$?2) ¿Qué opción representa mejor $X < 5$?3) ¿Qué opción representa mejor $X \geq -11$?4) ¿Qué opción representa mejor $X > 12$?5) ¿Qué opción representa mejor $X \geq 13$?6) ¿Qué opción representa mejor $X \leq 11$?7) ¿Qué opción representa mejor $X \geq 20$?8) ¿Qué opción representa mejor $X > 19$?

1. _____
2. _____
3. _____
4. _____
5. _____
6. _____
7. _____
8. _____



Resuelve cada problema.

Respuestas1) ¿Qué opción representa mejor $X \leq -12$?2) ¿Qué opción representa mejor $X < 5$?3) ¿Qué opción representa mejor $X \geq -11$?4) ¿Qué opción representa mejor $X > 12$?5) ¿Qué opción representa mejor $X \geq 13$?6) ¿Qué opción representa mejor $X \leq 11$?7) ¿Qué opción representa mejor $X \geq 20$?8) ¿Qué opción representa mejor $X > 19$?1. **B** 2. **A** 3. **D** 4. **C** 5. **D** 6. **B** 7. **D** 8. **C**