



**Determinar que letra completa mejor el patrón.**

**Respuestas**

1) *Determinar que letra completa mejor el patrón.*



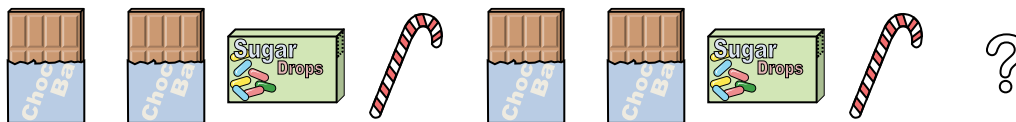
- A.
- B.
- C.
- D.

2) *Determinar que letra completa mejor el patrón.*



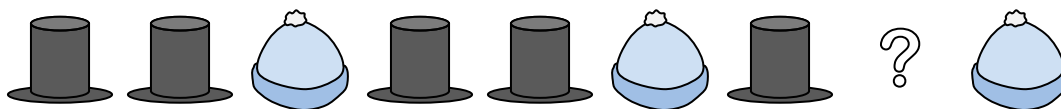
- A.
- B.
- C.
- D.

3) *Determinar que letra completa mejor el patrón.*



- A.
- B.
- C.
- D.

4) *Determinar que letra completa mejor el patrón.*



- A.
- B.
- C.
- D.

5) *Determinar que letra completa mejor el patrón.*



- A.
- B.
- C.
- D.

1. \_\_\_\_\_

2. \_\_\_\_\_

3. \_\_\_\_\_

4. \_\_\_\_\_

5. \_\_\_\_\_



Determinar que letra completa mejor el patrón.

1) Determinar que letra completa mejor el patrón.




- A.
- B.
- C.
- D.

2) Determinar que letra completa mejor el patrón.



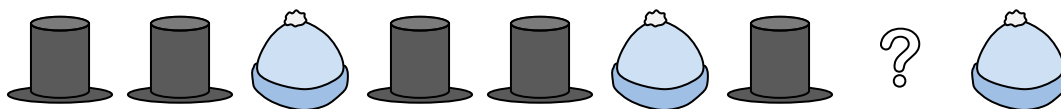
- A.
- B.
- C.
- D.

3) Determinar que letra completa mejor el patrón.



- A.
- B.
- C.
- D.

4) Determinar que letra completa mejor el patrón.



- A.
- B.
- C.
- D.

5) Determinar que letra completa mejor el patrón.



- A.
- B.
- C.
- D.

**Respuestas**

1. **D**

2. **C**

3. **C**

4. **D**

5. **C**