




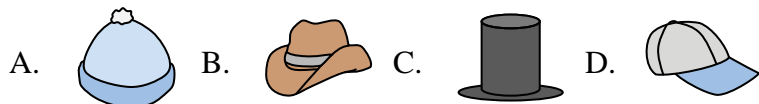
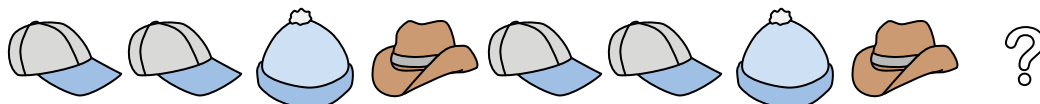
Determinar que letra completa mejor el patrón.

Respuestas

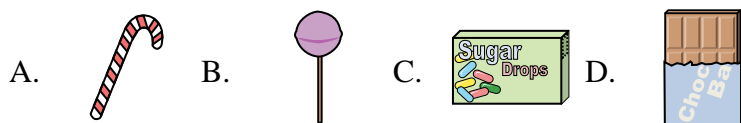
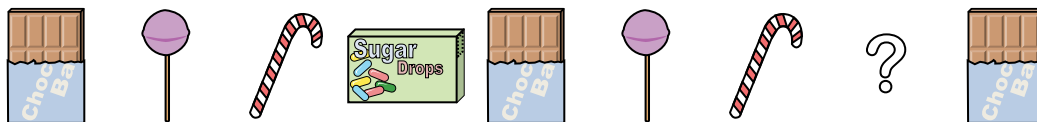
1) *Determinar que letra completa mejor el patrón.*



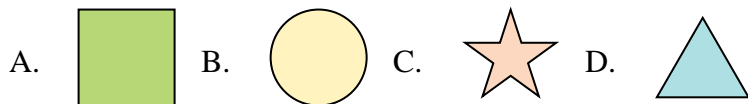
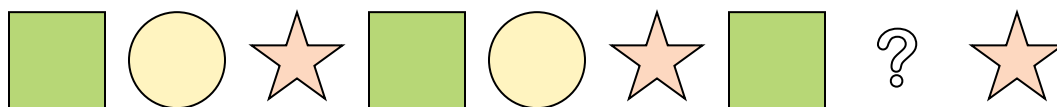
2) *Determinar que letra completa mejor el patrón.*



3) *Determinar que letra completa mejor el patrón.*



4) *Determinar que letra completa mejor el patrón.*



5) *Determinar que letra completa mejor el patrón.*

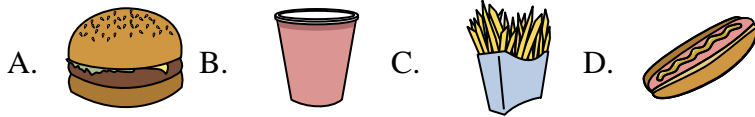



1. _____
2. _____
3. _____
4. _____
5. _____

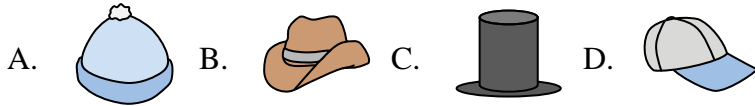
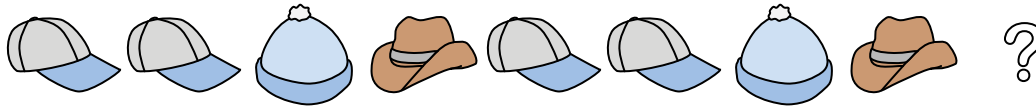


Determinar que letra completa mejor el patrón.

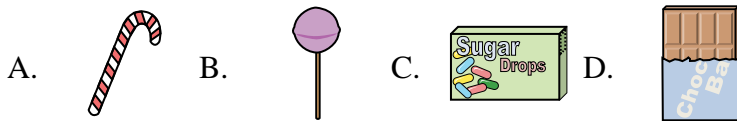
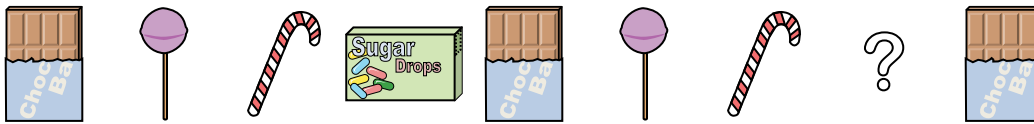
1) Determinar que letra completa mejor el patrón.



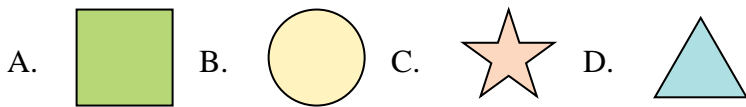
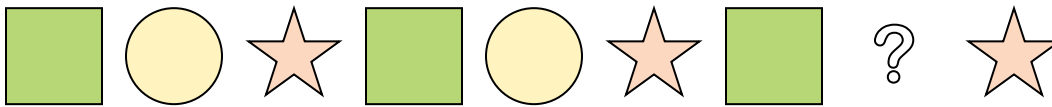
2) Determinar que letra completa mejor el patrón.



3) Determinar que letra completa mejor el patrón.



4) Determinar que letra completa mejor el patrón.



5) Determinar que letra completa mejor el patrón.



Respuestas

1. **B**

2. **D**

3. **C**

4. **B**

5. **A**