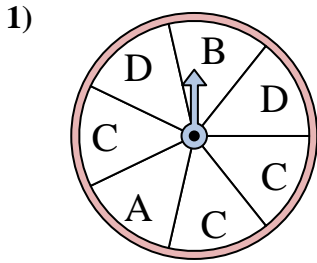


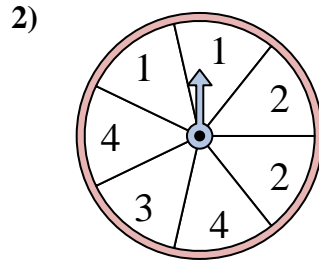


Resuelve cada problema. Redondea tu respuesta a la décima más cercana.

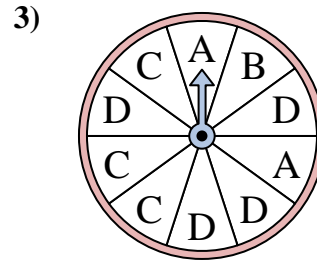
Respuestas



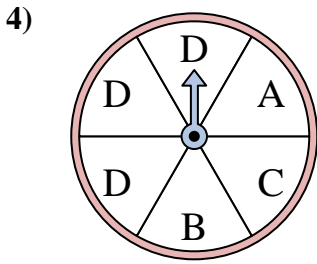
La ruleta tiene un% {EN} {BLANCO} de posibilidades de aterrizar en un D.



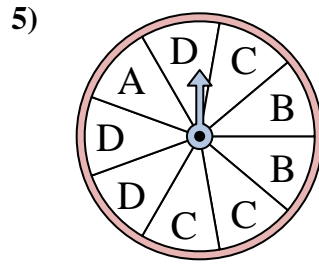
La ruleta tiene un% {EN} {BLANCO} de posibilidades de aterrizar en un 3.



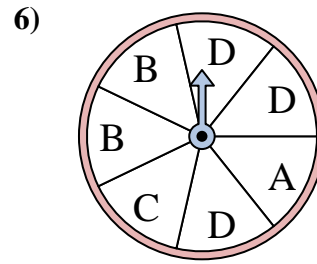
La ruleta tiene un% {EN} {BLANCO} de posibilidades de aterrizar en un B.



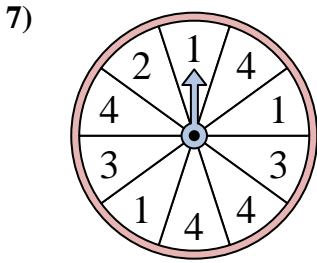
La ruleta tiene un% {EN} {BLANCO} de posibilidades de aterrizar en un B.



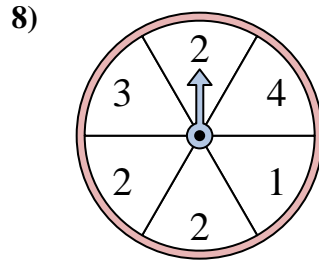
La ruleta tiene un% {EN} {BLANCO} de posibilidades de aterrizar en un C.



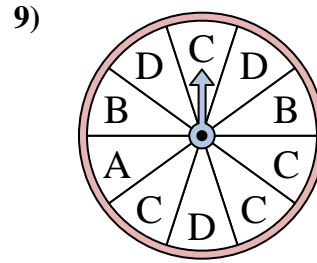
La ruleta tiene un% {EN} {BLANCO} de posibilidades de aterrizar en un B.



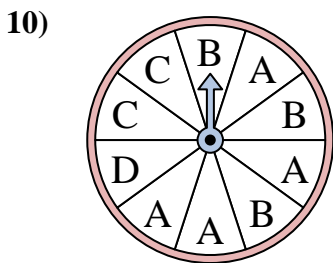
La ruleta tiene un% {EN} {BLANCO} de posibilidades de aterrizar en un 4.



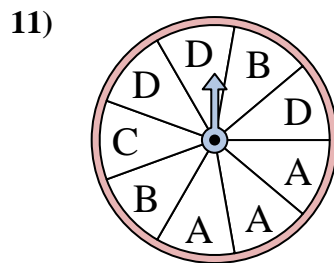
La ruleta tiene un% {EN} {BLANCO} de posibilidades de aterrizar en un 1.



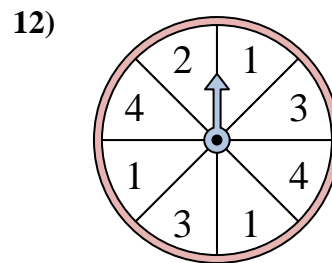
La ruleta tiene un% {EN} {BLANCO} de posibilidades de aterrizar en un C.



La ruleta tiene un% {EN} {BLANCO} de posibilidades de aterrizar en un D.



La ruleta tiene un% {EN} {BLANCO} de posibilidades de aterrizar en un B.



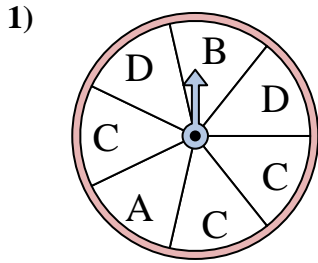
La ruleta tiene un% {EN} {BLANCO} de posibilidades de aterrizar en un 4.

1. _____
2. _____
3. _____
4. _____
5. _____
6. _____
7. _____
8. _____
9. _____
10. _____
11. _____
12. _____

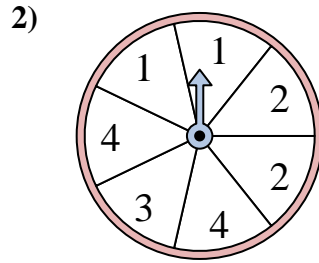


Resuelve cada problema. Redondea tu respuesta a la décima más cercana.

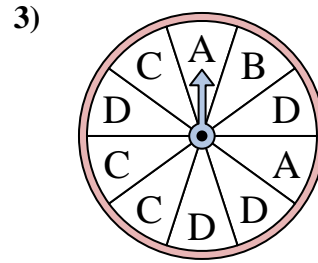
Respuestas



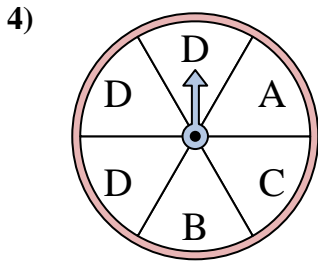
La ruleta tiene un% {EN} {BLANCO} de posibilidades de aterrizar en un D.



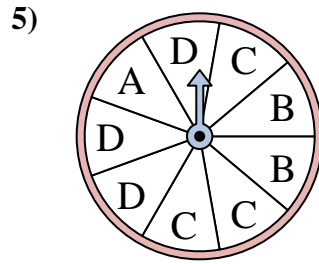
La ruleta tiene un% {EN} {BLANCO} de posibilidades de aterrizar en un 3.



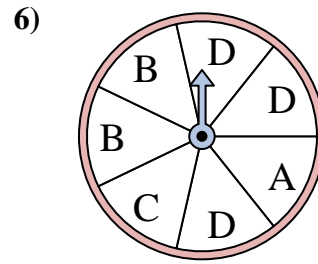
La ruleta tiene un% {EN} {BLANCO} de posibilidades de aterrizar en un B.



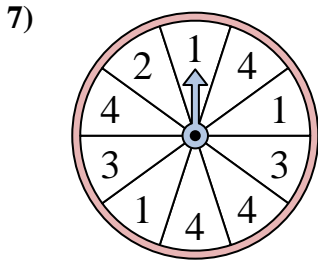
La ruleta tiene un% {EN} {BLANCO} de posibilidades de aterrizar en un B.



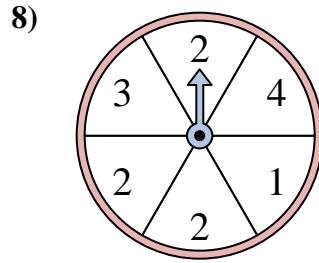
La ruleta tiene un% {EN} {BLANCO} de posibilidades de aterrizar en un C.



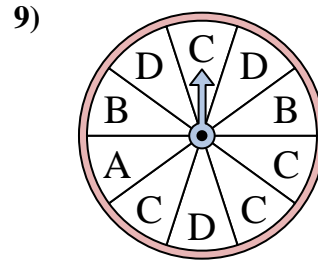
La ruleta tiene un% {EN} {BLANCO} de posibilidades de aterrizar en un B.



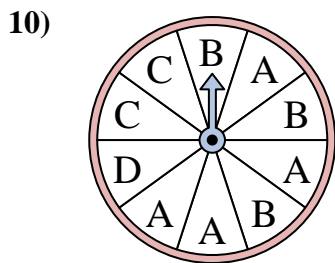
La ruleta tiene un% {EN} {BLANCO} de posibilidades de aterrizar en un 4.



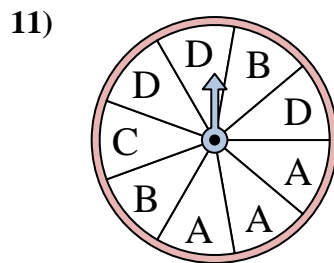
La ruleta tiene un% {EN} {BLANCO} de posibilidades de aterrizar en un 1.



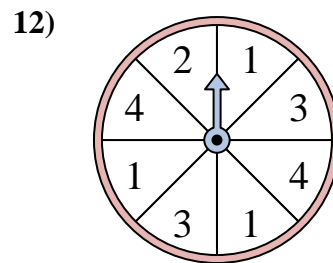
La ruleta tiene un% {EN} {BLANCO} de posibilidades de aterrizar en un C.



La ruleta tiene un% {EN} {BLANCO} de posibilidades de aterrizar en un D.



La ruleta tiene un% {EN} {BLANCO} de posibilidades de aterrizar en un B.



La ruleta tiene un% {EN} {BLANCO} de posibilidades de aterrizar en un 4.

1. 28.6
2. 14.3
3. 10
4. 16.7
5. 33.3
6. 28.6
7. 40
8. 16.7
9. 40
10. 10
11. 22.2
12. 25