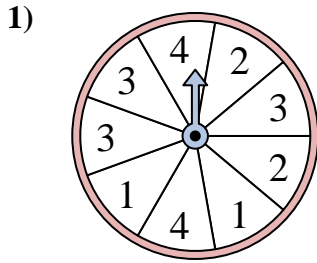


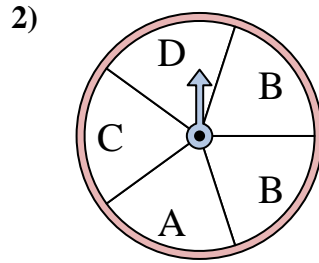


Resuelve cada problema. Redondea tu respuesta a la décima más cercana.

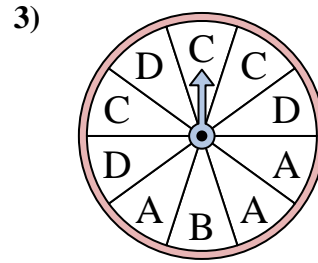
Respuestas



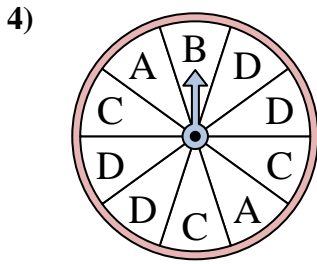
La ruleta tiene un% {EN} {BLANCO} de posibilidades de aterrizar en un 2.



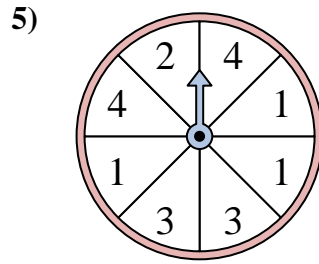
La ruleta tiene un% {EN} {BLANCO} de posibilidades de aterrizar en un D.



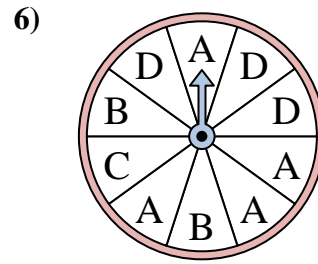
La ruleta tiene un% {EN} {BLANCO} de posibilidades de aterrizar en un B.



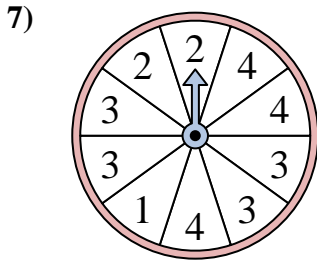
La ruleta tiene un% {EN} {BLANCO} de posibilidades de aterrizar en un A.



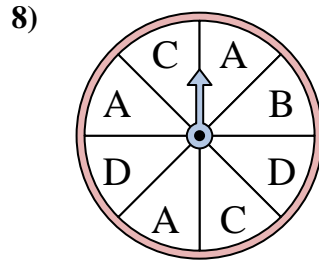
La ruleta tiene un% {EN} {BLANCO} de posibilidades de aterrizar en un 3.



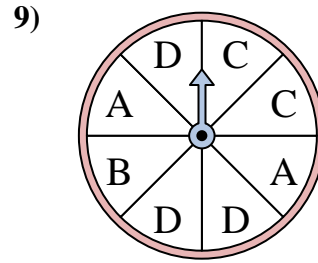
La ruleta tiene un% {EN} {BLANCO} de posibilidades de aterrizar en un C.



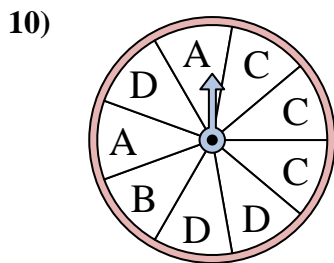
La ruleta tiene un% {EN} {BLANCO} de posibilidades de aterrizar en un 4.



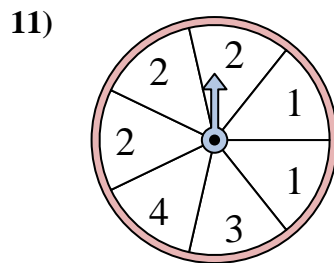
La ruleta tiene un% {EN} {BLANCO} de posibilidades de aterrizar en un C.



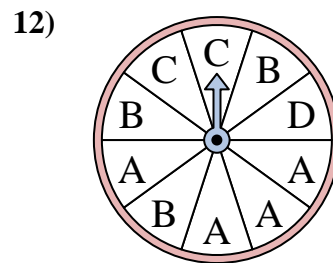
La ruleta tiene un% {EN} {BLANCO} de posibilidades de aterrizar en un D.



La ruleta tiene un% {EN} {BLANCO} de posibilidades de aterrizar en un A.



La ruleta tiene un% {EN} {BLANCO} de posibilidades de aterrizar en un 1.



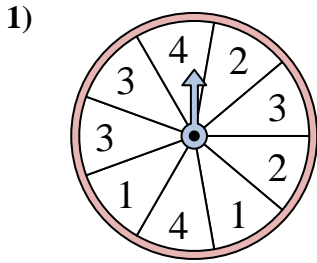
La ruleta tiene un% {EN} {BLANCO} de posibilidades de aterrizar en un A.

1. _____
2. _____
3. _____
4. _____
5. _____
6. _____
7. _____
8. _____
9. _____
10. _____
11. _____
12. _____

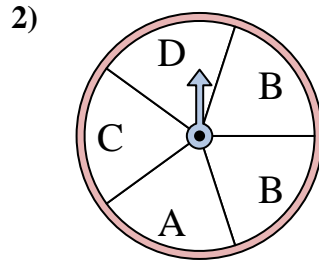


Resuelve cada problema. Redondea tu respuesta a la décima más cercana.

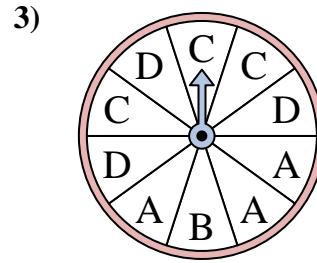
Respuestas



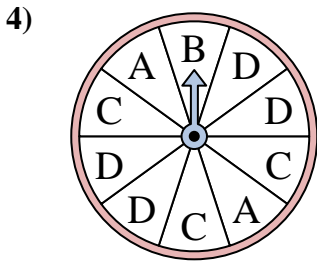
La ruleta tiene un% {EN} {BLANCO} de posibilidades de aterrizar en un 2.



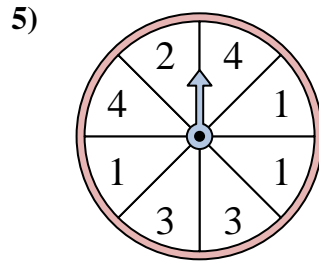
La ruleta tiene un% {EN} {BLANCO} de posibilidades de aterrizar en un D.



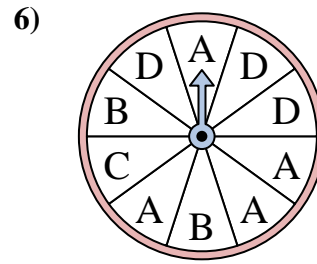
La ruleta tiene un% {EN} {BLANCO} de posibilidades de aterrizar en un B.



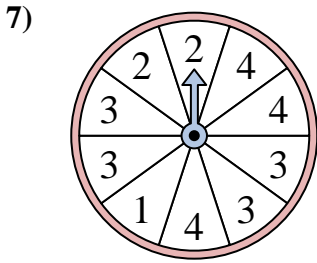
La ruleta tiene un% {EN} {BLANCO} de posibilidades de aterrizar en un A.



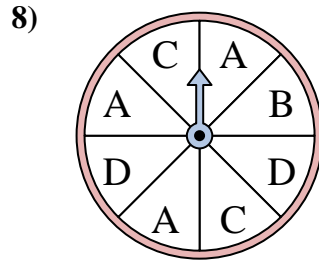
La ruleta tiene un% {EN} {BLANCO} de posibilidades de aterrizar en un 3.



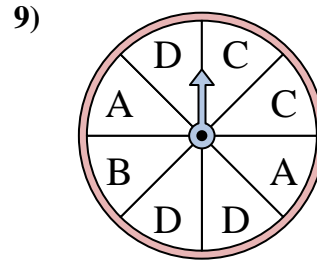
La ruleta tiene un% {EN} {BLANCO} de posibilidades de aterrizar en un C.



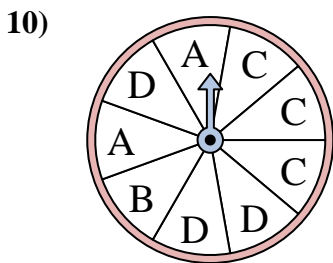
La ruleta tiene un% {EN} {BLANCO} de posibilidades de aterrizar en un 4.



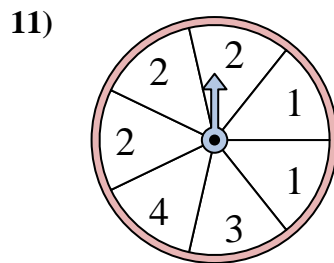
La ruleta tiene un% {EN} {BLANCO} de posibilidades de aterrizar en un C.



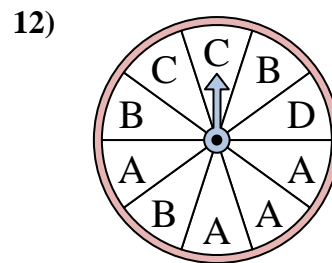
La ruleta tiene un% {EN} {BLANCO} de posibilidades de aterrizar en un D.



La ruleta tiene un% {EN} {BLANCO} de posibilidades de aterrizar en un A.



La ruleta tiene un% {EN} {BLANCO} de posibilidades de aterrizar en un 1.



La ruleta tiene un% {EN} {BLANCO} de posibilidades de aterrizar en un A.

1. 22.2
2. 20
3. 10
4. 20
5. 25
6. 10
7. 30
8. 25
9. 37.5
10. 22.2
11. 28.6
12. 40