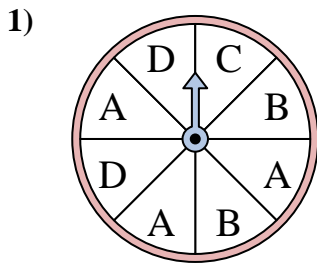


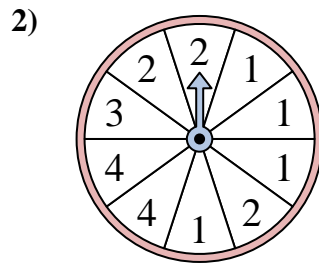


Resuelve cada problema. Redondea tu respuesta a la décima más cercana.

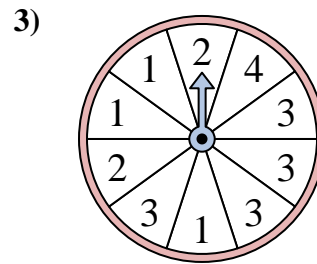
Respuestas



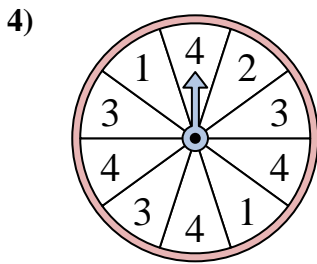
La ruleta tiene un% {EN} {BLANCO} de posibilidades de aterrizar en un C.



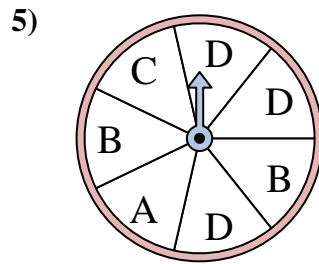
La ruleta tiene un% {EN} {BLANCO} de posibilidades de aterrizar en un 3.



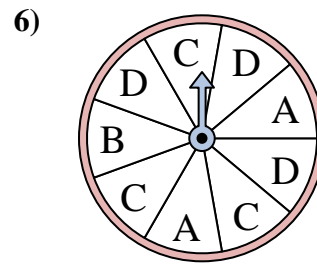
La ruleta tiene un% {EN} {BLANCO} de posibilidades de aterrizar en un 4.



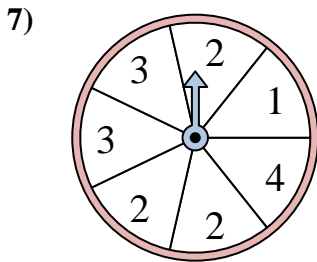
La ruleta tiene un% {EN} {BLANCO} de posibilidades de aterrizar en un 4.



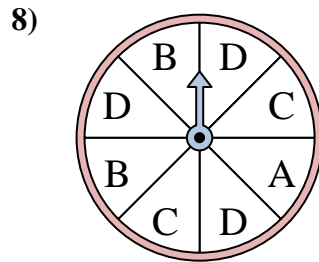
La ruleta tiene un% {EN} {BLANCO} de posibilidades de aterrizar en un C.



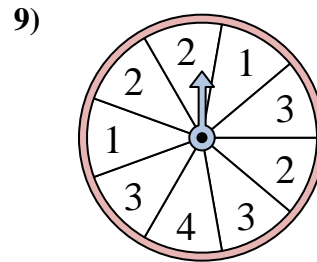
La ruleta tiene un% {EN} {BLANCO} de posibilidades de aterrizar en un C.



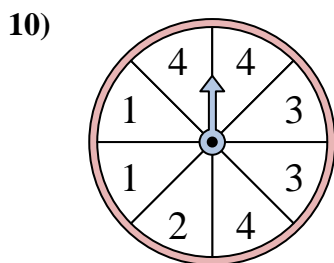
La ruleta tiene un% {EN} {BLANCO} de posibilidades de aterrizar en un 2.



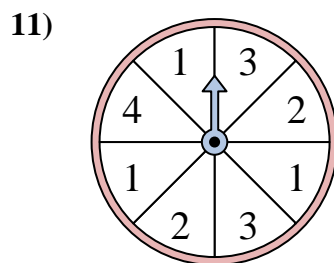
La ruleta tiene un% {EN} {BLANCO} de posibilidades de aterrizar en un D.



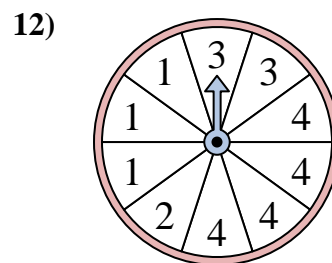
La ruleta tiene un% {EN} {BLANCO} de posibilidades de aterrizar en un 4.



La ruleta tiene un% {EN} {BLANCO} de posibilidades de aterrizar en un 4.



La ruleta tiene un% {EN} {BLANCO} de posibilidades de aterrizar en un 4.



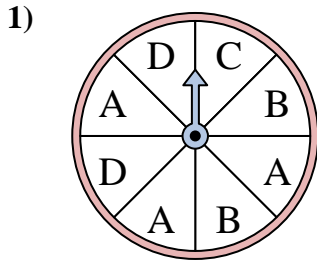
La ruleta tiene un% {EN} {BLANCO} de posibilidades de aterrizar en un 1.

1. _____
2. _____
3. _____
4. _____
5. _____
6. _____
7. _____
8. _____
9. _____
10. _____
11. _____
12. _____

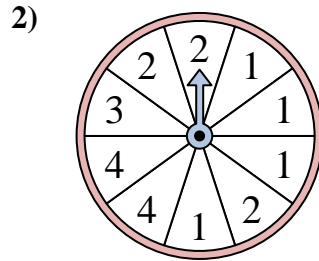


Resuelve cada problema. Redondea tu respuesta a la décima más cercana.

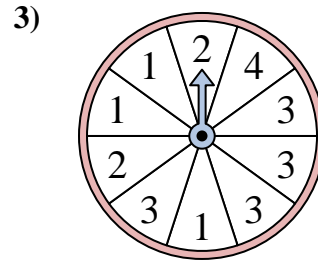
Respuestas



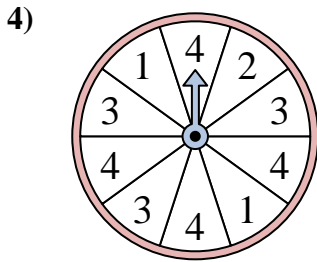
La ruleta tiene un% {EN} {BLANCO} de posibilidades de aterrizar en un C.



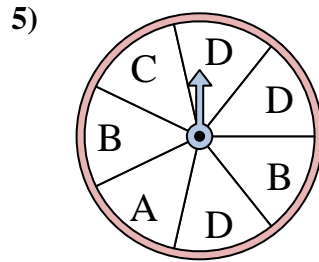
La ruleta tiene un% {EN} {BLANCO} de posibilidades de aterrizar en un 3.



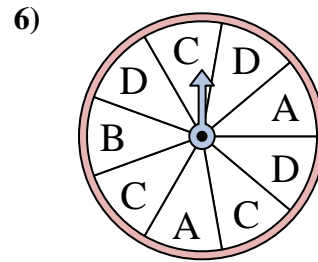
La ruleta tiene un% {EN} {BLANCO} de posibilidades de aterrizar en un 4.



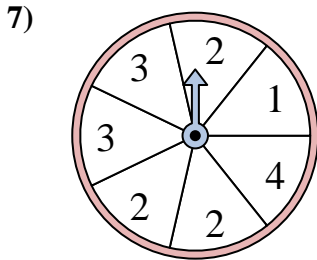
La ruleta tiene un% {EN} {BLANCO} de posibilidades de aterrizar en un 4.



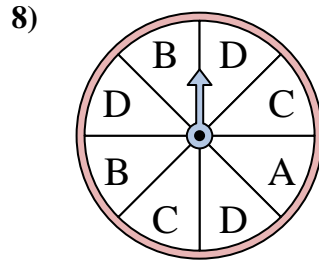
La ruleta tiene un% {EN} {BLANCO} de posibilidades de aterrizar en un C.



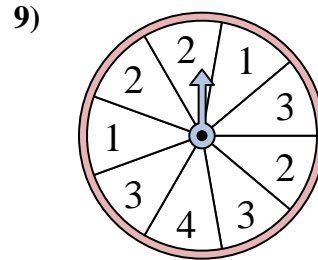
La ruleta tiene un% {EN} {BLANCO} de posibilidades de aterrizar en un C.



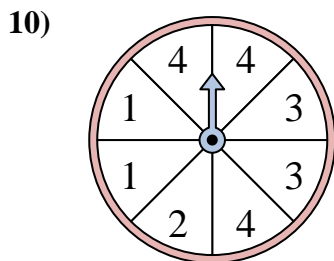
La ruleta tiene un% {EN} {BLANCO} de posibilidades de aterrizar en un 2.



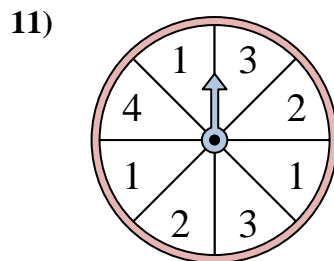
La ruleta tiene un% {EN} {BLANCO} de posibilidades de aterrizar en un D.



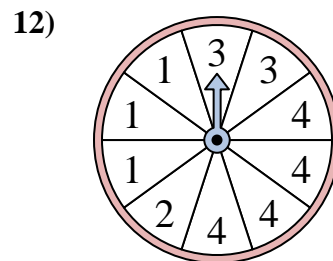
La ruleta tiene un% {EN} {BLANCO} de posibilidades de aterrizar en un 4.



La ruleta tiene un% {EN} {BLANCO} de posibilidades de aterrizar en un 4.



La ruleta tiene un% {EN} {BLANCO} de posibilidades de aterrizar en un 4.



La ruleta tiene un% {EN} {BLANCO} de posibilidades de aterrizar en un 1.

1. 12.5
2. 10
3. 10
4. 40
5. 14.3
6. 33.3
7. 42.9
8. 37.5
9. 11.1
10. 37.5
11. 12.5
12. 30