
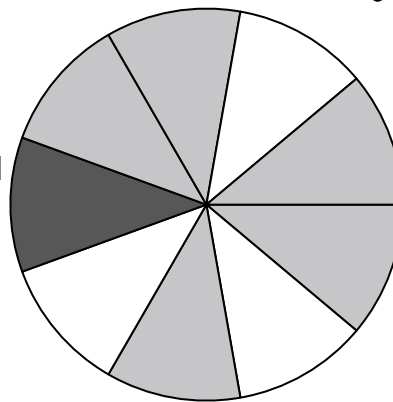


**Usa cada diagrama para resolver los problemas.**

- 1) Si lanzaras los dados una vez, ¿cuál es la probabilidad de que {NOT} caiga en un 1?
- 2) Si lanzaras los dados una vez, ¿cuál es la probabilidad de que caiga en un 6?
- 3) Si lanzaras los dados una vez, ¿cuál es la probabilidad de que caiga en un número Par?

- 4) Si gira la ruleta una vez, ¿cuál es la probabilidad de que caiga sobre una pieza negra?
- 5) Si hace girar la ruleta 1 vez, ¿cuál es la probabilidad de que caiga en una pieza gray o una pieza black?
- 6) ¿Cuántas piezas hay en total en la ruleta?
- 7) Si gira la ruleta una vez, ¿cuál es la probabilidad de que caiga en una pieza gris?
- 8) Si gira la ruleta una vez, ¿cuál es la probabilidad de que caiga sobre una pieza blanca?



- 9) ¿Qué forma tiene un 37.50% de posibilidades (6 de 16) de ser seleccionada?
- 10) Si tuviera que seleccionar 1 forma al azar de la colección, ¿qué forma tiene la mayor probabilidad de seleccionar?
- 11) ¿Cuántas formas hay en total en la colección ?
- 12) Si tuviera que seleccionar 1 forma al azar de la colección, ¿cuál es la probabilidad de que sea un star?

**Respuestas**

1. \_\_\_\_\_
2. \_\_\_\_\_
3. \_\_\_\_\_
4. \_\_\_\_\_
5. \_\_\_\_\_
6. \_\_\_\_\_
7. \_\_\_\_\_
8. \_\_\_\_\_
9. \_\_\_\_\_
10. \_\_\_\_\_
11. \_\_\_\_\_
12. \_\_\_\_\_


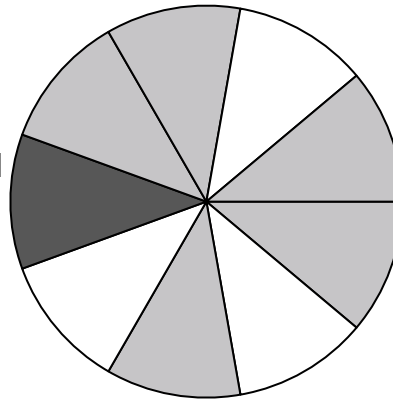


Usa cada diagrama para resolver los problemas.



- 1) Si lanzaras los dados una vez, ¿cuál es la probabilidad de que {NOT} caiga en un 1?
- 2) Si lanzaras los dados una vez, ¿cuál es la probabilidad de que caiga en un 6?
- 3) Si lanzaras los dados una vez, ¿cuál es la probabilidad de que caiga en un número Par?

- 4) Si gira la ruleta una vez, ¿cuál es la probabilidad de que caiga sobre una pieza negra?
- 5) Si hace girar la ruleta 1 vez, ¿cuál es la probabilidad de que caiga en una pieza gray o una pieza black?
- 6) ¿Cuántas piezas hay en total en la ruleta?
- 7) Si gira la ruleta una vez, ¿cuál es la probabilidad de que caiga en una pieza gris?
- 8) Si gira la ruleta una vez, ¿cuál es la probabilidad de que caiga sobre una pieza blanca?



- 9) ¿Qué forma tiene un 37.50% de posibilidades (6 de 16) de ser seleccionada?
- 10) Si tuviera que seleccionar 1 forma al azar de la colección, ¿qué forma tiene la mayor probabilidad de seleccionar?
- 11) ¿Cuántas formas hay en total en la colección ?
- 12) Si tuviera que seleccionar 1 forma al azar de la colección, ¿cuál es la probabilidad de que sea un star?

## Respuestas

1. **5 de 6**
2. **1 de 6**
3. **3 de 6**
4. **1 de 9**
5. **6 de 9**
6. **9**
7. **5 de 9**
8. **3 de 9**
9. **circle**
10. **star**
11. **16**
12. **4 de 16**