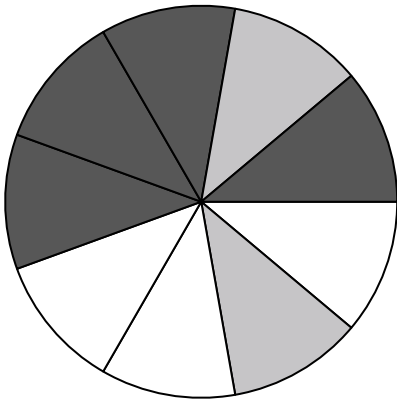





Usa cada diagrama para resolver los problemas.




- 1) Si gira la ruleta una vez, ¿cuál es la probabilidad de que caiga sobre una pieza negra?
- 2) Si hace girar la ruleta 1 vez, ¿cuál es la probabilidad de que caiga en una pieza black o una pieza white?
- 3) Si gira la ruleta una vez, ¿cuál es la probabilidad de que caiga en una pieza gris?
- 4) Si gira la ruleta una vez, ¿cuál es la probabilidad de que caiga sobre una pieza blanca?
- 5) ¿Cuántas piezas hay en total en la ruleta?

-
- 6) Si lanzaras los dados una vez, ¿cuál es la probabilidad de que {NOT} caiga en un 1?



- 7) Si lanzaras los dados una vez, ¿cuál es la probabilidad de que caiga en un 4?
- 8) Si lanzaras los dados una vez, ¿cuál es la probabilidad de que caiga en un número Impar?



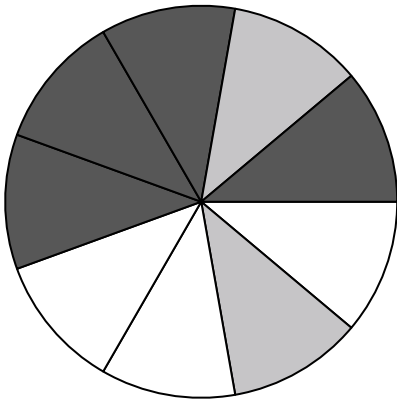
- 9) ¿Qué forma tiene un 40.00% de posibilidades (8 de 20) de ser seleccionada?
- 10) Si tuviera que seleccionar 1 forma al azar de la colección, ¿qué forma tiene la mayor probabilidad de seleccionar?
- 11) Si tuviera que seleccionar 1 forma al azar de la colección, ¿cuál es la probabilidad de que sea un diamond?
- 12) ¿Cuántas formas hay en total en la colección ?

Respuestas

1. _____
2. _____
3. _____
4. _____
5. _____
6. _____
7. _____
8. _____
9. _____
10. _____
11. _____
12. _____




Usa cada diagrama para resolver los problemas.




- 1) Si gira la ruleta una vez, ¿cuál es la probabilidad de que caiga sobre una pieza negra?
- 2) Si hace girar la ruleta 1 vez, ¿cuál es la probabilidad de que caiga en una pieza black o una pieza white?
- 3) Si gira la ruleta una vez, ¿cuál es la probabilidad de que caiga en una pieza gris?
- 4) Si gira la ruleta una vez, ¿cuál es la probabilidad de que caiga sobre una pieza blanca?
- 5) ¿Cuántas piezas hay en total en la ruleta?

-
- 6) Si lanzaras los dados una vez, ¿cuál es la probabilidad de que {NOT} caiga en un 1?



- 7) Si lanzaras los dados una vez, ¿cuál es la probabilidad de que caiga en un 4?
- 8) Si lanzaras los dados una vez, ¿cuál es la probabilidad de que caiga en un número Impar?



- 9) ¿Qué forma tiene un 40.00% de posibilidades (8 de 20) de ser seleccionada?
- 10) Si tuviera que seleccionar 1 forma al azar de la colección, ¿qué forma tiene la mayor probabilidad de seleccionar?
- 11) Si tuviera que seleccionar 1 forma al azar de la colección, ¿cuál es la probabilidad de que sea un diamond?
- 12) ¿Cuántas formas hay en total en la colección ?

Respuestas

1. 4 de 9
2. 7 de 9
3. 2 de 9
4. 3 de 9
5. 9
6. 5 de 6
7. 1 de 6
8. 3 de 6
9. star
10. circle
11. 11 de 20
12. 20