



Usa cada diagrama para resolver los problemas.



- 1) Si lanzaras los dados una vez, ¿cuál es la probabilidad de que {NOT} caiga en un 1?
- 2) Si lanzaras los dados una vez, ¿cuál es la probabilidad de que caiga en un número Par?
- 3) Si lanzaras los dados una vez, ¿cuál es la probabilidad de que caiga en un 4?

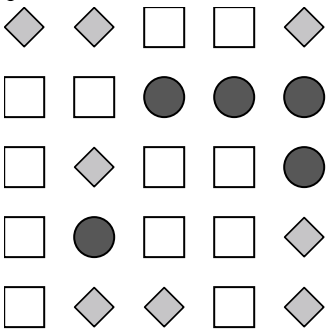
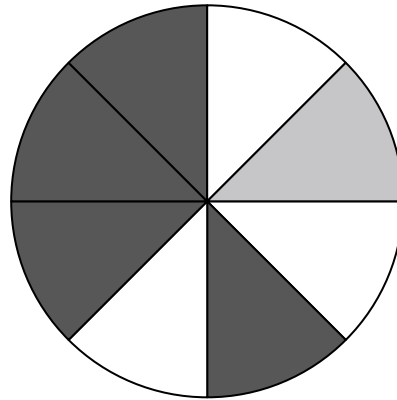
4) Si gira la ruleta una vez, ¿cuál es la probabilidad de que caiga en una pieza gris?

5) Si gira la ruleta una vez, ¿cuál es la probabilidad de que caiga sobre una pieza blanca?

6) ¿Cuántas piezas hay en total en la ruleta?

7) Si hace girar la ruleta 1 vez, ¿cuál es la probabilidad de que caiga en una pieza gray o una pieza white?

8) Si gira la ruleta una vez, ¿cuál es la probabilidad de que caiga sobre una pieza negra?



9) ¿Qué forma tiene un 32.00% de posibilidades (8 de 25) de ser seleccionada?

10) Si tuviera que seleccionar 1 forma al azar de la colección, ¿cuál es la probabilidad de que sea un circle?

11) ¿Cuántas formas hay en total en la colección ?

12) Si tuviera que seleccionar 1 forma al azar de la colección, ¿qué forma tiene la mayor probabilidad de seleccionar?

Respuestas

- 1. _____
- 2. _____
- 3. _____
- 4. _____
- 5. _____
- 6. _____
- 7. _____
- 8. _____
- 9. _____
- 10. _____
- 11. _____
- 12. _____

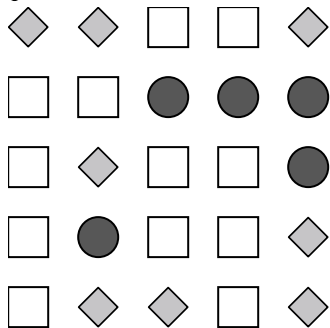
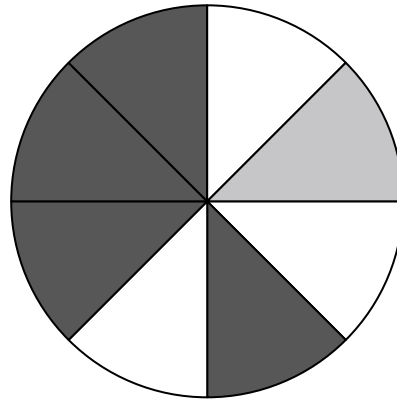


Usa cada diagrama para resolver los problemas.



- 1) Si lanzaras los dados una vez, ¿cuál es la probabilidad de que {NOT} caiga en un 1?
- 2) Si lanzaras los dados una vez, ¿cuál es la probabilidad de que caiga en un número Par?
- 3) Si lanzaras los dados una vez, ¿cuál es la probabilidad de que caiga en un 4?

- 4) Si gira la ruleta una vez, ¿cuál es la probabilidad de que caiga en una pieza gris?
- 5) Si gira la ruleta una vez, ¿cuál es la probabilidad de que caiga sobre una pieza blanca?
- 6) ¿Cuántas piezas hay en total en la ruleta?
- 7) Si hace girar la ruleta 1 vez, ¿cuál es la probabilidad de que caiga en una pieza gray o una pieza white?
- 8) Si gira la ruleta una vez, ¿cuál es la probabilidad de que caiga sobre una pieza negra?



- 9) ¿Qué forma tiene un 32.00% de posibilidades (8 de 25) de ser seleccionada?
- 10) Si tuviera que seleccionar 1 forma al azar de la colección, ¿cuál es la probabilidad de que sea un circle?
- 11) ¿Cuántas formas hay en total en la colección ?
- 12) Si tuviera que seleccionar 1 forma al azar de la colección, ¿qué forma tiene la mayor probabilidad de seleccionar?

Respuestas

- 1. 5 de 6
- 2. 3 de 6
- 3. 1 de 6
- 4. 1 de 8
- 5. 3 de 8
- 6. 8
- 7. 4 de 8
- 8. 4 de 8
- 9. diamond
- 10. 5 de 25
- 11. 25
- 12. circle