




Usa cada diagrama para resolver los problemas.



- 1) Si tuviera que seleccionar 1 forma al azar de la colección, ¿cuál es la probabilidad de que sea un heart?
- 2) Si tuviera que seleccionar 1 forma al azar de la colección, ¿qué forma tiene la mayor probabilidad de seleccionar?
- 3) ¿Cuántas formas hay en total en la colección ?
- 4) ¿Qué forma tiene un 36.00% de posibilidades (9 de 25) de ser seleccionada?

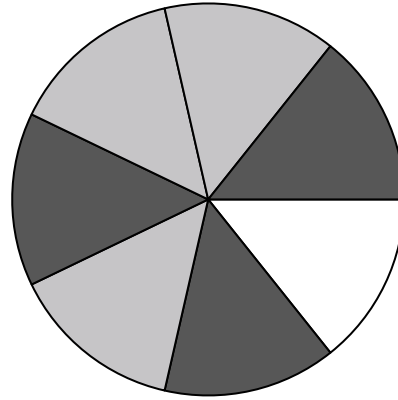
5) ¿Cuántas piezas hay en total en la ruleta?

6) Si gira la ruleta una vez, ¿cuál es la probabilidad de que caiga sobre una pieza blanca?

7) Si gira la ruleta una vez, ¿cuál es la probabilidad de que caiga en una pieza gris?

8) Si hace girar la ruleta 1 vez, ¿cuál es la probabilidad de que caiga en una pieza black o una pieza white?

9) Si gira la ruleta una vez, ¿cuál es la probabilidad de que caiga sobre una pieza negra?



10) Si lanzaras los dados una vez, ¿cuál es la probabilidad de que {NOT} caiga en un 1?

11) Si lanzaras los dados una vez, ¿cuál es la probabilidad de que caiga en un 3?


12) Si lanzaras los dados una vez, ¿cuál es la probabilidad de que caiga en un número Impar?

Respuestas

1. _____
2. _____
3. _____
4. _____
5. _____
6. _____
7. _____
8. _____
9. _____
10. _____
11. _____
12. _____



Usa cada diagrama para resolver los problemas.



- 1) Si tuviera que seleccionar 1 forma al azar de la colección, ¿cuál es la probabilidad de que sea un heart?
- 2) Si tuviera que seleccionar 1 forma al azar de la colección, ¿qué forma tiene la mayor probabilidad de seleccionar?
- 3) ¿Cuántas formas hay en total en la colección ?
- 4) ¿Qué forma tiene un 36.00% de posibilidades (9 de 25) de ser seleccionada?

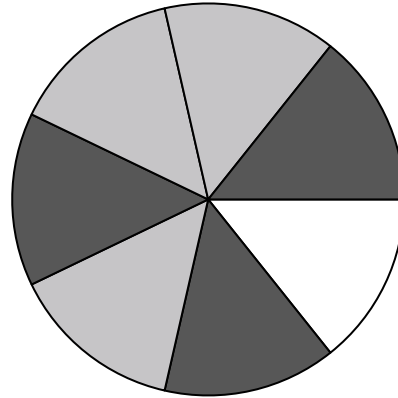
5) ¿Cuántas piezas hay en total en la ruleta?

6) Si gira la ruleta una vez, ¿cuál es la probabilidad de que caiga sobre una pieza blanca?

7) Si gira la ruleta una vez, ¿cuál es la probabilidad de que caiga en una pieza gris?

8) Si hace girar la ruleta 1 vez, ¿cuál es la probabilidad de que caiga en una pieza black o una pieza white?

9) Si gira la ruleta una vez, ¿cuál es la probabilidad de que caiga sobre una pieza negra?



- 10) Si lanzaras los dados una vez, ¿cuál es la probabilidad de que {NOT} caiga en un 1?
- 11) Si lanzaras los dados una vez, ¿cuál es la probabilidad de que caiga en un 3?
- 12) Si lanzaras los dados una vez, ¿cuál es la probabilidad de que caiga en un número Impar?

Respuestas

1. 8 de 25
2. circle
3. 25
4. diamond
5. 7
6. 1 de 7
7. 3 de 7
8. 4 de 7
9. 3 de 7
10. 5 de 6
11. 1 de 6
12. 3 de 6