


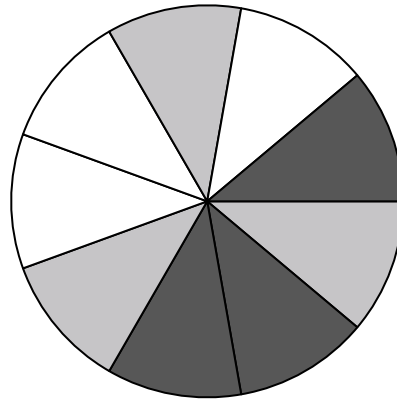


Usa cada diagrama para resolver los problemas.



- 1) Si lanzaras los dados una vez, ¿cuál es la probabilidad de que caiga en un 6?
- 2) Si lanzaras los dados una vez, ¿cuál es la probabilidad de que {NOT} caiga en un 1?
- 3) Si lanzaras los dados una vez, ¿cuál es la probabilidad de que caiga en un número Impar?

- 4) Si hace girar la ruleta 1 vez, ¿cuál es la probabilidad de que caiga en una pieza black o una pieza white?
- 5) Si gira la ruleta una vez, ¿cuál es la probabilidad de que caiga sobre una pieza negra?
- 6) Si gira la ruleta una vez, ¿cuál es la probabilidad de que caiga en una pieza gris?
- 7) ¿Cuántas piezas hay en total en la ruleta?
- 8) Si gira la ruleta una vez, ¿cuál es la probabilidad de que caiga sobre una pieza blanca?



- 9) ¿Cuántas formas hay en total en la colección ?
- 10) Si tuviera que seleccionar 1 forma al azar de la colección, ¿cuál es la probabilidad de que sea un diamond?
- 11) Si tuviera que seleccionar 1 forma al azar de la colección, ¿qué forma tiene la mayor probabilidad de seleccionar?
- 12) ¿Qué forma tiene un 45.00% de posibilidades (9 de 20) de ser seleccionada?

Respuestas

1. _____
2. _____
3. _____
4. _____
5. _____
6. _____
7. _____
8. _____
9. _____
10. _____
11. _____
12. _____


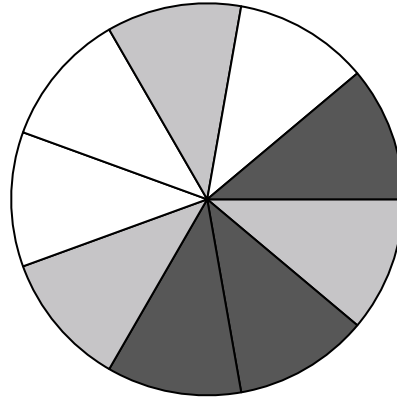


Usa cada diagrama para resolver los problemas.



- 1) Si lanzaras los dados una vez, ¿cuál es la probabilidad de que caiga en un 6?
- 2) Si lanzaras los dados una vez, ¿cuál es la probabilidad de que {NOT} caiga en un 1?
- 3) Si lanzaras los dados una vez, ¿cuál es la probabilidad de que caiga en un número Impar?

- 4) Si hace girar la ruleta 1 vez, ¿cuál es la probabilidad de que caiga en una pieza black o una pieza white?
- 5) Si gira la ruleta una vez, ¿cuál es la probabilidad de que caiga sobre una pieza negra?
- 6) Si gira la ruleta una vez, ¿cuál es la probabilidad de que caiga en una pieza gris?
- 7) ¿Cuántas piezas hay en total en la ruleta?
- 8) Si gira la ruleta una vez, ¿cuál es la probabilidad de que caiga sobre una pieza blanca?



- 9) ¿Cuántas formas hay en total en la colección ?
- 10) Si tuviera que seleccionar 1 forma al azar de la colección, ¿cuál es la probabilidad de que sea un diamond?
- 11) Si tuviera que seleccionar 1 forma al azar de la colección, ¿qué forma tiene la mayor probabilidad de seleccionar?
- 12) ¿Qué forma tiene un 45.00% de posibilidades (9 de 20) de ser seleccionada?

Respuestas

1. 1 de 6
2. 5 de 6
3. 3 de 6
4. 6 de 9
5. 3 de 9
6. 3 de 9
7. 9
8. 3 de 9
9. 20
10. 4 de 20
11. diamond
12. star