



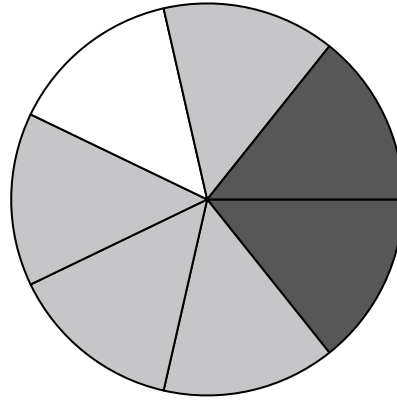


Usa cada diagrama para resolver los problemas.



- 1) Si tuviera que seleccionar 1 forma al azar de la colección, ¿cuál es la probabilidad de que sea un diamond?
- 2) Si tuviera que seleccionar 1 forma al azar de la colección, ¿qué forma tiene la mayor probabilidad de seleccionar?
- 3) ¿Cuántas formas hay en total en la colección ?
- 4) ¿Qué forma tiene un 30.00% de posibilidades (6 de 20) de ser seleccionada?

- 5) Si gira la ruleta una vez, ¿cuál es la probabilidad de que caiga sobre una pieza negra?
- 6) Si gira la ruleta una vez, ¿cuál es la probabilidad de que caiga en una pieza gris?
- 7) Si hace girar la ruleta 1 vez, ¿cuál es la probabilidad de que caiga en una pieza white o una pieza gray?
- 8) ¿Cuántas piezas hay en total en la ruleta?
- 9) Si gira la ruleta una vez, ¿cuál es la probabilidad de que caiga sobre una pieza blanca?




- 10) Si lanzaras los dados una vez, ¿cuál es la probabilidad de que caiga en un número Par?
- 11) Si lanzaras los dados una vez, ¿cuál es la probabilidad de que {NOT} caiga en un 1?
- 12) Si lanzaras los dados una vez, ¿cuál es la probabilidad de que caiga en un 5?

Respuestas

1. _____
2. _____
3. _____
4. _____
5. _____
6. _____
7. _____
8. _____
9. _____
10. _____
11. _____
12. _____

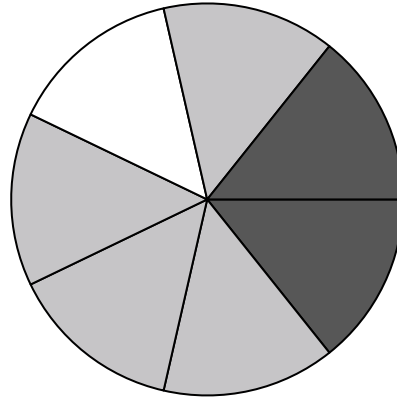


Usa cada diagrama para resolver los problemas.



- 1) Si tuviera que seleccionar 1 forma al azar de la colección, ¿cuál es la probabilidad de que sea un diamond?
- 2) Si tuviera que seleccionar 1 forma al azar de la colección, ¿qué forma tiene la mayor probabilidad de seleccionar?
- 3) ¿Cuántas formas hay en total en la colección ?
- 4) ¿Qué forma tiene un 30.00% de posibilidades (6 de 20) de ser seleccionada?

- 5) Si gira la ruleta una vez, ¿cuál es la probabilidad de que caiga sobre una pieza negra?
- 6) Si gira la ruleta una vez, ¿cuál es la probabilidad de que caiga en una pieza gris?
- 7) Si hace girar la ruleta 1 vez, ¿cuál es la probabilidad de que caiga en una pieza white o una pieza gray?
- 8) ¿Cuántas piezas hay en total en la ruleta?
- 9) Si gira la ruleta una vez, ¿cuál es la probabilidad de que caiga sobre una pieza blanca?



- 10) Si lanzaras los dados una vez, ¿cuál es la probabilidad de que caiga en un número Par?
- 11) Si lanzaras los dados una vez, ¿cuál es la probabilidad de que {NOT} caiga en un 1?
- 12) Si lanzaras los dados una vez, ¿cuál es la probabilidad de que caiga en un 5?

Respuestas

1. 5 de 20
2. diamond
3. 20
4. square
5. 2 de 7
6. 4 de 7
7. 5 de 7
8. 7
9. 1 de 7
10. 3 de 6
11. 5 de 6
12. 1 de 6