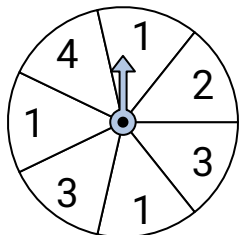
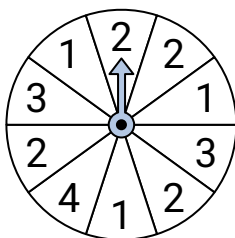


**Resuelve cada problema.**

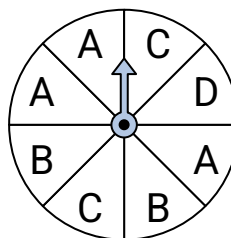
- 1) ¿Qué dos números tienen la misma probabilidad en la ruleta?



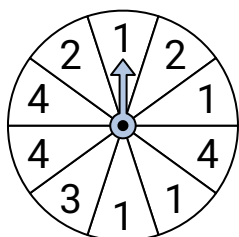
- 2) ¿Qué número es el menos probable en la ruleta?



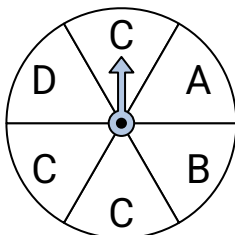
- 3) ¿Qué dos letras tienen la misma probabilidad en la ruleta?



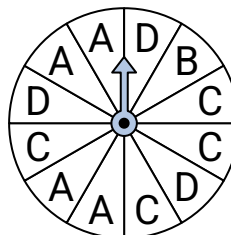
- 4) ¿Qué número es el menos probable en la ruleta?



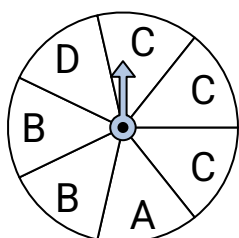
- 5) ¿Qué letra es la más probable en la ruleta?



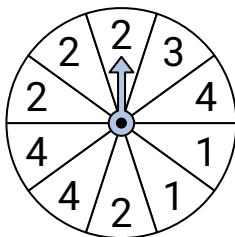
- 6) ¿Qué letra es la menos probable en la ruleta?



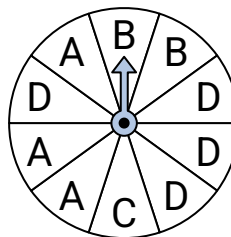
- 7) ¿Qué dos letras tienen la misma probabilidad en la ruleta?



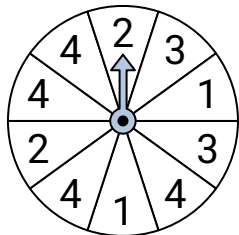
- 8) ¿Qué número es el más probable en la ruleta?



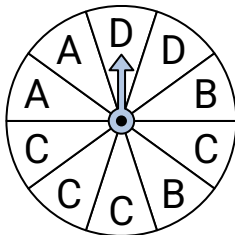
- 9) ¿Qué letra es la más probable en la ruleta?



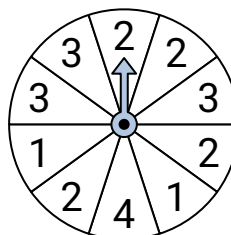
- 10) ¿Qué número es el más probable en la ruleta?



- 11) ¿Qué letra es la más probable en la ruleta?



- 12) ¿Qué número es el menos probable en la ruleta?

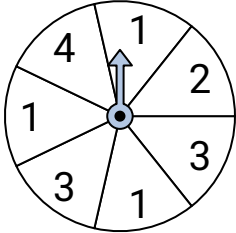
**Respuestas**

1. \_\_\_\_\_
2. \_\_\_\_\_
3. \_\_\_\_\_
4. \_\_\_\_\_
5. \_\_\_\_\_
6. \_\_\_\_\_
7. \_\_\_\_\_
8. \_\_\_\_\_
9. \_\_\_\_\_
10. \_\_\_\_\_
11. \_\_\_\_\_
12. \_\_\_\_\_

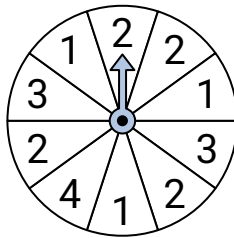


Resuelve cada problema.

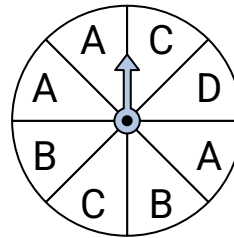
- 1) ¿Qué dos números tienen la misma probabilidad en la ruleta?



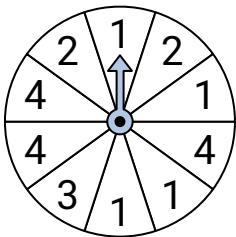
- 2) ¿Qué número es el menos probable en la ruleta?



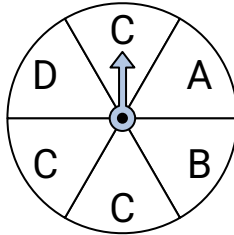
- 3) ¿Qué dos letras tienen la misma probabilidad en la ruleta?



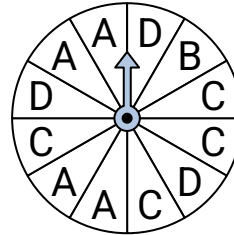
- 4) ¿Qué número es el menos probable en la ruleta?



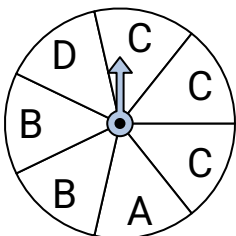
- 5) ¿Qué letra es la más probable en la ruleta?



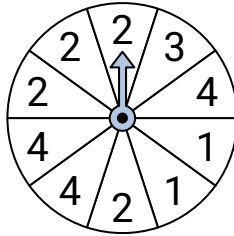
- 6) ¿Qué letra es la menos probable en la ruleta?



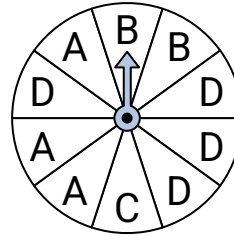
- 7) ¿Qué dos letras tienen la misma probabilidad en la ruleta?



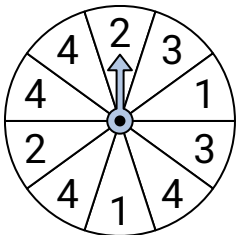
- 8) ¿Qué número es el más probable en la ruleta?



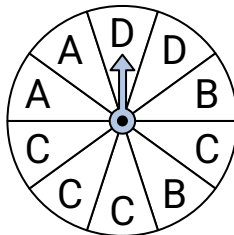
- 9) ¿Qué letra es la más probable en la ruleta?



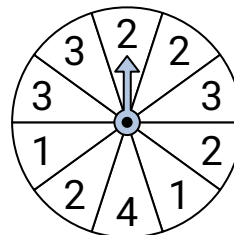
- 10) ¿Qué número es el más probable en la ruleta?



- 11) ¿Qué letra es la más probable en la ruleta?



- 12) ¿Qué número es el menos probable en la ruleta?

**Respuestas**

1. **2 & 4**
2. **4**
3. **B & C**
4. **3**
5. **C**
6. **B**
7. **A & D**
8. **2**
9. **D**
10. **4**
11. **C**
12. **4**