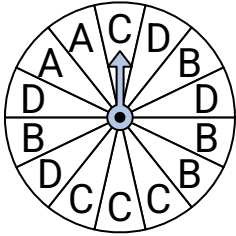
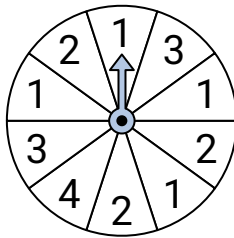


**Resuelve cada problema.**

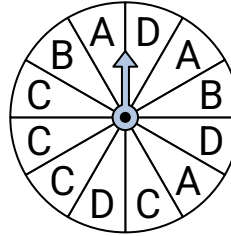
- 1) ¿Qué letra es la menos probable en la ruleta?



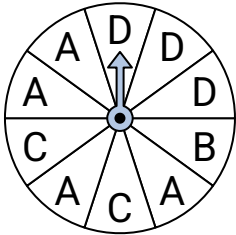
- 2) ¿Qué número es el menos probable en la ruleta?



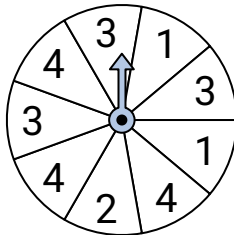
- 3) ¿Qué letra es la menos probable en la ruleta?



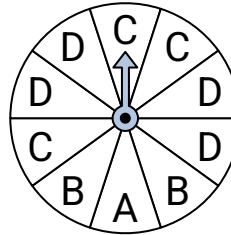
- 4) ¿Qué letra es la menos probable en la ruleta?



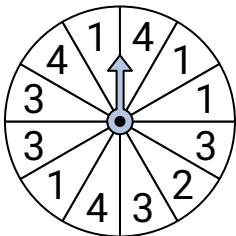
- 5) ¿Qué dos números tienen la misma probabilidad en la ruleta?



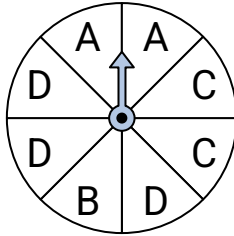
- 6) ¿Qué letra es la más probable en la ruleta?



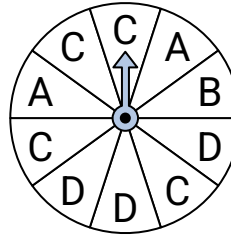
- 7) ¿Qué número es el menos probable en la ruleta?



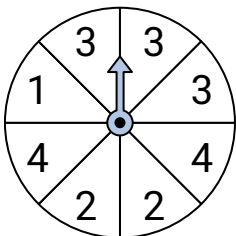
- 8) ¿Qué letra es la más probable en la ruleta?



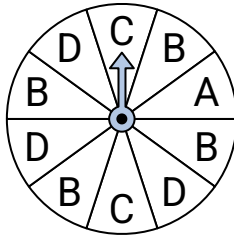
- 9) ¿Qué letra es la menos probable en la ruleta?



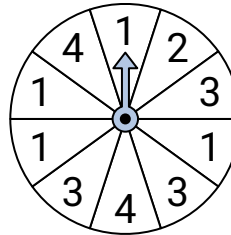
- 10) ¿Qué dos números tienen la misma probabilidad en la ruleta?



- 11) ¿Qué letra es la más probable en la ruleta?



- 12) ¿Qué número es el más probable en la ruleta?

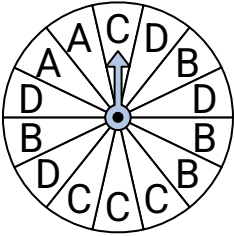
**Respuestas**

1. _____
2. _____
3. _____
4. _____
5. _____
6. _____
7. _____
8. _____
9. _____
10. _____
11. _____
12. _____

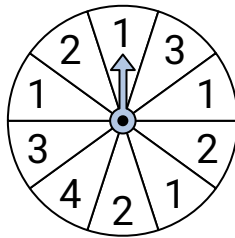


Resuelve cada problema.

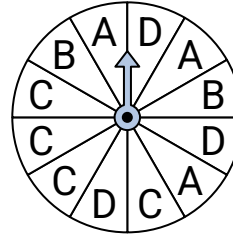
- 1) ¿Qué letra es la menos probable en la ruleta?



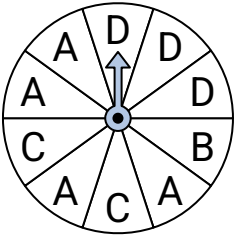
- 2) ¿Qué número es el menos probable en la ruleta?



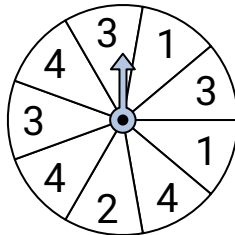
- 3) ¿Qué letra es la menos probable en la ruleta?



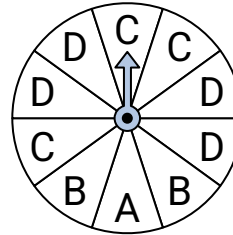
- 4) ¿Qué letra es la menos probable en la ruleta?



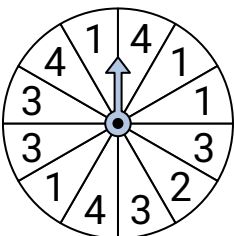
- 5) ¿Qué dos números tienen la misma probabilidad en la ruleta?



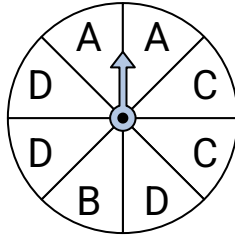
- 6) ¿Qué letra es la más probable en la ruleta?



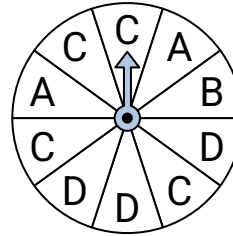
- 7) ¿Qué número es el menos probable en la ruleta?



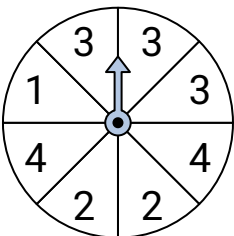
- 8) ¿Qué letra es la más probable en la ruleta?



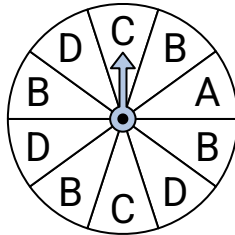
- 9) ¿Qué letra es la menos probable en la ruleta?



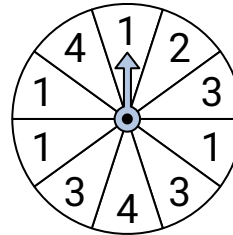
- 10) ¿Qué dos números tienen la misma probabilidad en la ruleta?



- 11) ¿Qué letra es la más probable en la ruleta?



- 12) ¿Qué número es el más probable en la ruleta?

**Respuestas**

1. **A**
2. **4**
3. **B**
4. **B**
5. **3 & 4**
6. **D**
7. **2**
8. **D**
9. **B**
10. **2 & 4**
11. **B**
12. **1**