





Resuelve cada problema.

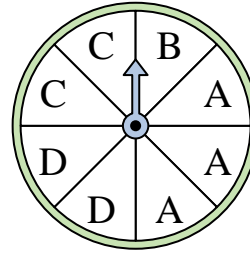
1) ¿En qué número es más probable que caiga la ruleta?



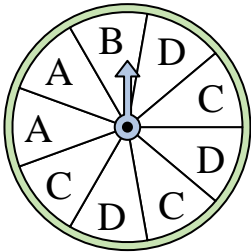
2) ¿En qué número es menos probable que caiga la ruleta?



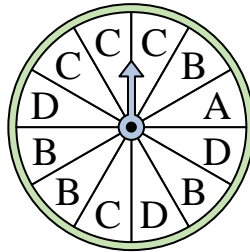
3) ¿En qué dos letras es igualmente probable que caiga la ruleta?



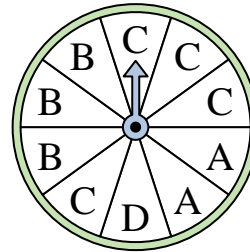
4) ¿En qué dos letras es igualmente probable que caiga la ruleta?



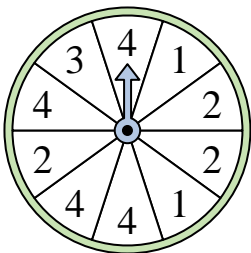
5) ¿En qué letra es menos probable que caiga la ruleta?



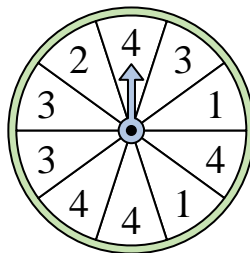
6) ¿En qué letra es menos probable que caiga la ruleta?



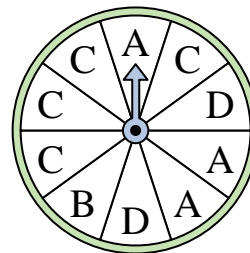
7) ¿En qué número es más probable que caiga la ruleta?



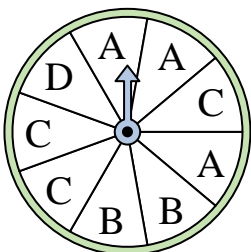
8) ¿En qué número es más probable que caiga la ruleta?



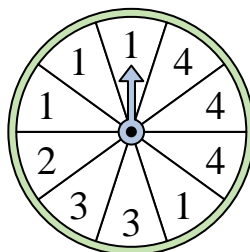
9) ¿En qué letra es menos probable que caiga la ruleta?



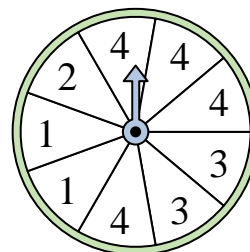
10) ¿En qué dos letras es igualmente probable que caiga la ruleta?



11) ¿En qué número es menos probable que caiga la ruleta?



12) ¿En qué número es más probable que caiga la ruleta?




Respuestas

1. _____
2. _____
3. _____
4. _____
5. _____
6. _____
7. _____
8. _____
9. _____
10. _____
11. _____
12. _____




Resuelve cada problema.

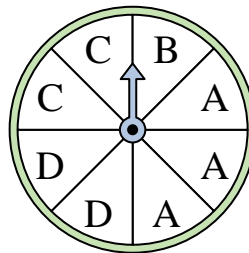
- 1) ¿En qué número es más probable que caiga la ruleta?



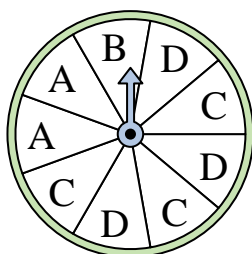
- 2) ¿En qué número es menos probable que caiga la ruleta?



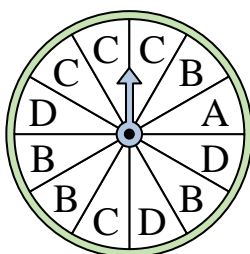
- 3) ¿En qué dos letras es igualmente probable que caiga la ruleta?



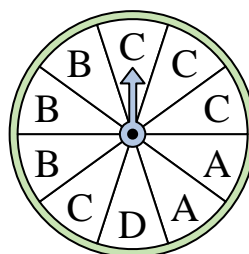
- 4) ¿En qué dos letras es igualmente probable que caiga la ruleta?



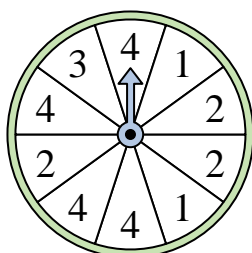
- 5) ¿En qué letra es menos probable que caiga la ruleta?



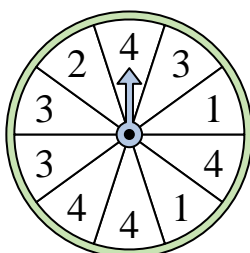
- 6) ¿En qué letra es menos probable que caiga la ruleta?



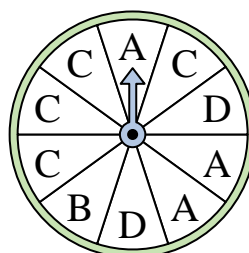
- 7) ¿En qué número es más probable que caiga la ruleta?



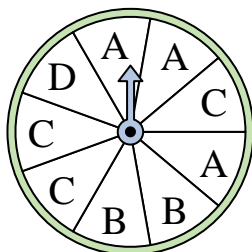
- 8) ¿En qué número es más probable que caiga la ruleta?




- 9) ¿En qué letra es menos probable que caiga la ruleta?



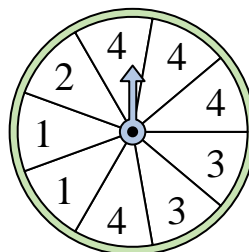
- 10) ¿En qué dos letras es igualmente probable que caiga la ruleta?



- 11) ¿En qué número es menos probable que caiga la ruleta?



- 12) ¿En qué número es más probable que caiga la ruleta?



Respuestas

1. 2
2. 1
3. C & D
4. C & D
5. A
6. D
7. 4
8. 4
9. B
10. A & C
11. 2
12. 4